

ОКРУЖАЮЩИЙ МИР 2 КЛАСС УМК «ШКОЛА  
РОССИИ»

# ТЕСТ ПО ТЕМЕ «БЕРЕГИСЬ АВТОМОБИЛЯ!»



ВЫПОЛНИЛА РАБОТУ  
УЧИТЕЛЬ НАЧАЛЬНЫХ КЛАССОВ  
ГБОУ ШКОЛЫ №439 Г. МОСКВЫ  
НЕГОДЯЕВА ГАЛИНА  
АЛЕКСЕЕВНА



# ОРГАНИЗАЦИОННЫЙ МОМЕНТ



Вот звонок нам дал сигнал:  
Поработать час настал.  
Так что время не теряем  
И работать начинаем.



# АКТУАЛИЗАЦИЯ МЫСЛИТЕЛЬНОЙ ДЕЯТЕЛЬНОСТИ

Движеньем полон город-  
Бегут машины в ряд,  
Цветные светофоры  
И день, и ночь горят.  
Но кто при красном свете  
Шагает напрямик?  
А это мальчик Петя-  
Хвостун и озорник.

Волнуются шоферы,  
Во все гудки гудят,  
Колеса и моторы  
Остановить хотят.  
Свернул водитель круто,  
Вспотел как никогда:  
Еще одна минута-  
Случилась бы беда.

- О чём это стихотворение?
- Что такое правила дорожного движения?
- Для чего они нужны?



# ЦЕЛИ И ЗАДАЧИ

- Обобщить знания учащихся о дорожных знаках и сигналах светофора.
- Проверить знания основных правил перехода улицы, которые должен соблюдать пешеход; сигналов обычного и пешеходного светофоров; основных дорожных знаков, необходимые пешеходу «Пешеходный переход», «Надземный пешеходный переход», «Подземный пешеходный переход», «Пешеходная дорожка», «Движение пешеходов запрещено», «Движение на велосипедах запрещено», «Дети».
- Развивать уважение к участникам дорожного движения; умение проводить рефлекссию результатов своей деятельности.



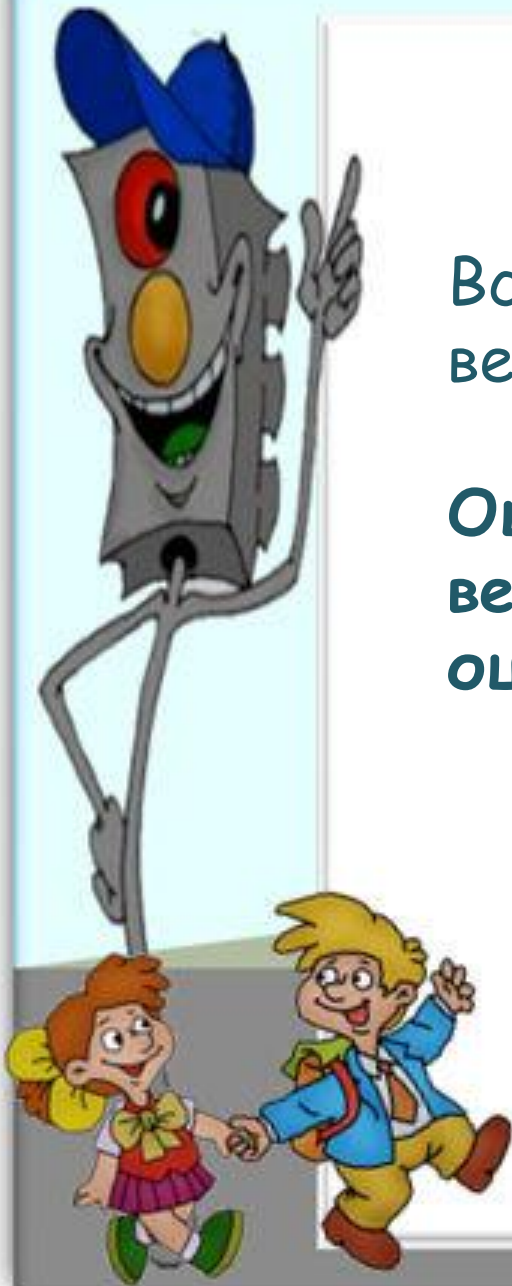


# РЕКОМЕНДАЦИИ

Все 15 заданий предполагают один верный ответ.

Оценивание результатов: каждое верно выполненное задание оценивается в 1 балл.

- 80 - 100% - оценка «5»;
- 60 - 80% - оценка «4»;
- 40 - 60% - оценка «3»;
- 0 - 40% - оценка «2».



# ТАБЛИЦА ОТВЕТОВ ДЛЯ КАЖДОГО УЧЕНИКА

№														
1	2	3	4	5	6	7	8	9	10	11	12	13	14	15

В пустой клетке (под № вопроса) ученик ставит букву выбранного ответа.



# Задание №1

Где можно переходить проезжую часть?

- а) по пешеходному переходу
- б) в любом месте
- в) там, где нет транспорта



# Задание №2

## Что такое светофор?

а) дорожный знак, запрещающий движение транспорта

б) дорожный знак, запрещающий движение пешеходов

в) прибор для регулирования движения машин и пешеходов







# Задание №3

В какой последовательности  
меняются сигналы светофора?

а)



б)




в)




# Задание №4

На какой сигнал светофора можно переходить дорогу?

а)



б)



в)



## Задание №5

Как переходить улицу, если рядом нет светофора и пешеходного перехода?

а) быстро перебежать дорогу

б) посмотреть налево, дойдя до середины дороги, посмотреть направо

в) смело переходить дорогу, водитель сам остановится



# Задание №6

**Какой переход является самым безопасным?**

- а) пешеходный переход по «зебре»
- б) на светофоре
- в) подземный переход





# Задание №7

Что должен делать пешеход при зелёном сигнале светофора для автотранспорта?


- а) стоять
- б) готовиться к движению
- в) переходить улицу




# Задание №8

Какой сигнал светофора запрещает движение?

а)



б)



в)



# Задание №9

Какое транспортное средство  
надо обходить спереди?


а)



б)



в)



# Задание №10

Что означают знаки треугольной формы в красной рамке?

а) разрешают совершать какие-то действия

б) сообщают о том, что находится впереди

в) предупреждают о возможной опасности





# Задание №11

Что означают знаки круглой формы в красной рамке?

а) запрещают совершать какие-то действия

б) сообщают о том, что находится впереди

в) предупреждают о возможной опасности



# Задание №12

Где можно ездить на велосипеде?

а) на проезжей части дороги

б) на тротуаре

в) там, где разрешающие знаки



# Задание №13

С какого возраста можно  
ездить на велосипеде  
по проезжей части?

а) с 13 лет

б) с 14 лет

в) с 15 лет



# Задание №14

Что должен обязательно прикрепить к своей одежде и сумке пешеход, если он движется по дороге с плохой видимости тёмное время суток?

- а) несколько стикеров
- б) несколько фликеров
- в) несколько бантиков





# Задание №15

В каком направлении должен идти пешеход по обочине загородной дороги?

а) по обочине, навстречу движению машин

б) по обочине, по направлению движения машин

в) по проезжей части дороги



# КЛЮЧ К ТЕСТУ



№	1	2	3	4	5	6	7	8	9	10	11	12	13	14	15
а	а	а	а	а	а	а	а	а	а	а	а	а	а	а	а
б	б	б	б	б	б	б	б	б	б	б	б	б	б	б	б
в	в	в	в	в	в	в	в	в	в	в	в	в	в	в	в

Максимальное количество - 15 баллов.



# САМООЦЕНКА

- Тест состоит из 15 вопросов, все задания предполагают один верный ответ.
- Оценивание результатов: каждое верно выполненное задание оценивается в 1 балл.
- 80 - 100% - оценка «5»;
- 60 - 80% - оценка «4»;
- 40 - 60% - оценка «3»;
- 0 - 40% - оценка «2».



# РЕФЛЕКСИЯ

- Выберите и продолжите любое предложение:
- Сегодня на уроке я выполнял(а) .....
- На этом уроке я похвалил(а) бы себя за .....
- После урока мне захотелось.....
- Сегодня я сумел(а).....







Детям знать положено  
Правила дорожные!  
Ты, дружок, доверься им:  
Будешь цел и невредим!



**СПАСИБО  
ЗА РАБОТУ  
НА УРОКЕ!  
ЖЕЛАЮ УДАЧИ!**



# Использованная литература

Контрольно-измерительные материалы. Окружающий мир. 2 класс. Автор И.Ф.

