

Что такое карта и как её читать



Учитель: Матющенко Людмила Ивановна

Карта – это уменьшенное
изображение земной
поверхности на плоскости
с помощью условных
знаков.



- ✓ Рассмотрите фотографии в учебнике на стр. **94-95**. Они сделаны в разных местах нашей страны.
- ✓ Найдите эти места на карте на стр. **92-93**.


Проверка.

РОССИЯ. ФИЗИЧЕСКАЯ КАРТА



Север Зап Камчатка ирь океан

Условные знаки



равнина



вода



горы



река



болото



города



столица

Физическая карта России



Восточно – Сибирская равнина



Западно – Сибирская равнина



Среднесибирское плоскогорье



Восточно – Европейская равнина

- От западных границ России до Уральских гор раскинулась Русская равнина. Эта равнина – величайшая в мире. Её площадь превышает 5 миллионов квадратных километров. Поверхность Русской равнины не совсем ровная. Здесь есть низменности и возвышенности, много холмов. Такие равнины называются **ХОЛМИСТЫМИ.**



© Евгений Брук, 2003

Западно – Сибирская равнина



К востоку от Уральских гор расположена Западно – Сибирская равнина. Это огромная низменность. Поверхность её очень ровная: на многие-многие километры нет ни понижений, ни повышений. Такие равнины называются **плоскими**. Западно-Сибирская равнина – самая плоская и самая низкая из огромных равнин Земли



Среднесибирское плоскогорье



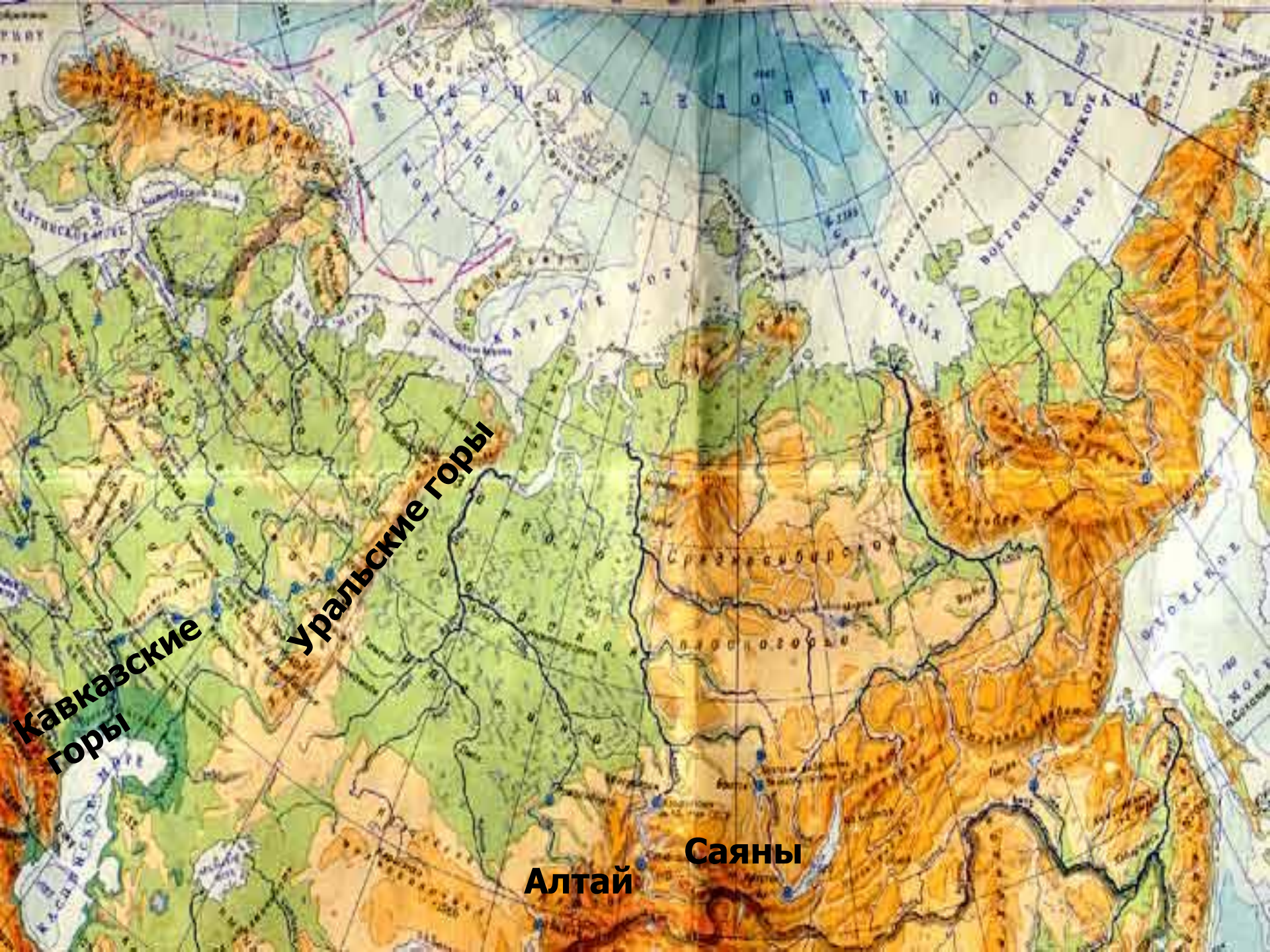
К востоку от Западно-Сибирской равнины лежит Среднесибирское плоскогорье. Это тоже равнина, хотя выглядит она совсем иначе. Здесь преобладают возвышенные пространства с плоской поверхностью и довольно крутыми склонами, напоминающими горную местность. Отсюда название – **«плоскогорье»**.

**Кавказские
горы**

Уральские горы

Алтай


Саяны



**Эльбрус – самая высочайшая
гора России .
5642м**



Уральские горы



Уральские горы протянулись через всю страну. Они довольно низкие: ниже 2000м. Здесь добывают **малахит** и драгоценный камень – **изумруд**.

Ключевская сопка – самый
высокий вулкан России. 4750м





***Действующий
вулкан
на Камчатке***




гейзер

Проверь себя

- ▣ **Найди Уральские горы. Между какими равнинами находятся эти горы.**
- ▣ **Найдите реку Волгу. В какое море она впадает?**
- ▣ **Найдите озеро Байкал.**
- ▣ **Вспомним условные знаки.**

Условные знаки



Найди на карте острова и полуострова

- Кольский п – ов
- ост. Новая Земля
- ост. Северная Земля
- Новосибирские ост.
- п – ов Таймыр
- ост. Врангеля
- п-ов Камчатка
- ост. Сахалин
- Курильские ост..

