


Викторина по окружающему миру во 2 классе



Какое изделие было частью живой природы?

1. Кирпичный дом
2. Глиняная кружка
3. Льняная юбка
4. Стальной нож



Какое растение выращивают люди для использования в пищу?

1. Берёза
2. Редис
3. Астра
4. Одуванчик



Какой признак является основным у птиц?



1. Это летающие животные
2. Это травоядные животные
3. Тело этих животных покрыто перьями



Подчеркни в каждом ряду
«лишнее» слово.

ель, яблоня, сосна,

лиственница

тюльпан, нарцисс, астра,

ирис

я,

ол


оника,

мак



Какие учёные занимаются вопросами охраны окружающего мира?

1. Биологи
2. Экологи
3. Зоологи



Что делает страус в случае опасности?

1. Быстро убегает
2. Пытается защищаться
3. Прячет голову в песок



Отгадай загадку


Всю ночь летает –
Мышей добывает.
А станет светло –
Спать летит в дупло.

СОВА




Определи время года

*Солнце скрылось за тучами.
Косяк журавлей, курлыча,
пролетает над лесом. Только ели и
сосны радуются своему зелёному
наряду*



ОСЕНЬ



Под елями зимой остаётся много остатков от обеда клестов: чешуйки и семена шишек. Какое значение имеют для ели чешуйки и семена?



- 1. удобряют почву**
- 2. способствуют размножению растений**
- 3. являются пищей для животных**



Ответ на вопрос из сказки

Какое огородное растение при определённом волшебном воздействии может стать каретой?



Назови самую маленькую птичку

колибри



Выбери примету, не относящуюся к осени.


1. Воздух становится холоднее.
2. Возвращаются домой перелётные ПТИЦЫ.
3. Трава увяла, пожелтела.
4. Часто идут **осящие**



Зачем человеку нужно сохранять правильную осанку?

1. Для занятий спортом.
2. Для занятий танцами.
3. Для правильного развития организма.
4. Для хороших сна.





**Ты в доме один, в дверь
позвонили.
Как ты поступишь?**

- 1. Дверь не открою. Скажу, что один.**
- 2. Дверь не открою. Спрошу к кому пришли и попрошу прийти позже, когда родители будут дома.**
- 3. Скажу, что сейчас позову папу и пойду звонить в полицию по телефону 02.**
- 4. Дверь сразу открою.**

Вставь в предложения пропущенные числа

У птиц ___ ноги, а у насекомых ___ ног.
У птиц ___ крыла, а у насекомых - ___ или ___ крылышка.



Закончи предложение:

На месте цветов образуются

_____ .

листья.


плоды с семенами.

почки.



Отгадай загадку.

Гос
Без пиль




ТИЛ,
ЫМОСТИЛ.

**Кто из перечисленных
животных не является птицей?**



Чем стрекочет кузнечик?



1. Трением ноги о крыло
2. Трением крыла о крыло
3. Трением ноги об ногу
4. Трением надкрыльев

Какая река на Земле самая длинная?

1. Нил

2. Амазонка

3. Волга



МОЛОДЦЫ!!!

**Неплохо справились, в
следующий раз будет
труднее!!!**