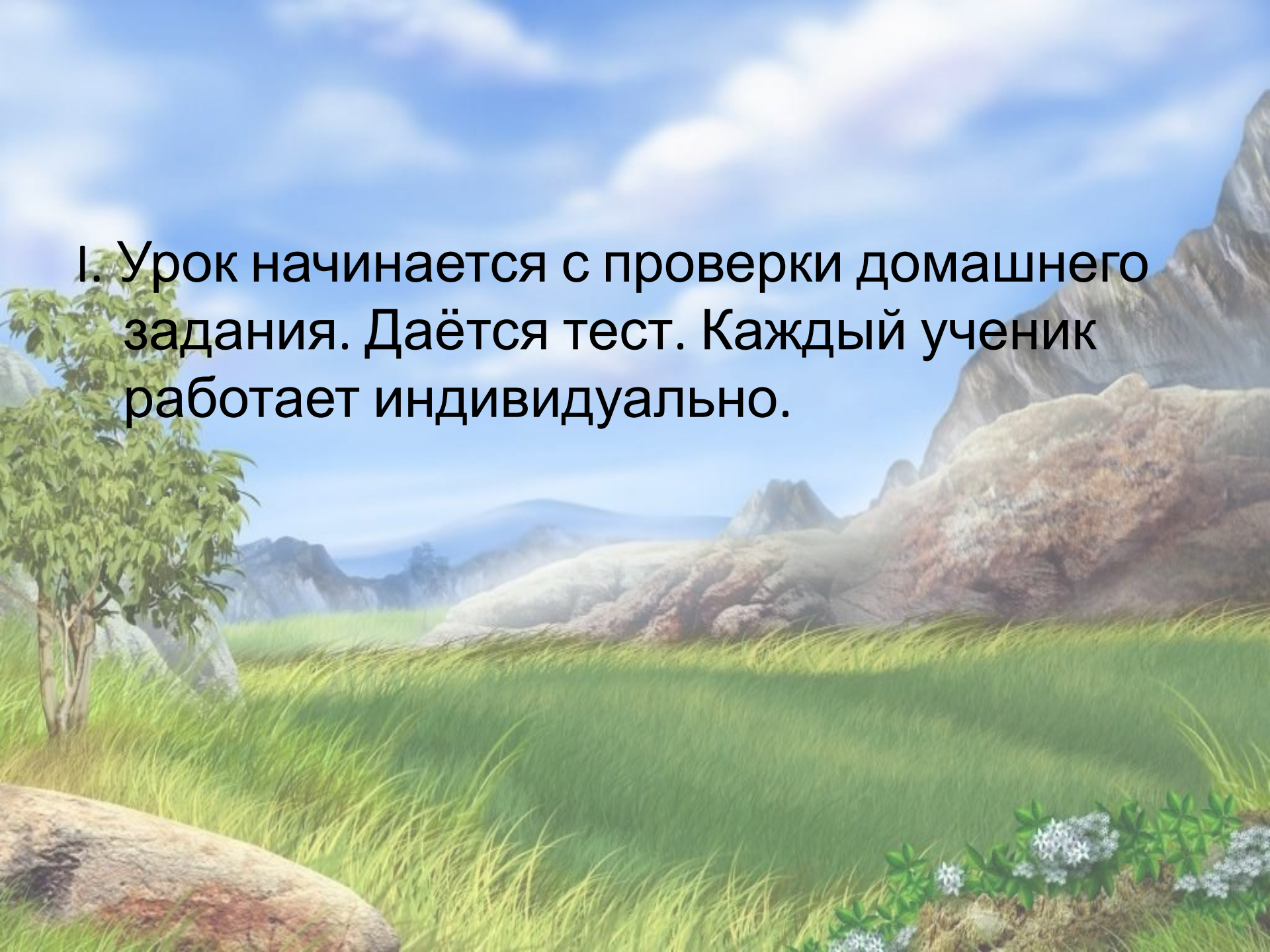


Урок окружающего мира
4 класс
Тема «Средние века: время
рыцарей и замков»



- **Цели урока:**

- Опираясь на знания учащихся, подготовить их к изучению истории Средних веков. Сформировать у учащихся представление о Средневековье как об одном из периодов Всеобщей истории.
- Формирование умений правильно применять счет лет в истории, устанавливать длительность и хронологию событий, правильно употреблять и объяснять исторические термины.
- Развитие творческих способностей учащихся, через создание геральдической символики рыцарей Средних веков.
- Воспитание у учащихся положительных качеств: храбрости, мужества, благородства, любви к Родине.

A scenic landscape featuring a lush green field of tall grass in the foreground. A small tree with green leaves stands on the left. In the background, there are large, rocky mountains under a bright blue sky with scattered white clouds. The overall scene is bright and vibrant.

I. Урок начинается с проверки домашнего задания. Даётся тест. Каждый ученик работает индивидуально.

1. Кем являлся Бог Анубис в Древнем Египте?

1. Богом Солнца

2. Проводником в подземный мир

3. Богом плодородия

4. У Египтян не было такого Бога

2. Сопоставь изображения богов и их имена



1. Бог Ра

2. Бог
Анубис

3. Бог Тот

4. Бог Себек

2. Сопоставь изображения Богов и их имена



1. Бог Ра

2. Бог
Анубис

3. Бог Тот

4. Бог Себек

2. Сопоставь изображения Богов и их имена



1. Бог Ра

2. Бог
Анубис

3. Бог Тот

4. Бог Себек

2. Сопоставь изображения Богов и их имена



1. Бог Ра

2. Бог
Анубис

3. Бог Тот

4. Бог Себек


3. Древнеегипетские иероглифы читаются:

1. Справа
налево

2. Слева
направо

3. Сверху
вниз

4. Снизу
вверх



4. Долина Царей была построена в:

построена в:



1. Древнем Египте

2. Древней Греции

3. Древнем Риме

4. Древней Руси

5. Родиной олимпийских игр является:



1. Древний
Египет

2. Древняя
Греция

3. Древний Рим

4. Древняя Русь

6. Каждая из букв алфавита называлась словом, начинавшимся с той же буквы.

Такой алфавит был изобретен в:

Αα...Ωω

Αα	Альфа	Νν	Ню
Ββ	Бета	Ξξ	Кси
Γγ	Гамма	Οο	Омикрон
Δδ	Дельта	Ππ	Пи
Εε	Эпсилон	Ρρ	Ро
Ζζ	Дзета	Σσς	Сигма
Ηη	Эта	Ττ	Тау
Θθ	Тета	Υυ	Ипсилон
Ιι	Йота	Φφ	Фи
Κκ	Каппа	Χχ	Хи
Λλ	Лямбда	Ψψ	Пси
Μμ	Мю	Ωω	Омега

1. Древнем Египте

2. Древней Греции

3. Древнем Риме

4. Древней Руси

7. Акведук – это:

1. Водовод

2. Статуя

3. Город в Риме

4. Правитель

8. Сопоставь изображение и его название:




1. Акведук

2. Круг Зевса

3. Акрополь

4. Колизей

8. Сопоставь изображение и его название:



1. Акведук

2. Круг Зевса

3. Акрополь

4. Колизей

8. Сопоставь изображение и его название:



1. Акведук

2. Круг Зевса

3. Акрополь

4. Колизей

8. Сопоставь изображение и его название:



1. Акведук

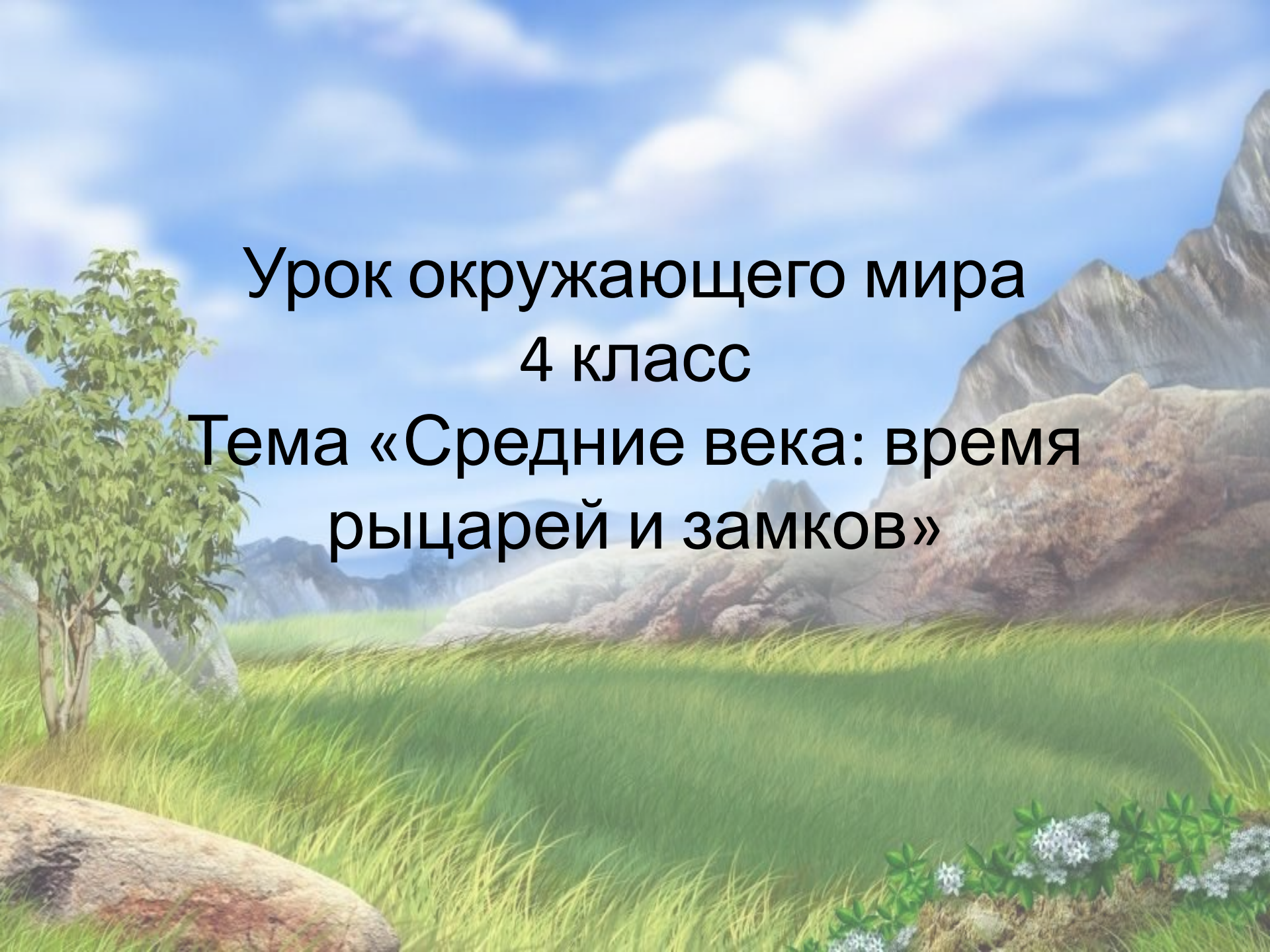
2. Круг Зевса

3. Акрополь

4. Коллизей

ОТВЕТЫ

Вопрос	Ответ
1	2
2.	1, 2, 4, 3
3.	1
4.	1
5.	2
6.	2
7.	1
8.	4, 1, 2, 3



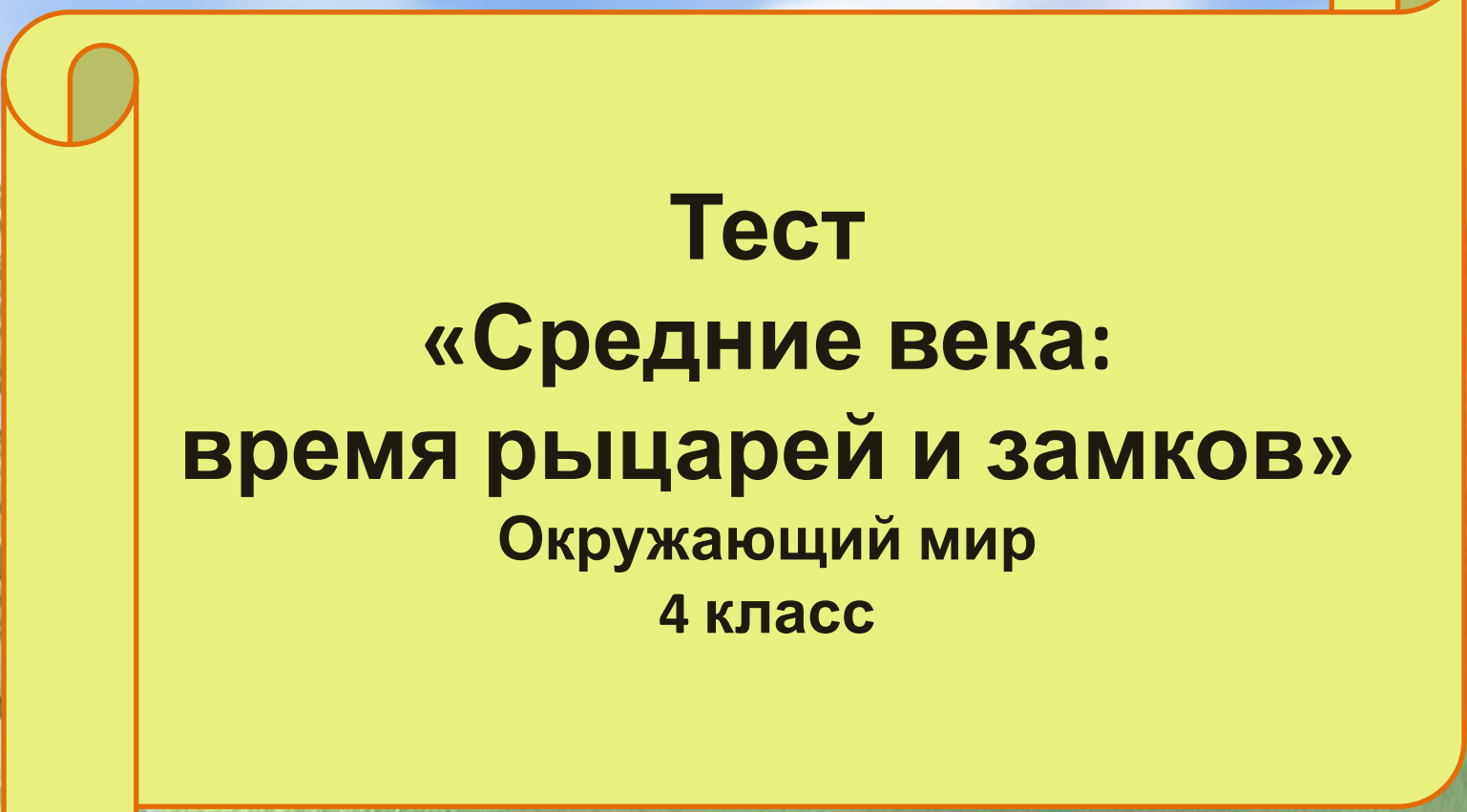
Урок окружающего мира
4 класс
Тема «Средние века: время
рыцарей и замков»

Парижский дворец Консьержери









Тест
**«Средние века:
время рыцарей и замков»**
Окружающий мир
4 класс



**Дорогой друг!
Пройди тест.
Найди правильный ответ,
нажми на него.
Выполнишь всё правильно –
найдешь клад!**




Какое время продолжалась эпоха
Средневековья?

100 лет

1000 лет

10 000 лет




Какая религия распространилась по Европе в период Средневековья?

Христианство

Ислам

Буддизм




От какого слова произошло слово «рыцарь»?

Всадник

Храбрец

Воин




Какое препятствие на подступах к замку было первым?

Подъемный мост

Ров

Каменные стены




Какая религия возникла у арабов на Ближнем Востоке?

Христианство

Ислам

Буддизм




Как называется мусульманское здание для
МОЛИТВ?

Храм

Собор

Мечеть



Какое сооружение относится к Средневековью?

Колизей

Пирамиды

Консьержери



Каким было любимое развлечение рыцарей?

Цирк

Турниры

Театр



Какое изобретение относится к средневековью?

Алфавит

Паровоз

Книгопечатание



Какой город возник в Средневековье?

Париж

Рим

Афины



Почему замок считался непригодным жильем?

Холодно и сыро

Нет защиты от врагов

Нет помещений для сна



Всё правильно!



III. Рефлексия.

IV. Домашнее задание.

