

Б	2Л			
Р	И		4Л	О
У	С	3М	И	Л
С	Т	Е	П	Ь
Н	В	Д	А	Х
И	Е	В		А
К	Н	Е		
А	Н	Д		
	И	Ь		
	Ц			
	А			

ТЕМА: ЗОНА СТЕПЕЙ





Зона степей расположена южнее зоны лесов, она тянется вдоль юго-западной границы России.

Степи — огромные ровные пространства, поросшие высокими травами



Весной тающий снег и выпадающие осадки хорошо увлажняют почву. Степь оживает: всюду зелёные растения, многие цветут яркими цветками. Степь яркая, нарядная.

Растения степей

- **КОВЫЛЬ**



ТИПЧАК



ПОЛЫНЬ



Животный мир степей



Птицы степей





Грызуны.



Насекомые








Красная книга.



Степи и человек

Много солнца, длинное теплое лето, плодородные почвы – все это позволяет выращивать ценные культуры. Основное занятие населения в степной зоне : садоводство, земледелие, ЖИВОТНОВОДСТВО.



Зона степей

1. Зона степей расположена на
... нашей страны:

а) севере

б) востоке

в) юге

**2. На карте природных зон
зона степей закрашена ...
цветом:**

а) розовым

б) зеленым

в) желтым

г) коричневым

3. Что является природным богатством степей?

а) богатые перегноем чернозёмные почвы

б) густые леса

в) большое количество болот

4. Главная причина безлесья этой природной зоны:

а) вырубка деревьев

б) недостаток влаги

в) вытаптывание животными

5. Характерный признак зоны степей – это ...

- а) сплошной травянистый растительный покров**
- б) отсутствие сплошного растительного покрова**
- в) обилие мхов, лишайников, кустарников**

**6. Какое время года
благоприятно для степных
растений?**

а) зима

б) весна

в) лето

г) осень

7. К степным птицам относятся...

- а) белые журавли, краснозобые казарки, розовые чайки**
- б) ястребы, кедровки, сойки**
- в) журавли – красавки, дрофы, пустельги**

8. Для растений степи характерны:

- а) стелющиеся корни, крупные листья**
- б) длинные корни, мясистые стебли,
листья – колючки**
- в) корни – луковицы или пучки, узкие
тонкие листья или толстые мясистые
стебли и такие же листья.**

9. Какая из цепей питания характерна для степи:

а) ежевика → лемминг → песец

б) водоросли → рачки → сайка → гагарка

в) растения → заяц – беляк → рысь

г) зерно → суслик → орел – беркут

10. Основным занятием населения степей является...

а) земледелие

б) рыболовство

в) оленеводство

11. В степи по вине человека появились следующие экологические проблемы.....

- а) вырубка, загрязнение бытовым мусором, браконьерство, неограниченное заготовление древесины**
- б) распашка земель, неумеренный выпас скота, браконьерство**
- в) загрязнение поверхности нефтью, браконьерство, неограниченный выпас**

12. В Красную книгу занесены следующие степные растения и животные:

- а) кречет, стерх, краснозобая казарка
- б) пион тонколистный, журавль-красавка, степная дыбка
- в) зубр, филин, женьшень.

Самопроверка

1) в; 2) г; 3) а; 4) б; 5) а; 6) б; 7) в; 8) в; 9) г
10) а; 11) б; 12) б.