

# ***Что такое карта и как её читать***



***Карта*** – это уменьшенное  
изображение земной  
поверхности на плоскости  
с помощью условных  
знаков.



- ✓ Рассмотрите фотографии в учебнике на стр. **94-95**. Они сделаны в разных местах нашей страны.
- ✓ Найдите эти места на карте на стр. **92-93**.


# Проверка.

РОССИЯ. ФИЗИЧЕСКАЯ КАРТА



Северный Ледовитый океан  
Западная Сибирь  
Камчатка  
Японское море

# Условные знаки



равнина



вода



горы



река



болото



города



столица

# Физическая карта России



## Восточно – Сибирская равнина



## Западно – Сибирская равнина



## Среднесибирское плоскогорье



# Восточно – Европейская равнина

- От западных границ России до Уральских гор раскинулась Русская равнина. Эта равнина – величайшая в мире. Её площадь превышает 5 миллионов квадратных километров. Поверхность Русской равнины не совсем ровная. Здесь есть низменности и возвышенности, много холмов. Такие равнины называются **ХОЛМИСТЫМИ.**





# Западно – Сибирская равнина



К востоку от Уральских гор расположена Западно – Сибирская равнина. Это огромная низменность. Поверхность её очень ровная: на многие-многие километры нет ни понижений, ни повышений. Такие равнины называются **плоскими**. Западно-Сибирская равнина – самая плоская и самая низкая из огромных равнин Земли



# Среднесибирское плоскогорье

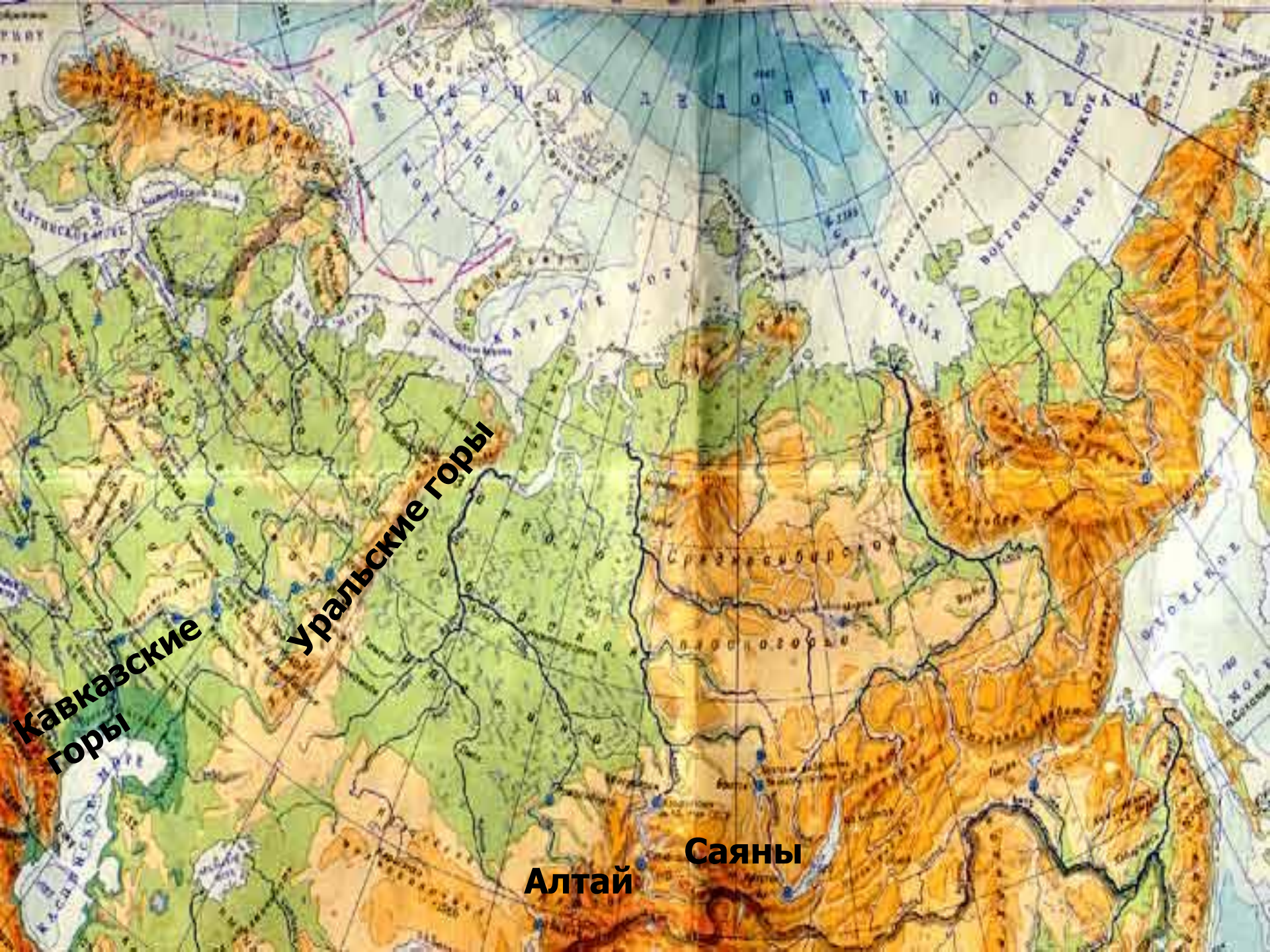


К востоку от Западно-Сибирской равнины лежит Среднесибирское плоскогорье. Это тоже равнина, хотя выглядит она совсем иначе. Здесь преобладают возвышенные пространства с плоской поверхностью и довольно крутыми склонами, напоминающими горную местность. Отсюда название – **«плоскогорье»**.

**Кавказские  
горы**

**Уральские горы**


**Алтай Саяны**



**Эльбрус – самая высочайшая  
гора России .  
5642м**



# Уральские горы



Уральские горы протянулись через всю страну. Они довольно низкие: ниже 2000м. Здесь добывают **малахит** и драгоценный камень – **изумруд**.

Ключевская сопка – самый  
высокий вулкан России. 4750м





***Действующий  
вулкан  
на Камчатке***






***гейзер***

# Проверь себя

- ▣ **Найди Уральские горы. Между какими равнинами находятся эти горы.**
- ▣ **Найдите реку Волгу. В какое море она впадает?**
- ▣ **Найдите озеро Байкал.**
- ▣ **Вспомним условные знаки.**

# Условные знаки



# Найди на карте острова и полуострова

- Кольский п – ов
- ост. Новая Земля
- ост. Северная Земля
- Новосибирские ост.
- п – ов Таймыр
- ост. Врангеля
- п-ов Камчатка
- ост. Сахалин
- Курильские ост..

