




Игра-викторина


ВСЁ ОБО ВСЁМ



Вопрос №1

Какие листья имеют узорную форму с острыми углами?

- А) дубовые,
- Б) липовые
- В) еловые
- Г) кленовые




Вопрос №2

Узнай по описанию:

Эта равнина - величайшая в мире. Её поверхность не совсем ровная. Здесь есть низменности, возвышенности, холмы.

- А) Восточно-Европейская равнина
- Б) Западно-Сибирская равнина
- В) Среднесибирское плоскогорье



Вопрос №3

Самые высокие горы России:

А) Кавказские горы



Б) Уральские горы




В) вулканы Камчатки



Задание №4



К экологическим проблемам относится:

- А) Спасение тропических лесов;
- Б) Борьба с международным терроризмом;
- В) Борьба с ростом цен;
- Г) Проблема переработки мусора



Вопрос №5


Изображение какого животного является эмблемой Всемирного фонда дикой природы?



Вопрос №6

Как переводится название «Гринпис»?

- А) «Зеленый двор»
- Б) «Зеленый мир»
- В) «Зеленый дом»





Вопрос №7

Какое звено в цепи питания пропущено?



Вопрос №8

Найди флаг России:



Разгадай ребусы:

сзж

40а





1



1, 2, 3



1, 2



1



рона



$T = D$



4,3,5,2,1






5, 3, 2
40

1'

$\Pi = Д$







vremyazabav.ru vremy 1,3,2,3 ru
T=K / av.ru vr yaz
vremyazabav.ru vremyaza
abav yazabav.ru
vremyazabav.ru vremyaza





$$K=T$$







Белка, медведь,
лось, кабан,
рысь, енот,
заяц, волк, ёж,
барсук, лиса.

