

# Окружающий мир

## 2 класс




*УМК «Школа России»*

**Автор работы:  
учитель начальных классов  
МОУ «СОШ ст. Евсино»  
Фокина Лидия Петровна**

**2011 год**

**Тест по теме**  
**«Для чего нужен**  
**компас?»**

# Инструкция:

1. Прочитай внимательно вопрос.
2. Прочитай внимательно все ответы. Помни, что ответов может быть несколько.
3. Выбери  ,  ,  , соответствующую (или фигуры) , , , соответствующую вашему ответу.
4. Нарисуй на своём контрольном листе.

# 1. Найди группу, в которой правильно названы стороны горизонта.

- △ север, запад, юго-восток
- северо-запад, северо-восток, юго-запад
- юг, запад, восток

## 2. Для чего нужен компас?

- Для того, чтобы находить дорогу.
- Для того, чтобы определять стороны горизонта.
- Для того, чтобы не заблудиться.

**3. С какой буквой должен совпадать синий конец стрелки?**

△ С

□ Ю

○ З

## 4. С какой стороны чаще растут мхи и лишайники?

 на севере

 на северо-западе

 на востоке

## 5. Предметы из какого материала влияют на точность показаний компаса?

- из дерева
- из металла
- из камня




## 6. Человеку какой профессии необходим компас?



лётчику



инженеру



агроному

## 7. В какой стране изобрели компас?

- в Индии
- в Америке
- в Китае


**8. Представь, что ты пошёл в лес за грибами. Твой путь шёл на запад. В каком направлении ты должен вернуться?**



на север



на юг



на восток

## 9. На какой стороне склона снег весной тает быстрее?

на севере

на юге

на западе








# 10. С какой стороны кора берёзы белее и чище?

 на севере

 на востоке

 на юге

# Ключ к ответам



## **Используемые источники:**

Тихомирова Е. М. Тесты по предмету «Окружающий мир»: 2 класс. М.:  
Издательство «Экзамен», 2007

**Автор работы:**  
**Фокина Лидия Петровна**  
[FokinaLida.75@mail.ru](mailto:FokinaLida.75@mail.ru)