


Форма земной поверхности

Окружающий мир
4 класс
часть 3

Автор: учитель высшей квалификационной категории
МОУ СОШ № 2 Карасукского района НСО
Гвоздеева Елена Анатольевна



Горы



Горные хребты – это горы, расположенные рядами.

СРАВНИТЕ

Вершина

Склон

Подошва

(подножие)

ХОЛМ

Высота до 200 м

ГОРА

Высота более 200 м



Узнайте из учебника



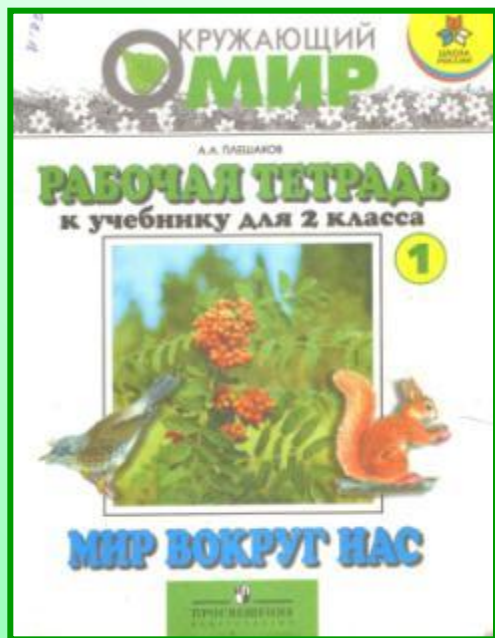
с. 78-79

*** Определите, какая поверхность на фотографиях.**



*** Рассмотрите на карте территорию нашей страны. Какова её поверхность?**


Работа в тетради



с. 32, №
1,2,3

- * С помощью учебника напишите определения.
- * Подпишите части холма.
- * Нарисуйте гору и подпишите её части.

Формы земной поверхности



Горы

Равнины

плоские

холмистые

Холм?


Овраг?

Горные хребты?

Подошва?

Вершина?

Склон?



**С. 76 -79, знать материал,
Р. т. с. 33, № 4.**