

Автор работы:
учитель начальных классов
МОУ «СОШ ст. Евсино»
Фокина Лидия Петровна

Окружающий мир

2 класс




УМК «Школа России»

2011 год

900igr.net

Тест по теме «Посмотри вокруг»

Инструкция:

1. Прочитай внимательно вопрос.
2. Прочитай внимательно все ответы.
Помни, что ответов может быть несколько.
3. Выбери  ,  ,  , соответствующую фигуру (или фигуры) , , , соответствующую вашему ответу.
4. Нарисуй на своём контрольном листе.

**1.Продолжи определение:
«Земная поверхность, которую
мы видим вокруг себя,
называется ...»**



горизонт



небо



линия горизонта

**2. Продолжи определение:
«Граница, где небо как бы
сходится с земной
поверхностью, называется ...»**



горизонт




перспектива




линия горизонта

**3. Что будет справа от тебя,
если ты станешь лицом на юг?**

 север

 запад

 ВОСТОК

**4. Какая сторона горизонта
будет противоположна юго-
западу?**



север



ЮГО-ВОСТОК



северо-восток

5. Какая сторона горизонта сокращена буквами СЗ?



север






запад



северо-запад

6. В какой части плана и карты обозначают север?

-  вверху
-  внизу
-  слева




7. Изменится ли обзор территории, если ты поднимешься на гору?

не изменится

станет больше видно вокруг

станет меньше видно вокруг

8. На какой стороне горизонта встаёт солнце?

-  на юге
-  на западе
-  на востоке

9. Какие стороны горизонта обозначены на схеме?



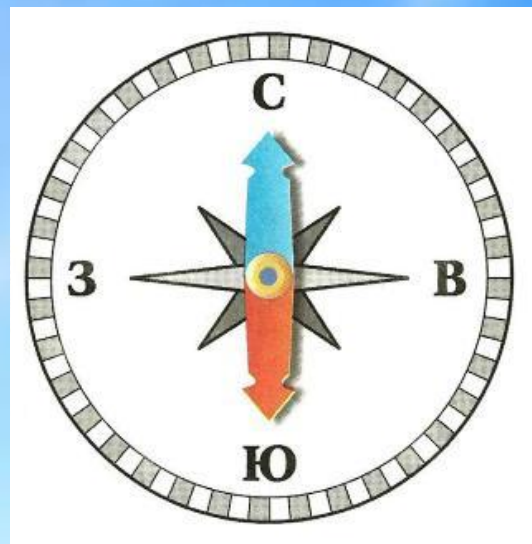
главные



основные



промежуточные



10. Какие стороны горизонта обозначены на схеме?



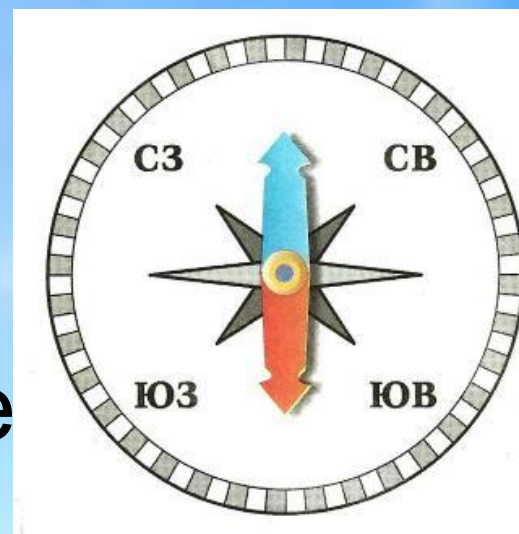
главные




основные



промежуточные



Ключ к ответам



Автор работы:
Фокина Лидия Петровна
FokinaLida.75@mail.ru

Используемые источники:

Тихомирова Е. М. Тесты по предмету «Окружающий мир»: 2 класс. М.: Издательство «Экзамен», 2007

Картинки отсканированы из рабочей тетради А. А. Плешакова «Окружающий мир». М.: «Просвещение», 2010

