



История – путешествие в глубь времён



Окружающий мир

4 класс



При изучении истории нельзя обойтись без ответа на вопрос «когда?». Очень важно выяснить, когда были те или иные исторические события, какое из них случилось раньше, а какое позже.

Как обозначаются даты исторических событий?





Если событие
произошло в
недавнем прошлом,
мы называем
число, месяц, год.

А если события
случились сотни и
тысячи лет назад, нам
на помощь приходят
слова «век» и
«тысячелетие»



Век, столетие = ? лет
Тысячелетие = ? лет = ? веков

I = 1

II = 2

III = 3

IV = 4

V = 5

VI = 6

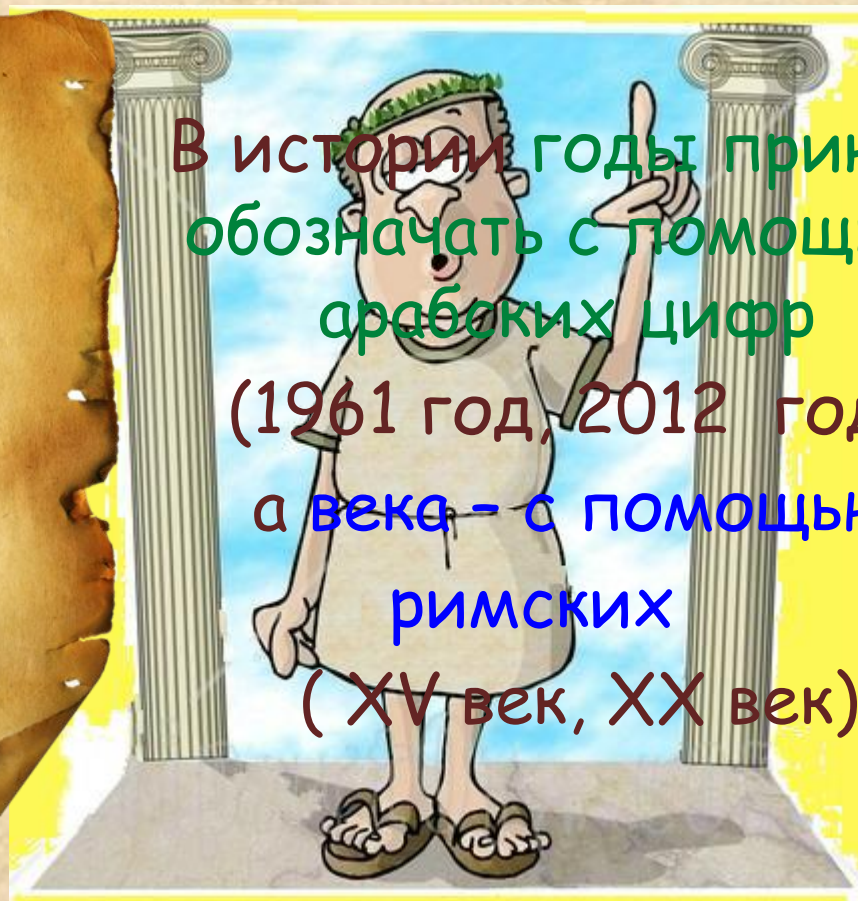
VII = 7

VIII = 8

IX = 9

X =

10



В истории годы принято
обозначать с помощью
арабских цифр
(1961 год, 2012 год),
а века - с помощью
римских
(XV век, XX век)



У разных народов был различный счёт лет – летоисчисление.

Древний Египет



Начало
правления
нового
фараона

Древняя Греция



Первая
Олимпиад
а

Древний Рим



Основание
города

Христианская церковь предложила
создать единую систему отсчёта лет



Отсчет времени в нашем календаре
начинается с рождения Иисуса Христа.



до нашей эры

Р.
Х.

наша эра

То, что произошло
раньше этого
времени, случилось
до нашей эры.

События, которые
свершились после
рождения Христа,
относятся к
нашей эре.

Лента времени

ДО НАШЕЙ ЭРЫ

Р.
Х.

НАША ЭРА

IV

III

II

I

I

II

III

IV

400

300

200


100

100

200

300

400



- 1 век = 100 лет



История на ленте времени

Древний мир



Средние века



Новое время



Новейшее время

До нашей эры

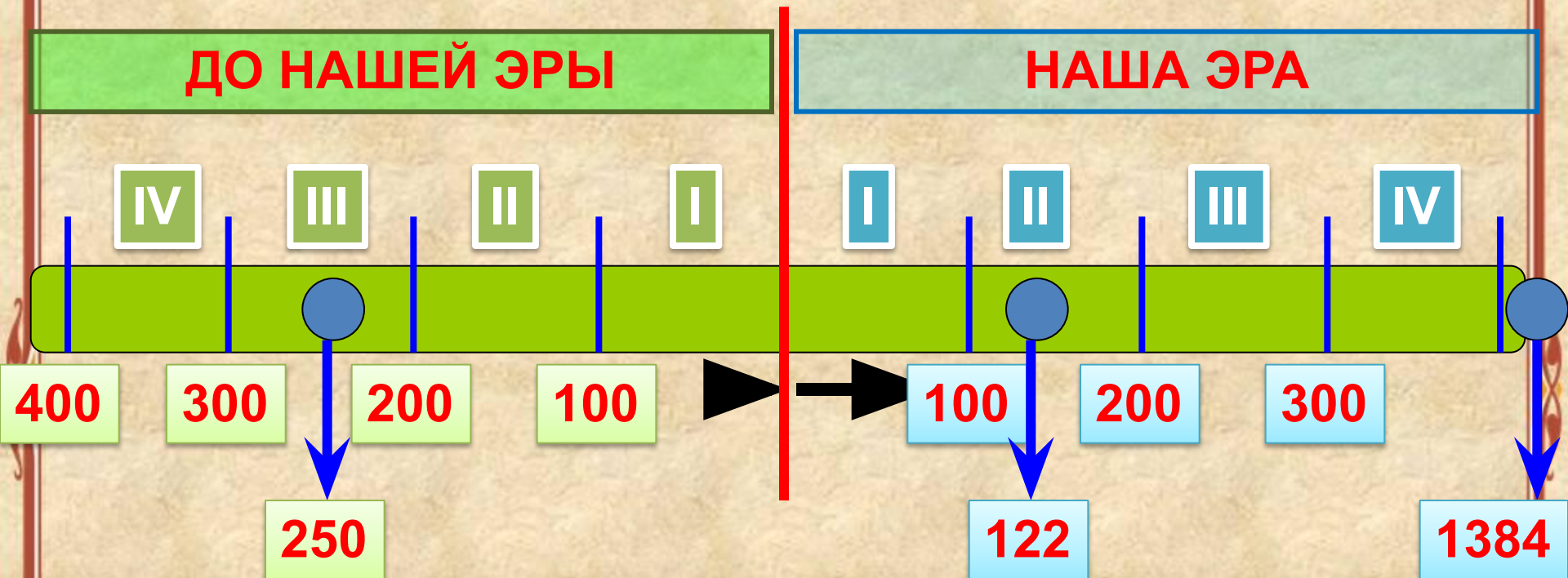
Р. Х.



Наша эра



Как определить век?

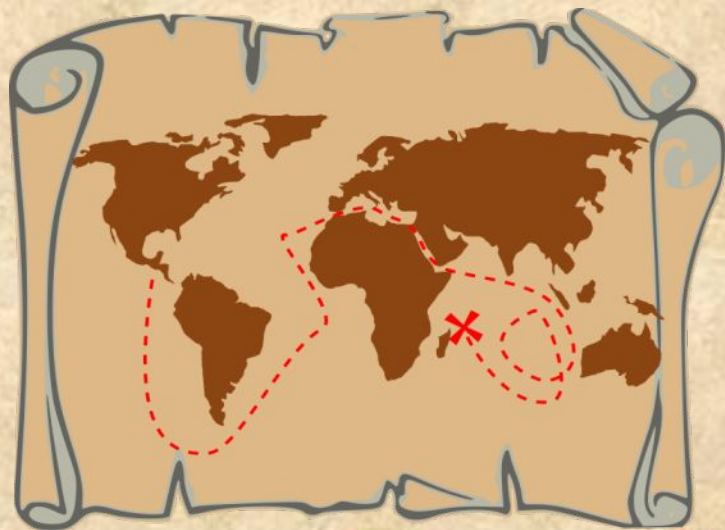


250 г. до н.э. → ~~250~~ → $2 + 1 = 3$ → III век до н.э.

122 г. → ~~122~~ → $1 + 1 = 2$ → II век

1384 г. → ~~1384~~ → $13 + 1 = 14$ → XIV век

Карта - помощница

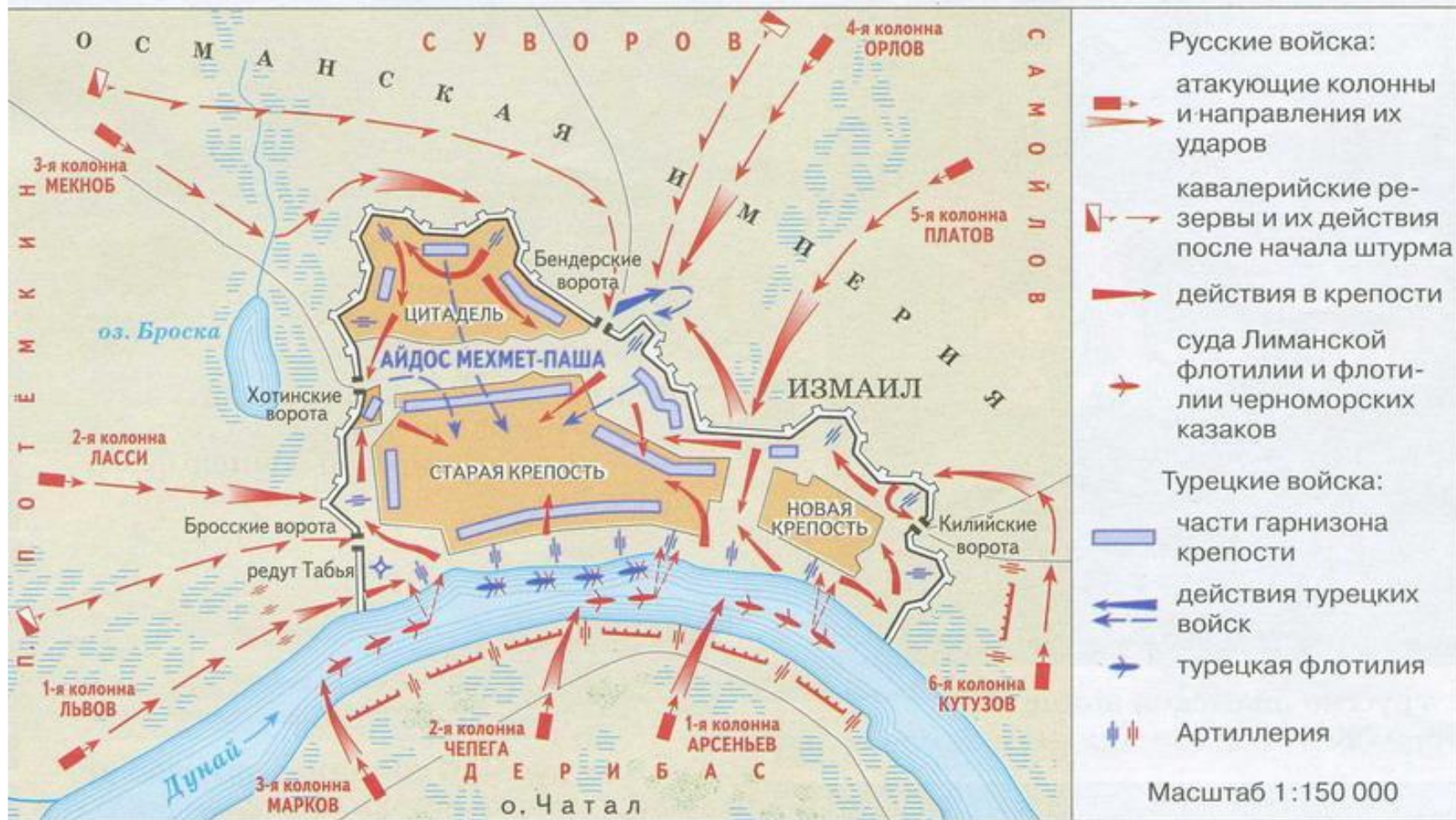


Знать, когда
произошло событие,
очень важно. Но не
менее важно
представлять себе,
**где это событие
происходило.**

В этом нам могут
помочь

исторические карты.

Штурм и взятие крепости Измаил 11 декабря 1790 г.



Важную роль на исторических картах играют цвет и условные обозначения.



Работа в парах

Рассмотрите карту взятия крепости Измаил русскими войсками на с. 45 учебника и ответьте на вопросы:

1. Где расположена крепость?
2. Как она обороняется изнутри?
3. Сколько входов в крепость?
4. Что обороняет крепость со стороны реки Дунай?
5. Как наступают русские войска?

Подведём итоги:

1. Что обозначают слова и выражения **«век»**, **«тысячелетие»**, **«летоисчисление»**, **«наша эра»**, **«до нашей эры»**?
2. С помощью какой карты можно узнать об исторических событиях?



ИСТОЧНИКИ:

- http://izuminki.ucoz.ru/load/astronomija/letoischislenie_prezentacija/1-1-0-53
- <http://cotu.forum2x2.com/t3-topic>
- <http://vaseranadera.rubiro.ru/kalendar-2012-russkii.html>
- <http://vasily-sergeev.livejournal.com/1961246.html>
- <http://www.cheloveche.ru/Malxl/posts?sm=diary>
- <http://modno.odejda-a.ru/drevnyaya-greetsiya-kartinki.html>
- http://www.spletnik.ru/blogs/moda/43263_moda_drevnego_rima
- <http://sunshine-radio.forumy2x2.com/t218-topic>
- <http://pixelbrush.ru/2011/02/28/ancient-egypt-drevniy-egipet.html>
- http://photobucket.com/images/ancient_greek_art/
- <http://www.clipartov.net/show-24-4.html>
- <http://www.clipartov.net/show-85-3.html>
- <http://cards.tochka.net/ecards/3239-otkrytki-na-rozhdestvo-khristovo/>
- <http://shkoladetei.ru/scenarii-prazdnikov/page/6/>
- <http://www.liveinternet.ru/users/2995475/post161052017/>
- http://www.z-rus.ru/ru_history_13.php
- <http://pro100-mica.dreamwidth.org/60420.html>

Панова
Оксана Владимировна
учитель
начальных классов
МАОУ «Гимназия №4»
г. Великого Новгорода

Персональный сайт:
<http://www.panowa-ox.narod.ru/>

E-mail: panowa.ox@yandex.ru

