

ИТОГОВЫЙ ТЕСТ

Мир вокруг
нас

2 класс

1. Источник тепла и света для живых существ?

А) электрическая лампочка;

Б) Солнце;

В) огонь;

2. К живой природе относится:

А) растения;

Б) вода;

В) транспорт;

3. Все изменения, происходящие в природе, называют:

- А) сезонными явлениями;
- Б) явлениями погоды;
- В) явлениями природы;

4. Восемь градусов мороза
записывают так:

А) $+ 8^{\circ}\text{C}$;

Б) $- 8 \text{ Г}$;

В) $- 8^{\circ}\text{C}$;

5. Признаки осени:

- А) цветение растений;
- Б) листопад;
- В) прилёт птиц;

6. Крыжовник относится

- А) к деревьям;
- Б) к кустарникам;
- В) к травам;

7. Крапива – это...

- А) дикорастущее растение;
- Б) культурное растение;

8. Шесть ножек являются
признаком:

А) насекомых;

Б) рыб;

В) птиц;

Г) зверей;

9. В Красную книгу России
занесен:

А) заяц беляк;

Б) лотос;

В) скорпион;

10. Слово «экономика» означает:

А) промышленность;

Б) деньги;

В) хозяйство;

11. К учреждению культуры
относится:

А) музей;

Б) школа;

В) ферма;

12. Признак зимы:

- А) снегопад;
- Б) листопад;
- В) ледоход;

13. Внутренний орган человека:

А) голова;

Б) живот;

В) сердце;

14. Чистить зубы надо:

А) только по утрам;

Б) утром и вечером;

В) после каждого приёма пищи;

15. Разметку, обозначающую пешеходный переход, называют:

А) «антилопа»;

Б) «тигр»;

В) «зебра»;

16. По телефону **01** вызывают:

- А) «скорую помощь»;
- Б) милицию;
- В) пожарных;

17. К съедобным грибам НЕ
относится:

- А) подосиновик;
- Б) мухомор;
- В) подберёзовик;

18. Опасно купаться:

- А) в пресной воде;
- Б) в солёной воде;
- В) в грязной воде;

19. Земная поверхность, которую мы видим вокруг себя, называется:

- А) горизонт;
- Б) линия горизонта;
- В) стороны горизонта;

20. Прибор для определения сторон горизонта называется:

- А) термометр;
- Б) телескоп;
- В) компас;

21. Место, где река берёт своё
начало

А) приток;

Б) исток;

В) устье;

22. Признак весны:

- А) таяние снега;
- Б) созревание ягод;
- В) сбор урожая;

23. На каком материке
находится всего одна страна:

- А) Африка;
- Б) Австралия;
- В) Антарктида;

24. Признак лета:

- А) жаркая погода;
- Б) частые дожди;
- В) линька животных;

25. Кто из этих животных – земноводное:


А)



Б)



В)



26. Какое из этих растений овощная культура:

А)



Б)



В)



27. Какое из ЭТИХ ЖИВОТНЫХ домашнее:

A)



Б)



В)



28. Какой из этих видов транспорта является специальным:

А)



Б)

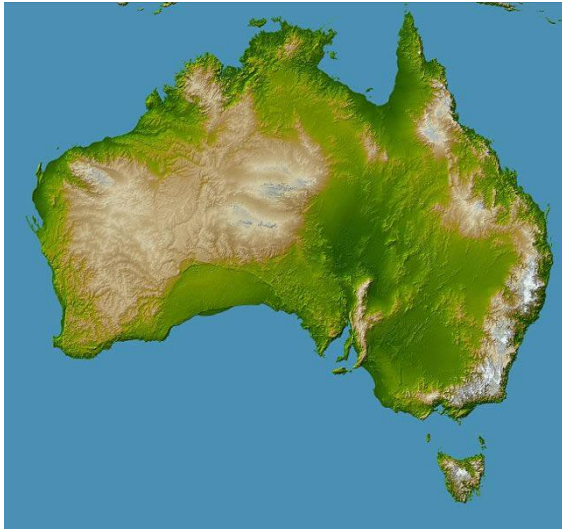


В)



29. Материк Африка -

A)



Б)



В)



30. В каком европейском городе расположена Эйфелева Башня

- А) Лондон
- Б) Мадрид
- В) Париж



ОТВЕТЫ

1 – б

2 – а

3 – в

4 – в

5 – б

6 – б

7 – а

8 – а

9 – б

10 – в

11 – а

12 – а

13 – в

14 – б

15 – в

16 – в

17 – б

18 – в

19 – а

20 – в

21 – б

22 – а

23 – б

24 – а

25 – а

26 – в

27 – б

28 – а

29 – б

30 – в


оценка

30 – 28 баллов – «5»

27 – 25 баллов – «4»

24 – 20 баллов – «3»

Молодцы! Спасибо за работу!



СПАСИБО!