

Тест на тему:

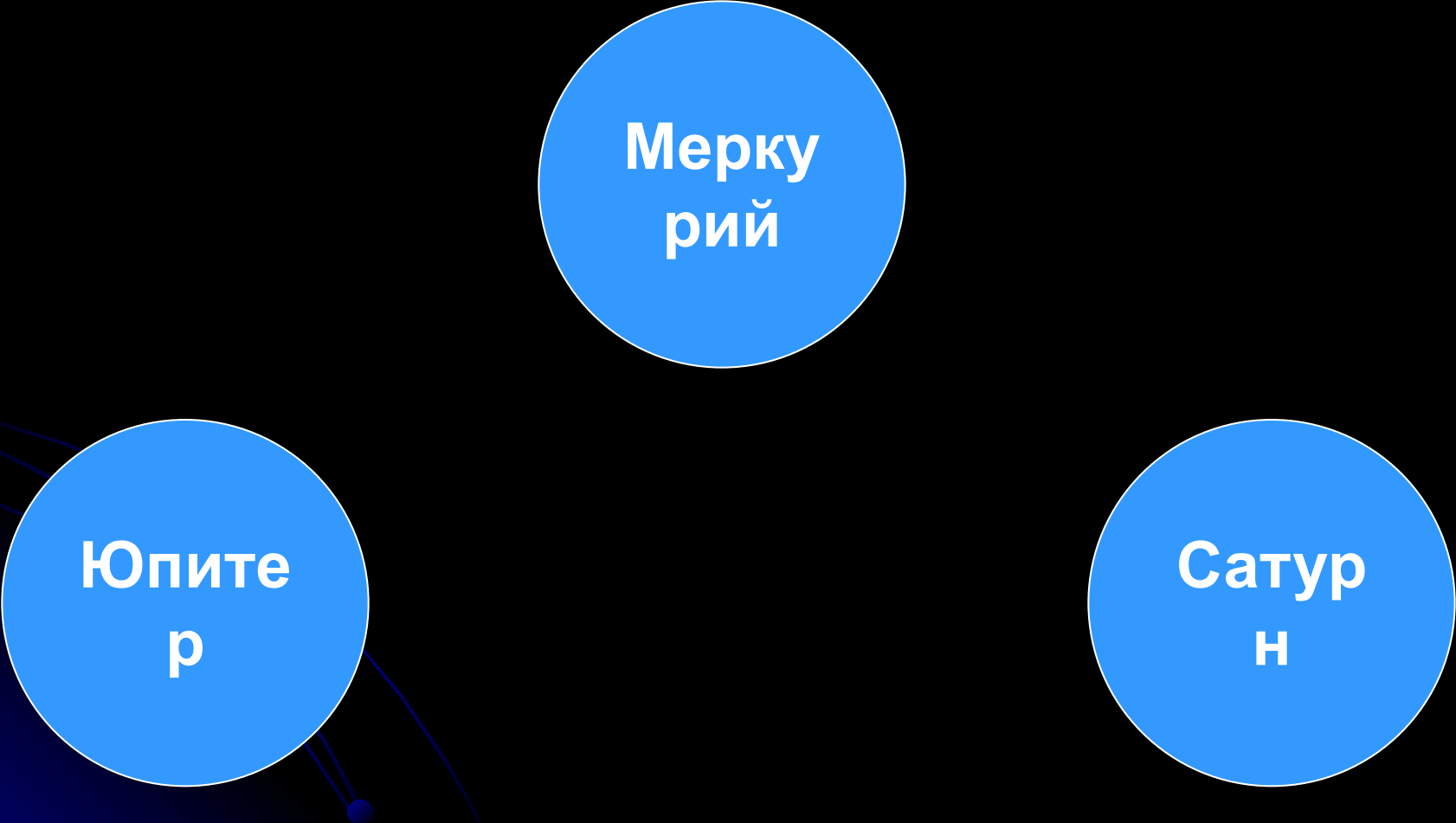
КОСМОС



Автор: ученица 9 класса
Зотова Ольга
Учитель: Ворначёва Н.Л.

Самая близкая к солнцу планета

— ЭТО...



Mercury

The diagram features three blue circles representing planets. The top circle is labeled 'Mercury'. Below it, on the left, is a larger circle labeled 'Jupiter', and on the right is a circle labeled 'Saturn'. The background is black with some faint blue lines and dots in the bottom-left corner, suggesting a celestial or orbital theme.

Jupiter

Saturn

Самая близкая к Земле планета...

Уран

Марс

Сатурн

• Ошибок: 0

Самая близкая к Земле планета...

Уран

Марс

Сатурн

- Ошибок: 1

Планета-гигант – это...

Меркури
й

Юпитер

Нептун

• Ошибок: 0

Планета-гигант – это...

Меркури
й

Юпитер

Нептун

• Ошибок: 1

Планета-гигант – это...

Меркури
й

Юпитер

Нептун

• Ошибка: 2

Ближайшая к Земле звезда...

Солнце

Луна

Полярная

• Ошибок: 0

Ближайшая к Земле звезда...

Солнце

Луна

Полярн
ая

• Ошибок: 1

Ближайшая к Земле звезда...

Солнце

Луна

Полярная

• Ошибок: 2

Ближайшая к Земле звезда...

Солнце

Луна

Полярн
ая

• Ошибок: 3

На какой планете есть жизнь?

Луна

Марс

Земля

• Ошибок: 0

На какой планете есть жизнь?

Луна

Марс

Земля

• Ошибок: 1

На какой планете есть жизнь?

Луна

Марс

Земля

• Ошибок: 2

На какой планете есть жизнь?

Луна

Марс

Земля

• Ошибок: 3

На какой планете есть жизнь?

Луна

Марс

Земля

● Ошибок: 4


Ваша оценка...

5




Ваша оценка...

4




Ваша оценка...

4




Ваша оценка...

3



Ваша оценка...



Спасибо за внимание!

