



# Материки и океаны

# Евразия





# Евразия



# ЕВРАЗИЯ



# Евразия



# Африка



# АФРИКА












# Африка



На самом краю пустыни Сахары  
находится египетские пирамиды





Северная

Америка



Южная

Америка






# Северная и Южная



# Северная и Южная Америка





— Так выглядит  
из космоса  
Антарктида —  
самая большая в  
мире холодная  
пустыня.

# Antarctica





# Океаны

Тихий

Индийский

Северный  
Ледовиты  
й

Атлантическ  
ий



**Часть света** – это материк или часть материка с прилегающими островами.

1. Европа
2. Азия
3. Африка
4. Америка
5. Австралия
6. Антарктида

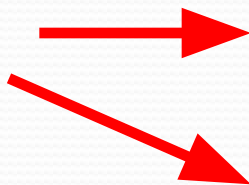




# *Материки*

# *Части света*

**Евразия**



**Европа**

**Азия**

**Африка**

**Африка**

**Северная  
Америка**



**Америка**

**Южная  
Америка**



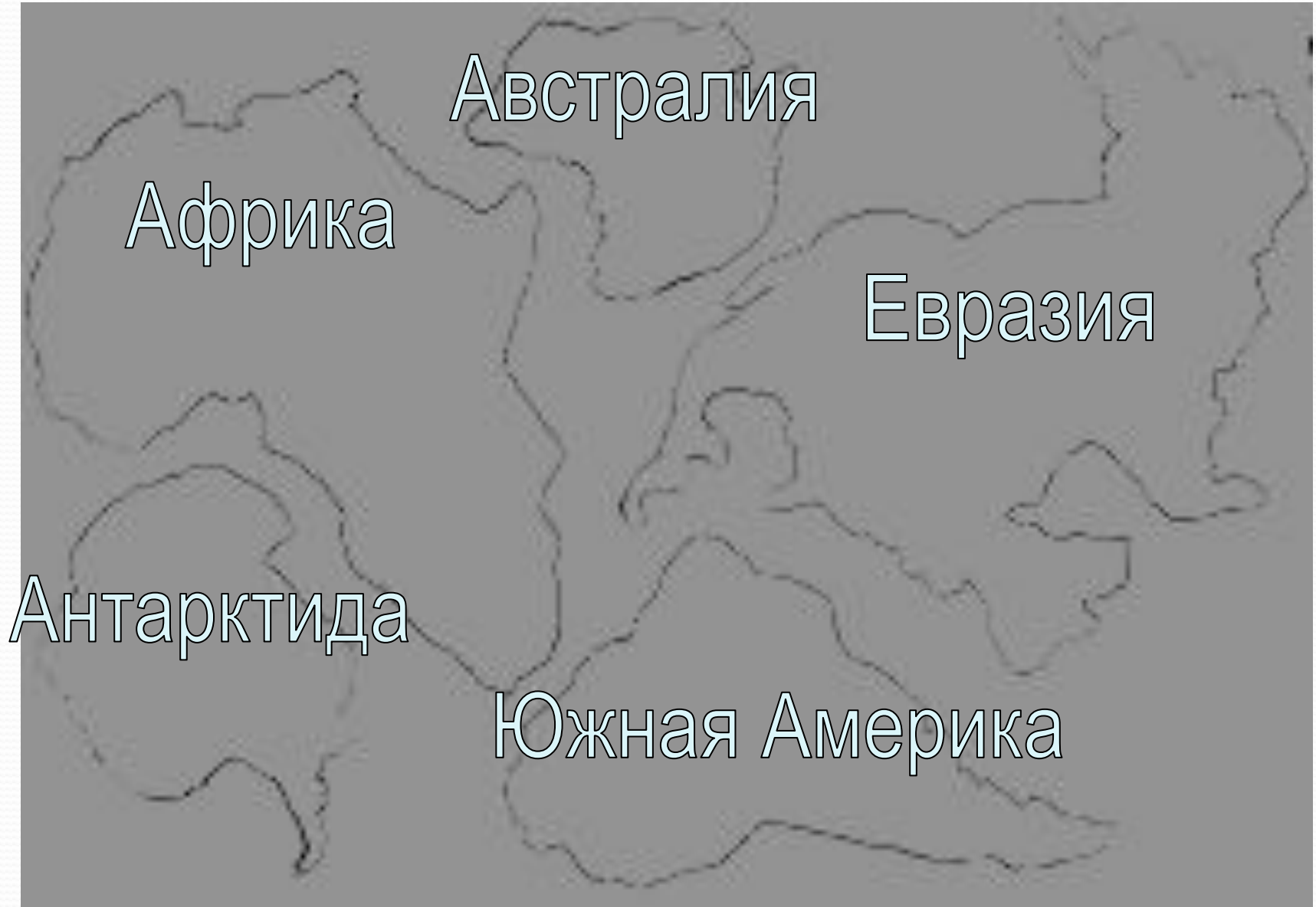
**Австралия**

**Австралия**

**Антарктида**

**Антарктида**

Определите, какие материки изображены на рисунке и подпишите их названия. Определите, какого материка не хватает.



# Домашнее задание:

1. Прочитать учебник  
стр.96-103;
2. Подготовить сообщение для  
рубрики  
«Это интересно»

