

Окружающий мир 3 класс Органы чувств Тест

Автор: Гаврилова Наталья Юрьевна - учитель
начальных классов МБОУ «Сибирская сош».

1. В какой группе правильно перечислены органы чувств?

а) Головной мозг, спинной мозг, нервы

б) Глаза, уши, нос, язык, кожа

в) пищевод, печень, желудок, кишечник

2. Какие органы дают человеку больше всего информации об окружающем мире?

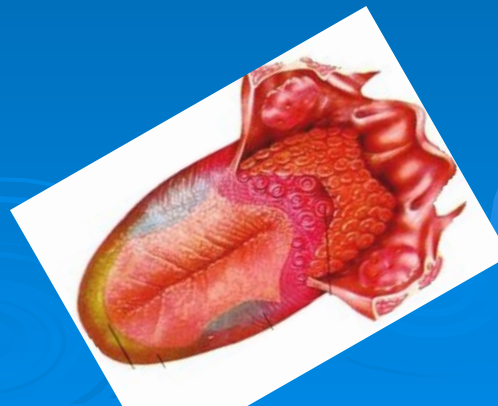
а) органы зрения



б) органы слуха



в) органы вкуса



3. Откуда должен падать свет при письме?


а) слева



б) справа



в) сверху



4. Как нельзя читать?

а) сидя за столом



б) при ярком свете



в) лёжа



5. Как называется способность человека чувствовать запахи?

а) обоняние

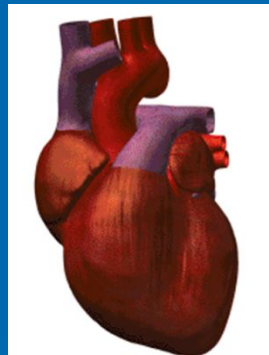
б) осязание

в) зрение

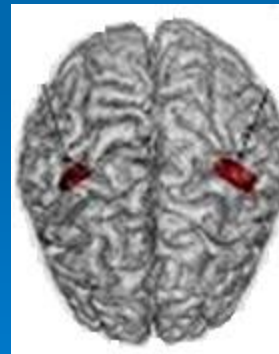


6. Куда должны поступать сигналы от органов чувств?

а) в сердце



б) в ГОЛОВНОЙ МОЗГ



в) в СПИННОЙ МОЗГ



7. Как называется способность человека чувствовать прикосновения?

а) обоняние

б) осязание

в) вкус



8. Какой должна быть температура пищи?

а) холодной



б) горячей



в) тёплой

9. Какой орган помогает определить вкус пищи?

а) нос



б) язык



в) кожа



10. К какому врачу обращаются при болезни ушей, горла, носа?

а) к окулисту

б) к отоларингологу

в) к хирургу



Используемая литература:

Е.М.Тихомирова «Тесты по предмету «Окружающий мир» к учебному комплексу А.А.Плешакова «Мир вокруг нас. 3 класс»

http://go.mail.ru/search_images?rch=e&type=all&is=0&q=сердце

http://go.mail.ru/search_images?rch=e&type=all&is=0&q=язык

http://go.mail.ru/search_images?rch=e&type=all&is=0&q=спинной мозг

<http://images.yandex.ru/yandsearch?text=читать>

<http://images.yandex.ru/yandsearch?text=еда>

<http://images.yandex.ru/yandsearch?text=кожа человека>

<http://images.yandex.ru/yandsearch?p=10&text=отоларинголог>

<http://images.yandex.ru/yandsearch?p=10&text=окулист>

<http://images.yandex.ru/yandsearch?text=%D1%85%D0%B8%D1%80%D1%83%D1%80%D0%B3>