


Мой город



Задание 1

Какое слово лишнее?

**1) Ленинград, Петрозаводск,
Петроград, Петербург.**

2) Нева, Волга, Фонтанка, Мойка.

**3) Русский музей, Эрмитаж,
Третьяковская галерея.**

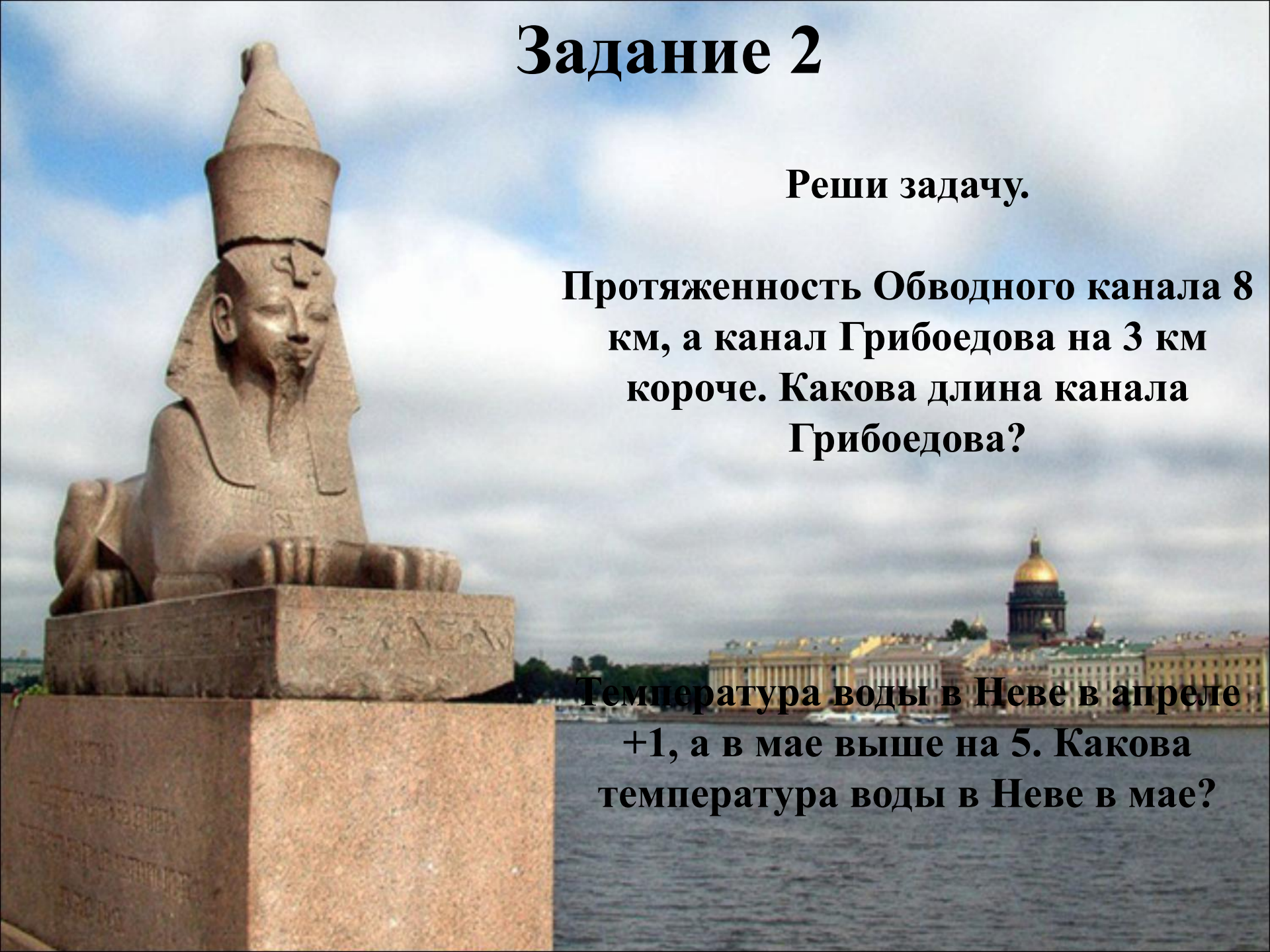


Задание 2

Реши задачу.

Протяженность Обводного канала 8 км, а канал Грибоедова на 3 км короче. Какова длина канала Грибоедова?

Температура воды в Неве в апреле +1, а в мае выше на 5. Какова температура воды в Неве в мае?



Задание 3




Высокая ограда отделяет от берегов Невы прекрасный сад. Тридцать пять колонн из полированного розового гранита между ними – прозрачный чугунный узор. Розовый гранит и черный чугун с позолотой. Решетка этого сада на весь мир известна своей красотой. Назовите этот самый первый сад в нашем городе. Кто затрудняется, решите этот ребус, замените цифры буквами и проверьте свой ответ.

Задание 4



У гранитного спуска к Неве на высоких подножьях лежат удивительные каменные существа. У них голова человека, а туловище льва. Догадайтесь, кто это. Проверьте свой ответ с помощью цифр.


Задание 5



Каждый день в одно и тоже время звучит выстрел с Петропавловской крепости. Определите по циферблату, прозвучал уже выстрел или нет.

Задание 6

29









Почти в одно время с Петропавловской крепостью заложили «Адмиралтейский дом» - верфь для постройки кораблей. Главный вход Адмиралтейства украшен четырехугольной башней с колоннами и шпилем.

Сколько там колонн?


Если стрелка направлена в треугольник, то число уменьшается на 1, если в квадрат, то увеличивается на 1.

Задание 7



По контуру узнайте, что это за памятник.

Задание 8



Капитаны команд подходят ко мне, выбирают у меня на столе по 2 открытки. На открытках изображены исторические памятники. Расскажите о них, в случае необходимости помогает команда.

Задание 9

Кто больше прочитает стихов или отрывков, посвященных историческим местам нашего города или самому городу?

