


ПДД

Окружающий мир. 3 класс



Составитель:
Шаповалова Т.А.
учитель начальных классов
МОУ СОШ № 4
п. Верхнестепного
Степновского района
Ставропольского края

Начать тест

Результат теста

Верно: 6

Ошибки: 0

Отметка: 5



Время: 2 мин. 35 сек.

ещё

Выбери правильный ответ.

Какой стороны придерживаются пешеходы идущие по обочине дороги?




Левой

Правой

Выбери правильный ответ.

Если человек находится внутри транспорта, путешествует, но не управляет им, он...




водитель.

пассажир.

Выбери правильный ответ.

Место, отведенное для ходьбы пешеходов, называется...




шоссе.

тротуар.

Выбери правильный ответ.

**Знак « Пешеходный переход »
выглядит так:**




**синий квадрат, внутри
белый треугольник с
изображением
человека.**

**красный треугольник с
изображением
человека.**

Выбери правильный ответ.

Переходя улицу надо
сначала посмотреть...



направо .

налево.

Выбери правильный ответ.

**С какого возраста разрешается
езда на велосипеде по улицам
города?**



С 14 лет.

С 10 лет.