


# Г Д Д Д

## Окружающий мир. 3 класс



Составитель:  
Шаповалова Т.А.  
учитель начальных классов  
МОУ СОШ № 4  
п. Верхнестепного  
Степновского района  
Ставропольского края

**Начать тест**

# Результат теста

Верно: 6

Ошибки: 0

Отметка: 5



Время: 2 мин. 35 сек.

ещё

**Выбери правильный ответ.**

**Какой стороны придерживаются пешеходы идущие по обочине дороги?**




**Левой**

**Правой**

**Выбери правильный ответ.**

**Если человек находится внутри транспорта, путешествует, но не управляет им, он...**




**водитель.**

**пассажир.**

**Выбери правильный ответ.**

**Место, отведенное для ходьбы пешеходов, называется...**




**шоссе.**

**тротуар.**

# Выбери правильный ответ.

**Знак « Пешеходный переход »  
выглядит так:**




**синий квадрат, внутри  
белый треугольник с  
изображением  
человека.**

**красный треугольник с  
изображением  
человека.**

Выбери правильный ответ.

Переходя улицу надо  
сначала посмотреть...




направо .

налево.

**Выбери правильный ответ.**

**С какого возраста разрешается  
езда на велосипеде по улицам  
города?**



**С 14 лет.**

**С 10 лет.**