





# ОКРУЖАЮЩИЙ МИР

**Каким цветом изображают на карте  
данный вид местности?**



# Плоская равнина.



# Холмистая равнина.





© Betsy Eyring, 2007





pogodinaea . 2006

**Мост через реку Волга.**













# ребус



# КОРЫ

# Каким цветом изображают на карте данный вид местности?
















<b>Вершина</b>	<b>Высота (м)</b>	<b>Страна</b>	<b>Год покорения</b>
Джомолунгма	8 848	Непал/ Китай	1953
Канченджанга	8 586	Непал/ Индия	1955
Лхоцзе	8 516	Непал/ Китай	1956
Макалу	8 463	Непал/ Китай	1955
Чо-Ойю	8 201	Непал/ Китай	1954
Дхаулагири	8 167	Непал	1960
Манаслу	8 156	Непал	1956
Нанга Парбат	8 126	Пакистан	1953
Аннапурна	8 091	Непал	1950
Шиша Пангма	8 012	Китай	1964










[www.ecosystema.ru](http://www.ecosystema.ru)













## КАРТА КАВКАЗСКАГО КРАЯ

составлена по материалам воен топогр  
отдѣла Кавказскаго воен округа  
штабсъ-кашгтавомъ Шатиловнаму.  
Тифлисъ. 1882 года.


Масштабъ: для горизонтальныхъ мѣръ 1:500,000  
для вертикальныхъ 1:100,000 въ дюймахъ.



**Эльбрус**



**Казбек**



# Зейгалан











яшма



малахит





