

ПОДГОТОВКА К ВПР ПО ОКРУЖАЮЩЕМУ МИРУ ТЕСТ №2

Презентацию подготовила учитель
начальных классов

МБОУ «Майнский многопрофильный лицей»
Дёмина Ольга Владимировна

1. Как называется глава нашего государства?

Ответ:

президент Российской Федерации

2. В каком месяце отмечается
День народного единства?



Ответ: **в ноябре**

3. Назови прозвище князя Ивана Даниловича, при котором началось строительство белокаменного Кремля.

Ответ: **Калита**

Калита – сумка, мешок,
карман.



4. Из представленного ниже списка назови природные явления.



снежный ком



дождь



гроза



ручей



камень



метель



рассвет



птичья стая

Ответ:

природными явлениями являются



гроза



дождь

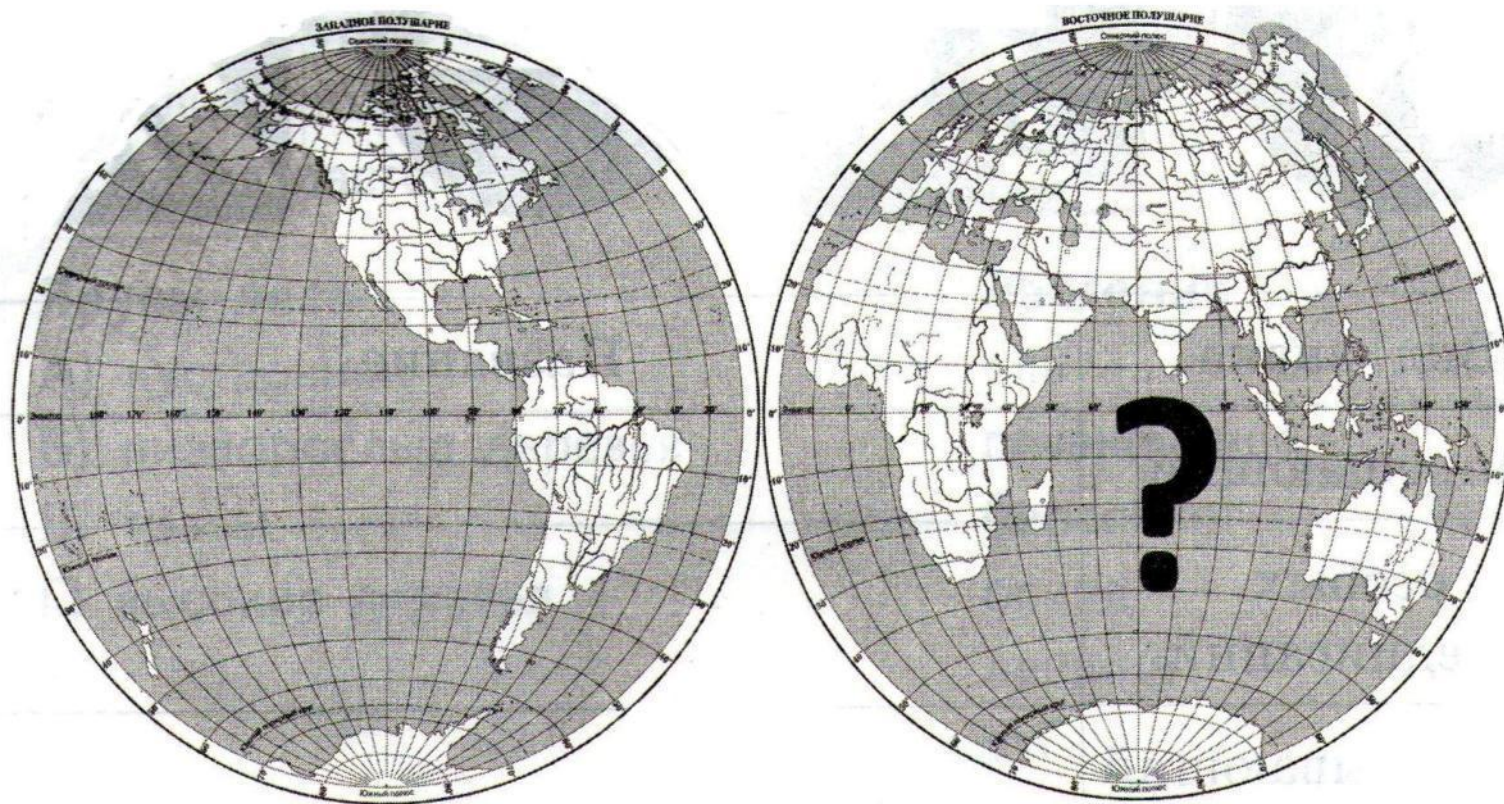


рассвет

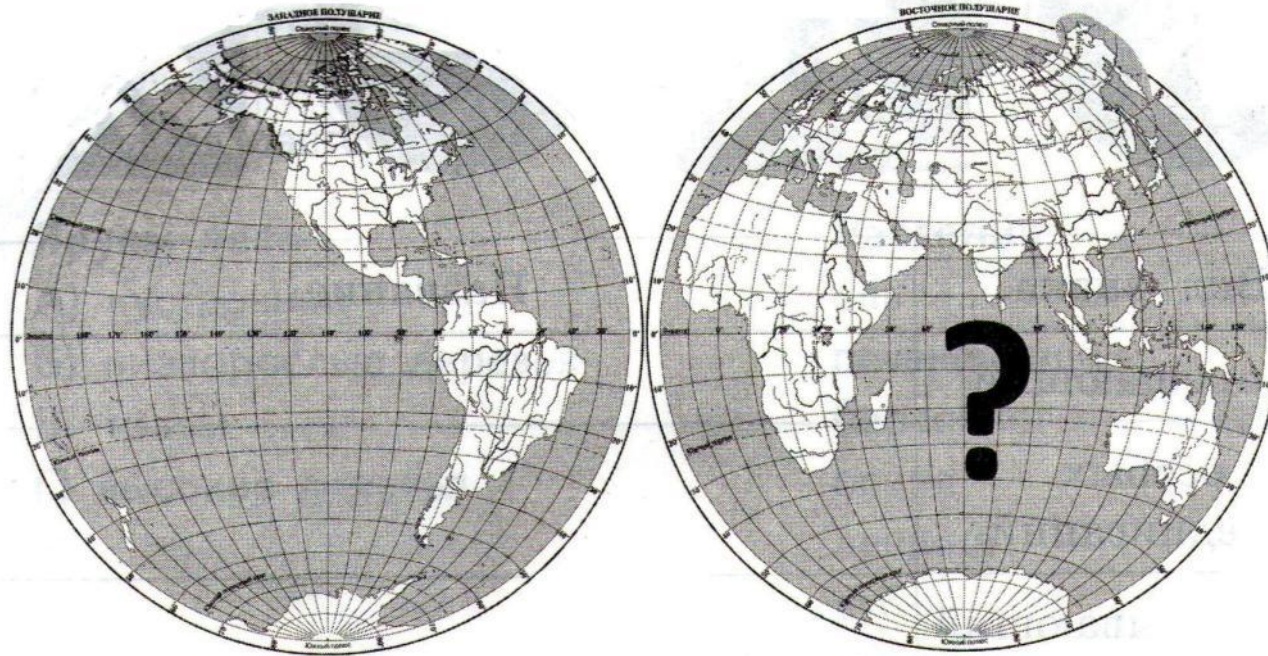


метель

5. Какой океан отмечен на рисунке знаком вопроса?



Ответ: **Индийский океан**



6. Раздели природные явления на две группы, запиши в таблицу.



ураган



дождь



землетрясение



ветер



снежная лавина



наводнение



туман



северное сияние

| | |
|--------------------|-------------------|
| Природные явления | <hr/> <hr/> <hr/> |
| Стихийные бедствия | <hr/> <hr/> <hr/> |

Ответ:

| | |
|--------------------|----------------------------------|
| Природные явления | ветер северное сияние туман |
| | дождь |
| Стихийные бедствия | снежная лавина наводнение ураган |
| | землетрясение |

7. Закончи определение.

Явление, при котором смена природных зон прослеживается в зависимости от высоты, называется... **ВЫСОТНОЙ ПОЯСНОСТЬЮ.**

8. Распредели дорожные знаки по видам.
Запиши в таблицу названия знаков.



| Вид знака | Название |
|--------------------|----------|
| запрещающий | |
| особых предписаний | |
| предписывающий | |
| информационный | |

Ответ:

| Вид знака | Название |
|--------------------|----------------------|
| запрещающий | «Въезд запрещён» |
| особых предписаний | «Пешеходный переход» |
| предписывающий | «Пешеходная дорожка» |
| информационный | «Подземный переход» |



9. Вставьте в текст пропущенные слова.

Зона лесов находится _____ южнее _____ зоны тундры и занимает больше половины территории России. В этой зоне встречается три типа лесов: _____ тайга _____, _____ смешанные _____ леса и _____ широколиственные _____ леса. Лето в тайге намного _____ теплее _____, чем в тундре, но зимой температура бывает до -30°C . Чем дальше на _____ юг _____, тем зимы короче. _____ Почвы _____ в лесной зоне гораздо богаче _____ питательными _____ веществами, поэтому для _____ роста _____ и развития растений достаточно не только тепла, но и _____ влаги _____.


10.Какие события произошли в эти годы?

988 г. - Крещение Руси



Ледовое побоище

1242 г. - Ледовое побоище



1380 г. - Куликовская битва



11. Соотнеси номера ярусов смешанного леса с видами растений, которые к ним относятся, и с названиями растений. Заполни таблицу: поставь соответствующие буквы и запиши названия растений.


Ярусы леса

- А) кустарники
- Б) низкорослые деревья
- В) травы
- Г) высокие деревья

Растения

ель
печёночница
бересклет
осина
лещина
дуб
ландыш
ива козья


| Номер яруса леса | Вид растения | Название растения |
|------------------|--------------|-------------------|
| 1 | | |
| 2 | | |
| 3 | | |
| 4 | | |



дуб



ель



осина



ива козья



лещина
(лесной орешник)



ландыш



бересклет



печёночница

Ответ:

| Номер яруса леса | Вид растения | Название растения |
|------------------|------------------------|--------------------|
| 1 | Г) высокие деревья | ель дуб |
| 2 | Б) низкорослые деревья | осина ива козья |
| 3 | А) кустарники | бересклет лещина |
| 4 | В) травы | печёночница ландыш |

12. Раздели географические объекты на две группы двумя способами. Дай группам название. Запиши объекты в соответствующие клетки таблицы.

Гренландия, Байкал, Эверест, Индийский океан, Игуасу, Антарктида, Амазонка.

| | | |
|---------------------------|--|--|
| Географические объекты | | |
| | | |
| | | |

Водные
объекты



Индийский
океан



Водопад
Игуасу



Озеро
Байкал



Река
Амазонка

Объекты
суши



Остров
Гренландия

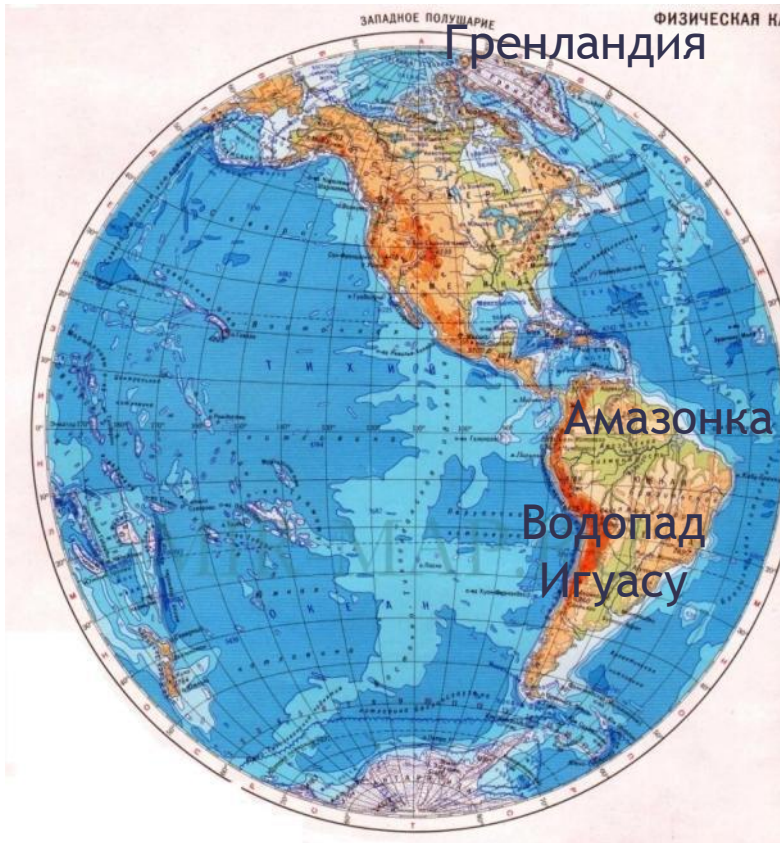


Гора
Эверест



Антарктида

Западное полушарие



Восточное полушарие



Ответ:

| Географические объекты | <u>Западное полушарие</u> | <u>Восточное полушарие</u> |
|------------------------|---------------------------|----------------------------|
| <u>Водные объекты</u> | Игуасу Амазонка | Байкал Индийский океан |
| <u>Объекты суши</u> | Гренландия Антарктида | Эверест Антарктида |