

Кто что ест?

Окружающий мир
3 класс

Начинается урок,
Он пойдёт ребятам впрок,
Постарайтесь всё понять,
Учитесь тайны открывать.



Давайте вспомним

Царство
ЖИВОТНЫХ

```
graph TD; A[Царство ЖИВОТНЫХ] --> B[беспозвоночные]; A --> C[позвоночные];
```

беспозвоночные

позвоночные

**Вспомни, какое животное является
беспозвоночным, а какое позвоночным?**

• **1** - беспозвоночные

• **2** - позвоночные

бабочка



насекомое

1

белка



млекопитающее

2

Морская звезда



ИГЛОКОЖИЕ

1

ДОЖДЕВЫЕ ЧЕРВИ



черви

1

КРОКОДИЛ



пресмыкающиеся

2

лебедь



ПТИЦЫ

2

рак



1

ракообразные

рыба



рыбы

2

паук



паукообразные

1

лягушка



2


ЗЕМНОВОДНЫЕ

улитка




МОЛЛЮСКИ

1



Кто что ест



Животные



Хищные

Растительноядные

Отгадай загадку

Летом ходит без дороги
Возле сосен и берёз,
А зимой он спит в берлоге,
От мороза прячет нос.

МЕДВЕДЬ



Это кто в траве шуршит
И забавно так фырчит,
Весь в иголках, не возьмёшь?
Кто же это, дети?

ЁЖ



Этот зверь с двумя клыками,
С очень мощными ногами
И с лепёшкой на носу.
Роет землю он в лесу.

КАБАН



Всеядные





Животные

```
graph TD; A[Животные] --> B[Растительноядные]; A --> C[Хищные]; A --> D[Всеядные]; A --> E[Насекомоядные];
```





Растительноядные
Хищные
Всеядные
Насекомоядные



Самостоятельная работа

- Рабочая тетрадь
с. 55 задание №1

Проверка

Названия животных	Их пища	Группа по питанию
Ласточка Ёж Ящерица	Насекомые	
Сова Лиса Рысь	Мыши, полёвку, зайцы, птицы	
Кабан Ворона	Любая растительная и животные	
Лесная мышь Зяец Лось	Плоды, семена, веточка, листья, кора	




Цепи питания



Цепи питания



Цепи питания



Цепь питания - это

взаимосвязи между живым организмами, каждый из которых питается другим и, в свою очередь, служит пищей третьему.

Что будет, если ...?



Договори фразу:

- 1. Животные по способу питания бывают растительноядные, хищные, насекомоядные, всеядные
- 2. Животные связаны между собой в цепи питания
- 3. В основе цепи питания находятся растения
- 4. А заканчивается цепь питания насекомоядными и хищниками
- 5. В природе цепи питания переплетаются между собой, образуя сеть питания
- 6. Каждое звено в цепи питания очень важно

ПРОВЕРЬ СЕБЯ

1. Как называется группа животных, которая питается травой, мхом и грибами?

а) Растительноядные

б) Всеядные

в) Хищные

2. Как называется группа животных, которая питается мухами, гусеницами и комарами?

- а) Растительноядные**
- б) Хищные**
- в) Насекомоядные**

3. Какое насекомое имеет защитную окраску?

а) Божья коровка

б) Кузнечик

в) Муха

4. Как называется животных, которая питается мышами, мелкими птицами и рыбой?

- а) Насекомоядные
- б) Хищные
- в) Всеядные

5. Какое животное всеядное? _____

- а) Заяц
- б) Волк
- в) Медведь

6. Они питаются корнями растений, ягодами, насекомыми и рыбой?

а) Растительноядные

б) Хищные

в) Всеядные

Проверка

1 – А

2 - В

3 - Б

4 - Б

5 - В

6 - В



Домашние задание

По желанию:

составить кроссворд о ЖИВОТНЫХ

или подобрать загадки о ЖИВОТНЫХ

ОПРЕДЕЛИ СВОЁ НАСТРОЕНИЕ



отличное

я был(а) уверен(а) в
себе

мне было трудно

я устал(а)





Спасибо за урок!

