
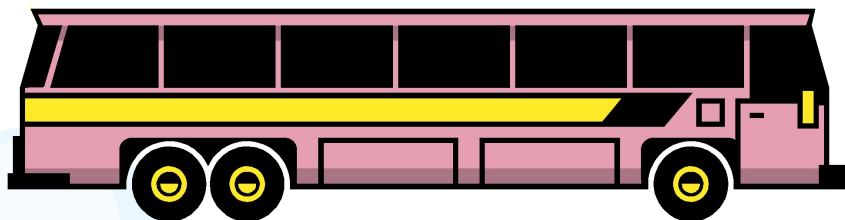




- 
- Пьёт бензин, как молоко,
Может бегать далеко.
Возит грузы и людей,
Ты знаком, конечно, с ней !
Обувь носит из резины,
И зовут её **машина**

Какие бывают автомобили ?



The background features several large, overlapping, colorful swirls in shades of purple, green, and blue. Interspersed among these swirls are numerous small, yellow, starburst-like shapes, some pointing towards the center and others pointing outwards, creating a dynamic and celebratory feel.

**Зачем нужны
автомобили ?**

Транспорт

История автомобиля



Виды транспорта

```
graph TD; A[Виды транспорта] --> B[Пассажирский]; A --> C[Грузовой]; A --> D[Специальный]; B --> B1[Автобус]; B --> B2[Троллейбус]; B --> B3[Трамвай]; B --> B4[Такси]; B --> B5[Легковой автомобиль]; C --> C1[Грузовик]; C --> C2[Самосвал]; C --> C3[Панелевоз]; C --> C4[Цистерна]; C --> C5[Экскаватор]; C --> C6[Бульдозер]; C --> C7[Подъёмный кран]; D --> D1[Пожарная]; D --> D2[Милиция]; D --> D3[Скорая помощь]; D --> D4[МЧС]; D --> D5[Почта]; D --> D6[Продукты]; D --> D7[Спортивные машины];
```

Пассажирский

Автобус

Троллейбус

Трамвай

Такси

**Легковой
автомобиль**

Грузовой

Грузовик

Самосвал

Панелевоз

Цистерна

Экскаватор

Бульдозер

**Подъёмный
кран**

Специальный

Пожарная

Милиция

Скорая помощь

МЧС

Почта

Продукты

**Спортивные
машины**

Наземный транспорт

Пассажирский



Грузовой



специальный





Работа с учебником

Страница 112

Пассажирский транспорт



Грузовой транспорт



Строительные машины





Работа с плакатом

Специальный транспорт



01

Специальный транспорт



02

Специальный транспорт



03


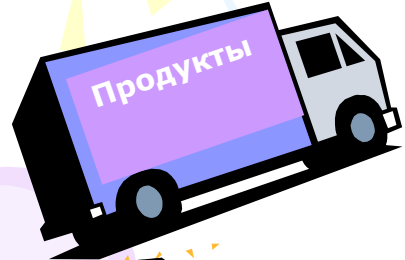
Специальный транспорт




01

Специальный транспорт





Устройство автомобиля



Топливо


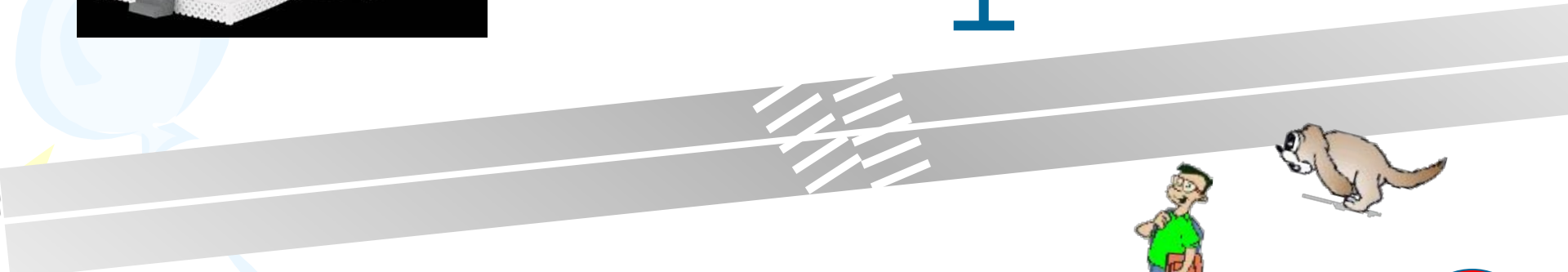
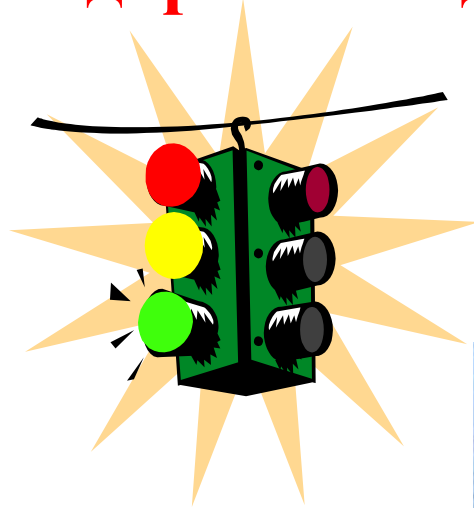
- **Бензин**
- **Газ**
- **Дизельное топливо (солярка)**
- **Электричество**



Как сохранить чистоту воздуха?

- Использовать двигатели,
которые работают на газе и
электричестве.**

Правила дорожного движения



Дорожные знаки



Домашнее задание

Страница

112-113

Рабочая тетрадь

стр. 46, №2



