

«Природные зоны России»

Ребята!

***Желаем вам
счастливого и
веселого
путешествия по
нашей стране.***



Тундра



Зона лесов



Степи



Пустыни



Распредели
растения и
животных
по природным
зонам



Тест: Природные зоны

1. Природная зона арктических пустынь расположена

- А. На островах Тихого океана
- Б. На островах Индийского океана
- В. На островах Северного Ледовитого океана

2. В ледяной зоне растут

- А. Кедры, березы, черемуха
- Б. Лишайники, мхи, полярные маки
- В. Бузина, орешник, айва

3. Большое скопление птиц на скалах называют

- А. Птичьи рынки
- Б. Птичьи базары

4. В тундре

- А. Ярко выражены все 4 времени года, одинаковые по продолжительности
- Б. Длинная, суровая зима и жаркое лето
- В. Длинная, суровая зима и короткое прохладное лето

5. В тундре обитают

- А. Куропатки, сайгаки, мыши
- Б. Песцы, лемминги, волки
- В. Верблюды, лошади, коровы

6. Самую большую территорию занимают

- А. Смешанные леса
- Б. Хвойные леса
- В. Широколиственные леса

7. Лесным исполином называют

- А. Благородного оленя
- Б. Лося
- В. Медведя

8. Характерный признак зоны степей – это

- А. Сплошной травянистый растительный покров
- Б. Отсутствие сплошного растительного покрова
- В. Обилие мхов, лишайников, кустарников

9. Основным занятием населения степей является

- А. Земледелие
- Б. Рыболовство
- В. Оленеводство

10. К животным пустыни относятся

- А. Корсак, сайгак, тушканчик
- Б. Рысь, лев, тигр
- В. Морж, тюлень, медведь

ОТВЕТЫ:

1.В

2.Б

3.Б

4.В

5.Б

6.Б

7.Б

8.А

9.А

10.А



Мы живем в лесной зоне


A photograph of a dirt path winding through a forest. The trees have green and yellowing leaves, suggesting autumn. A green rectangular box with a thin black border is superimposed over the upper middle part of the image, containing red text. The path leads from the foreground into the distance, flanked by dense foliage and tree trunks.

Узнай растения по описанию

Лишайни
К



дуб



www.migranov.ru

Лиственница





Ягель


Ящерица



Черепаша



Сова





Свалк
а



Пожар
в лесу



Знаки, запрещающие мусорить и разводить костер в лесу



Ландыш



Амурский тигр

Скорость волка в случае опасности-55 км в час.

Сколько километров может пробежать

волк?

Та

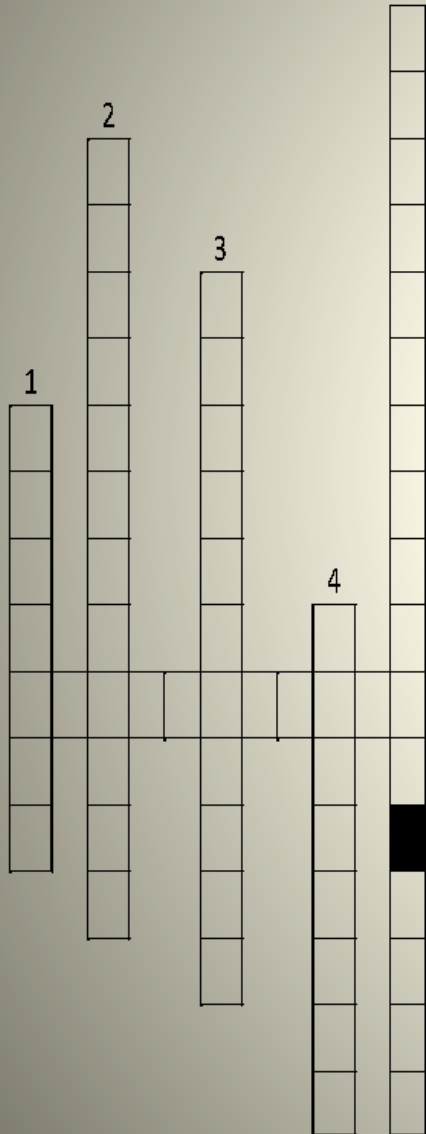


В особо неурожайные годы белки покидают родные места, чтобы найти корм. Они преодолевают сотни километров, двигаясь со скоростью 4 км в час. За день белки преодолевают расстояние



Одногорбый верблюд может
развивать
скорость до 16 км в час. Сколько
кило-
метров он пройдет за 5 часов?





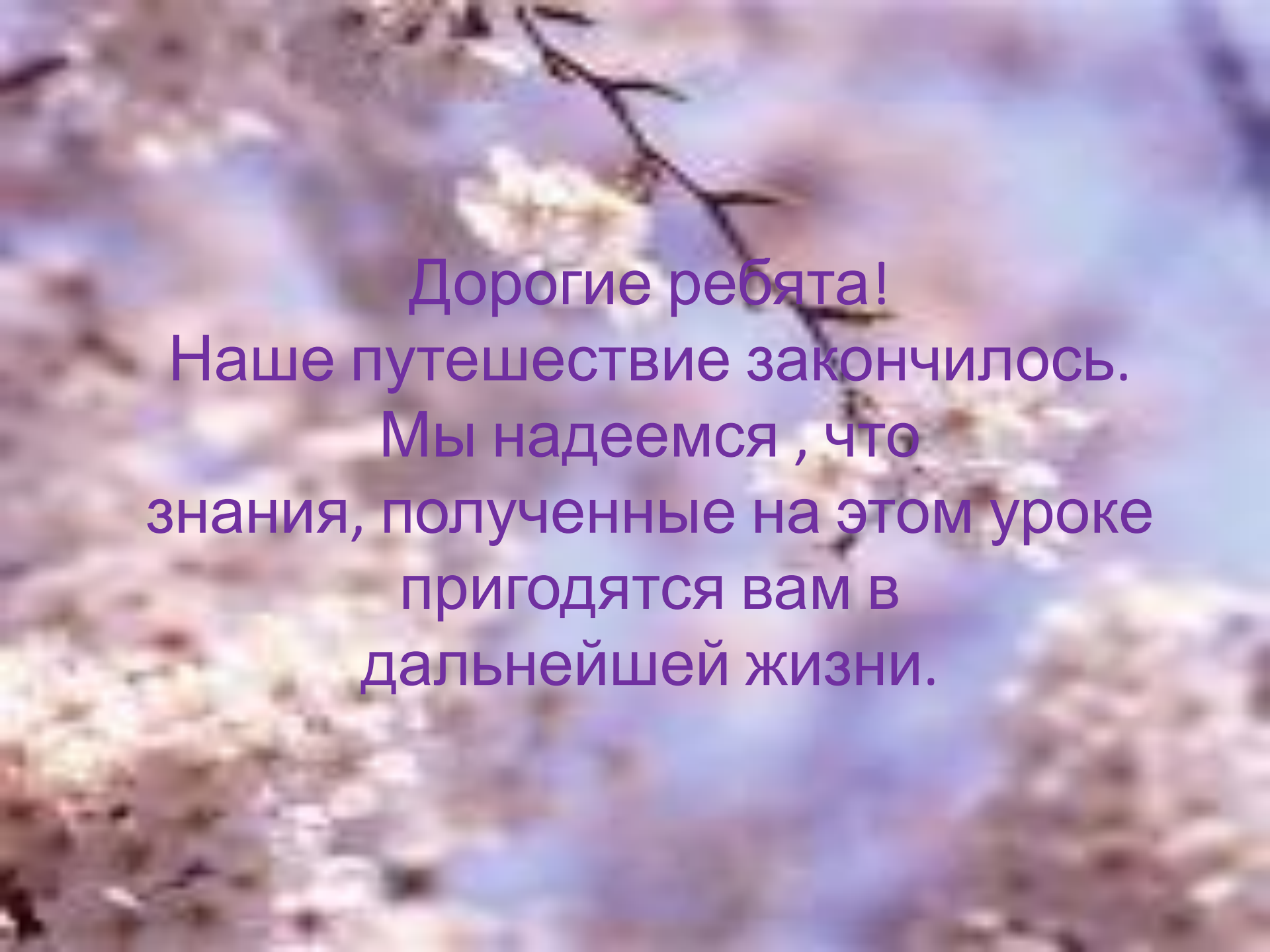
1. ... лесов по берегам рек приводит к тому, что реки мелеют и высыхают.
2. ... земель приводит к тому, что птицы переселяются на поля и там строят гнёзда, которые погибают во время полевых работ.
3. Сточные воды и мусор, попадающие в моря, приводят к их ...
4. Неумеренное ... приводит к тому, что в почве накапливается большое количество соли.
5. От вездеходов и тракторов в тундре нарушается ...



Браконьеры -это люди,
занимающиеся незаконной охотой ,
рыбной ловлей и уничтожением
деревьев и растений

Мы все-таки очень
друг другу нужны !





Дорогие ребята!
Наше путешествие закончилось.
Мы надеемся , что
знания, полученные на этом уроке
пригодятся вам в
дальнейшей жизни.