




**Тест по теме
«Размножение и
развитие растений»**

Инструкция:

1. Прочитай внимательно вопрос.
2. Прочитай внимательно все ответы.
Помни, что ответов может быть несколько.
3. Выбери геометрическую фигуру
(или фигуры    , ,
соответствующую вашему ответу.
4. Нарисуй на своём контрольном листе.

1. Какие насекомые не опыляют цветы?



муравьи



шмели, пчёлы



бабочки

3. Что образуется на месте цветков после опыления?

 **цветок**

 **плод**

 **нектар**

4. Какая часть растения развивается из семени первой?



ЛИСТ



стебель



корень

5. Почему семена в пакетиках не прорастают зимой?

- нет почвы
- не получают солнечного света
- не получают воды и тепла

6. В каком порядке развиваются части растений из семени?

- корень, стебель, лист, цветок
- лист, корень, стебель, цветок
- плод, стебель, лист, цветок

7. Что такое опыление?

- развитие растения из семени
- образование цветков
- перенос пыльцы с одного цветка на другой




8. Что не требуется для прорастания семян?

 тепло




 вода

 свет

9. Для распространения ветром у плодов имеются:

-  крылышки
-  зубчики
-  парашютики

10. Какие растения распространяются с помощью человека и животных?

-  репейник
-  череда
-  одуванчик

Ключ к ответам

1. 

2. 

3. 

4. 

5. 

6. 

7. 

8. 

9.  

10.  

Используемые источники:

Плешаков А. А., Гара Н. Н., Назарова З.Д. Окружающий мир: тесты, 3 класс. Пособие для учащихся общеобразовательных учреждений. М.: «Просвещение», 2011

Яценко И. Ф. Контрольно-измерительные материалы. Окружающий мир: 3 класс. М.: ВАКО, 2010

Презентация опубликована на сайте - viki.rdf.ru