

**ОКРУЖАЮЩИЙ МИР**

**ТЕМАТИЧЕСКИЙ**

**КОНТРОЛЬ**

**2 КЛАСС**

***КАК ИЗУЧАЮТ  
ОКРУЖАЮЩИЙ МИР***



# КАК ИЗУЧАЮТ ОКРУЖАЮЩИЙ МИР

НАБЛЮДЕНИЯ	РАССУЖДЕНИЯ	ВЫВОДЫ
ОПЫТЫ	ЗНАНИЯ	УМЕНИЯ

	<b>НАУКИ</b>	
ГЕОГРАФИЯ ИСТОРИЯ	БИОЛОГИЯ АСТРОНОМИЯ	ФИЗИКА ЭКОЛОГИЯ

# СОЕДИНИ НАЗВАНИЯ ОРГАНОВ ЧУВСТВ С НАЗВАНИЯМИ СООТВЕТСТВУЮЩИХ ОРГАНОВ ЧЕЛОВЕЧЕСКОГО ТЕЛА:



# ОРГАН ЗРЕНИЯ

## ГЛАЗ



# ОРГАН СЛУХА

УХО



# ОРГАН ОБОНЯНИЯ

НОС



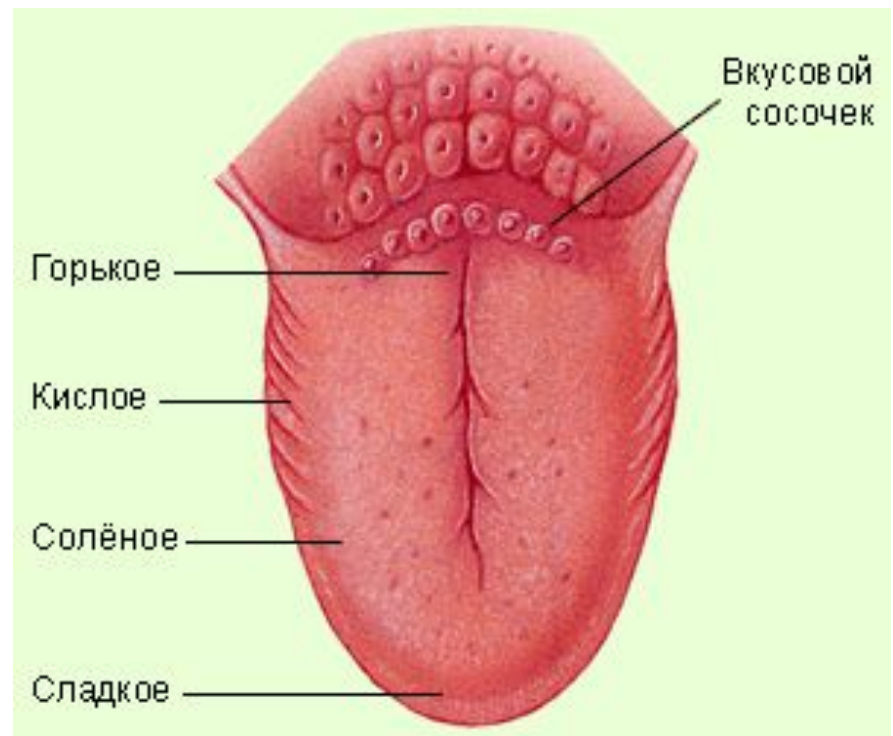
# ОРГАН ОСЯЗАНИЯ

КОЖА



# ОРГАН ВКУСА

## ЯЗЫК





# ОРГАНЫ

# ЧУВСТВ ЧЕЛОВЕКА



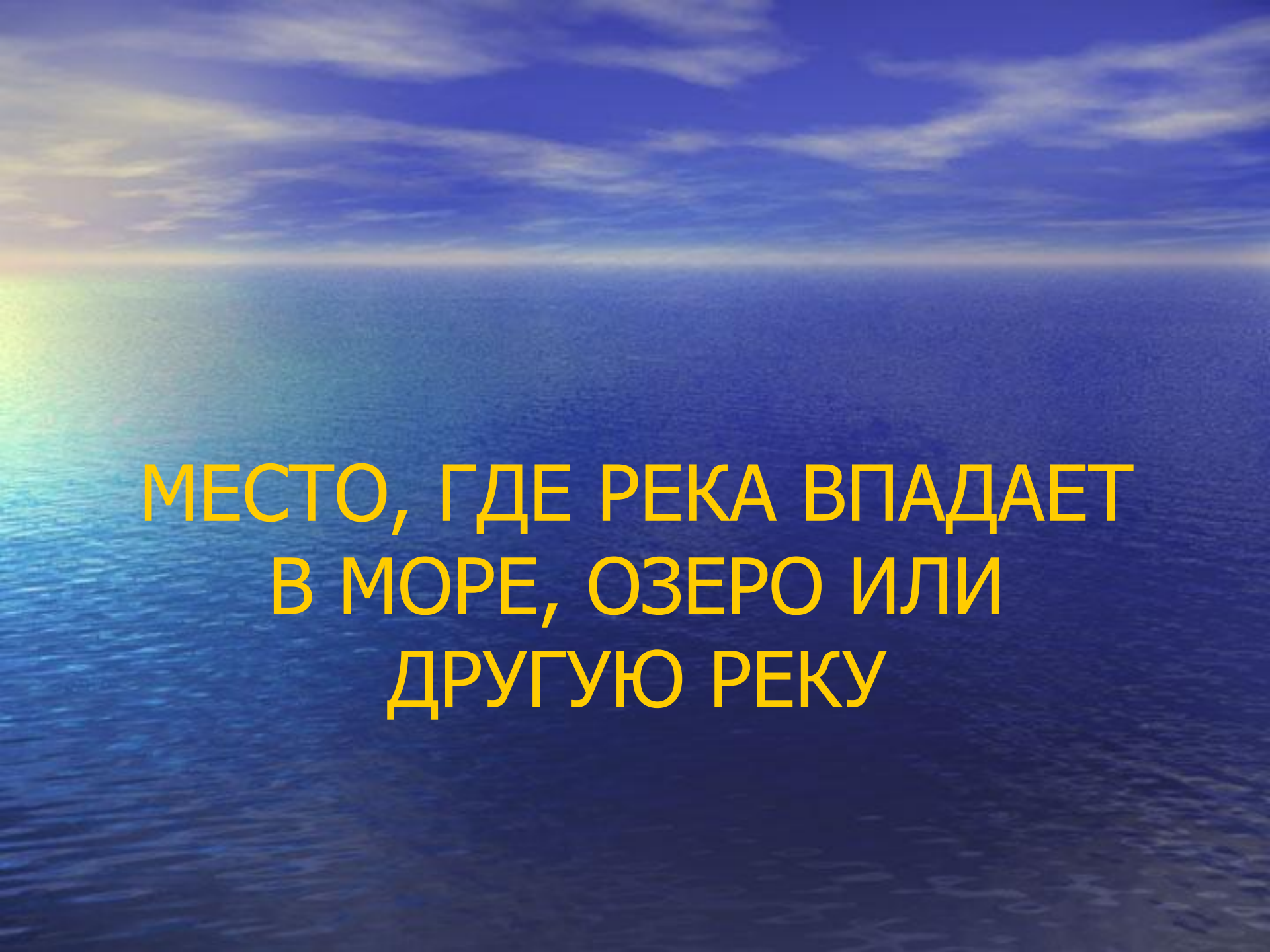
# МОЛОДЦЫ!

---



ЗАКОНЧИ ВЫСКАЗЫВАНИЕ,  
ЗАПИСАВ НУЖНОЕ СЛОВО

МЕСТО, ГДЕ РЕКА БЕРЁТ  
СВОЁ НАЧАЛО



**МЕСТО, ГДЕ РЕКА ВПАДАЕТ  
В МОРЕ, ОЗЕРО ИЛИ  
ДРУГУЮ РЕКУ**



УГЛУБЛЕНИЕ В ЗЕМНОЙ  
ПОВЕРХНОСТИ,  
ПО КОТОРОМУ ТЕЧЁТ РЕКА



РЕКА, ВПАДАЮЩАЯ  
В ДРУГУЮ,  
БОЛЕЕ КРУПНУЮ РЕКУ



ИСТОК



УСТЬЕ





РУСЛО



**ПРИТОК**

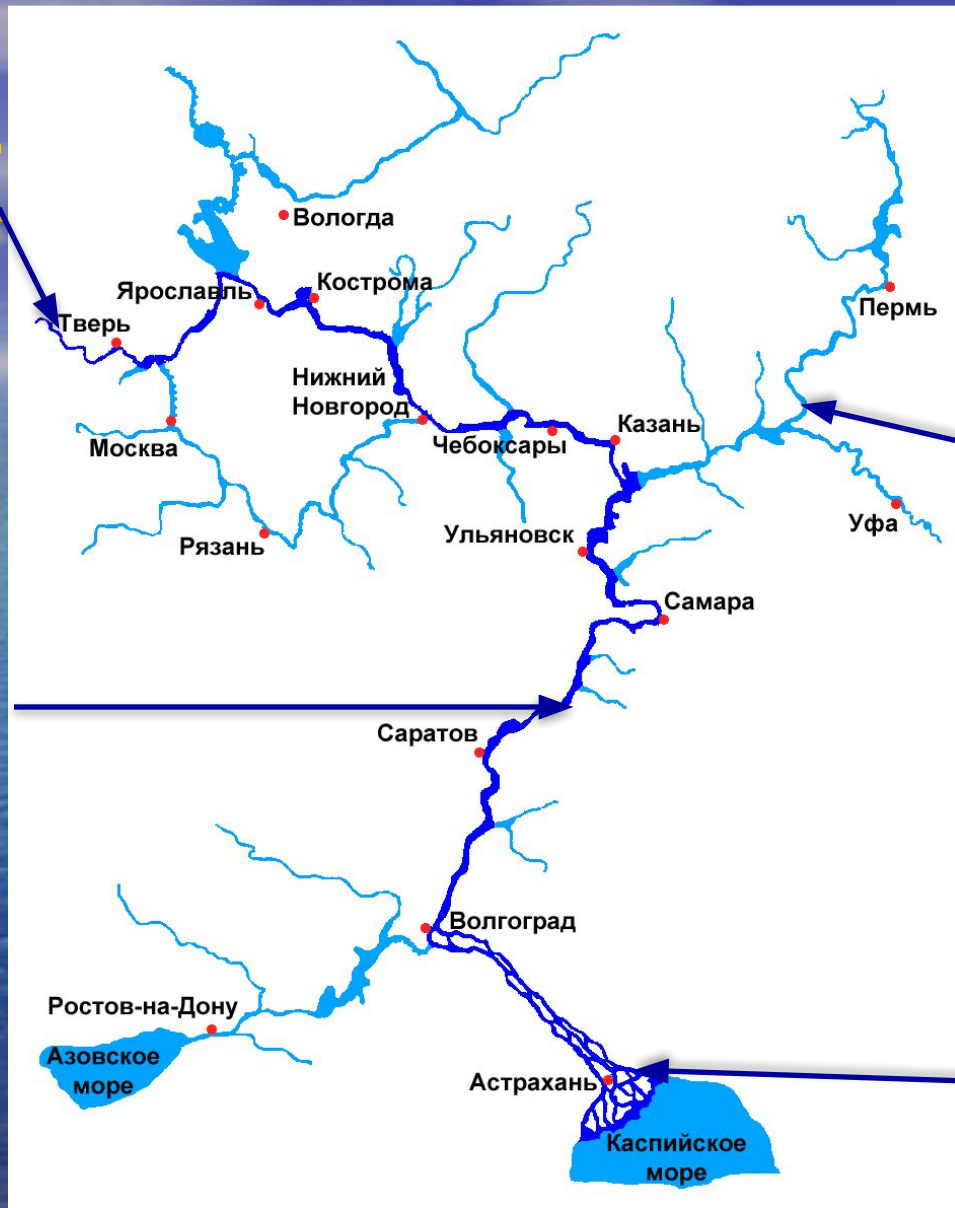
МОЛОДЦЫ!



ПОДПИШИ  
НА РИСУНКЕ  
У РЕКИ  
ЕЁ ЧАСТИ



ИСТОК



ПРИТОК

РУСЛО

УСТЬЕ

МОЛОДЦЫ!



**ПОДЧЕРКНИ ЗАПИСЬ,  
ОБОЗНАЧАЮЩУЮ САМУЮ  
НИЗКУЮ ТЕМПЕРАТУРУ**

1)  $+15^{\circ} \text{C}$        $+30^{\circ} \text{C}$        $0^{\circ} \text{C}$

2)  $-25^{\circ} \text{C}$        $0^{\circ} \text{C}$        $-5^{\circ} \text{C}$

1) 0° C



2) -25° C





МОЛОДЦЫ!




# В КАЖДОЙ ГРУППЕ НАЗВАНИЙ ЗАЧЕРКНИТЕ «ЛИШНЕЕ»

- а) ТЕРМОМЕТР, ФЛЮГЕР, НОЖНИЦЫ,  
МИКРОСКОП
- б) ОБОНЯНИЕ, ОСЯЗАНИЕ,  
ОЧАРОВАНИЕ, ЗРЕНИЕ
- в) АЗОТ, КИСЛОРОД, ВОДА,  
УГЛЕКИСЛЫЙ ГАЗ

# НОЖНИЦЫ

-ЭТО ИНСТРУМЕНТ,  
ОСТАЛЬНЫЕ СЛОВА  
ОБОЗНАЧАЮТ ПРИБОРЫ



# ОЧАРОВАНИЕ



НЕ ОТНОСИТСЯ  
К ОРГАНАМ ЧУВСТВ

# ВОДА

- ЖИДКОЕ ВЕЩЕСТВО



ОСТАЛЬНЫЕ ГАЗООБРАЗНЫЕ  
ВЕЩЕСТВА

МОЛОДЦЫ!




# ОТГАДАЙТЕ РЕБУС

Э



”””



Р

# Э КОЛО ГИЯ





# МОЛОДЦЫ!



# СПАСИБО!

**СОХРАНИ  
МИР  
ВОКРУГ  
СЕБЯ**

