


**КОНТРОЛЬНАЯ РАБОТА  
ПО ОКРУЖАЮЩЕМУ МИРУ  
ЗА ТРЕТЬЮ ЧЕТВЕРТЬ**

**1 КЛАСС**

# 1. Распредели плоды растений на 2 группы, дай названия плодам





## 2. Какие комнатные растения изображены?



1

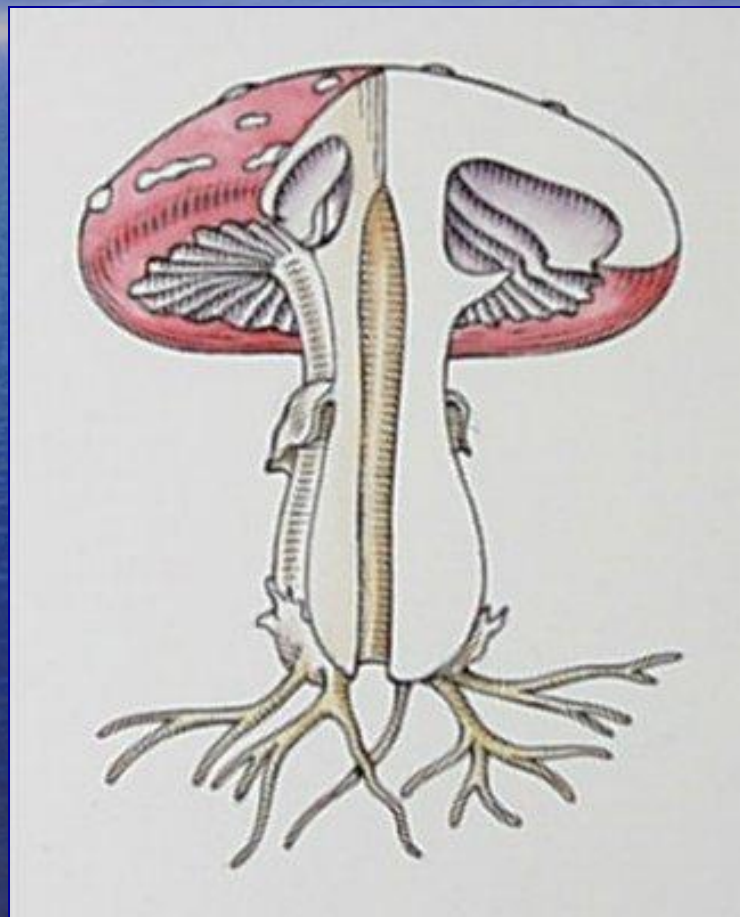


2



3

### 3. Что такое грибы? Покажи строение гриба





**4. Какие съедобные грибы вы знаете? Напишите**


**5. Какие ядовитые грибы вы знаете? Напишите**

## **6. Выбери существенные признаки млекопитающих и подчеркни их:**

- тело покрыто перьями;
- тело покрыто шерстью;
- тело ничем не покрыто;
- 6 ног;
- 4 ноги;
- крылья;
- вскармливают своих детёнышей молоком;
- откладывают яйца;
- рожают детёнышей живыми;



# 7. Какие млекопитающие изображены?



1



2



3

## 8. Выберите существенные признаки птиц и подчеркните их:

- 4 ноги;
- 2 ноги;
- крылья;
- наличие клюва;
- тело покрыто перьями;
- тело покрыто чешуёй;
- откладывают икру;
- откладывают яйца;
- питаются зерном, насекомыми или мясом.



# 9. Какие птицы изображены?



1



2



3



4