



ГОТОВ ЛИ ТЫ К ШКОЛЕ?

5-7 лет

Тестовые задания для проверки знаний детей

23 Какие из этих предметов потребуются, чтобы построить скворечник?



13 Для работы какого из предметов нужно электричество?



6 Какой из этих предметов относится к посуде?



ВЕСНА



Окружающий мир (Предметы)

ДИЗАЙН

© И.М.Горбовская
учитель-дефектолог МБДОУ «Детский сад № 5»
г.Усолье-Сибирское



Занимательный материал для проверки развития внимания перед поступлением в школу.

Прочитайте ребенку задание, предложите выбрать правильный ответ из четырех предложенных вариантов. Сравните ответ ребенка с правильными ответами, если они совпали, дайте малышу карточку с картинкой. Когда все задания будут выполнены, сосчитайте вместе с ребенком, сколько он набрал карточек.

Правильные ответы

1.-2 2.-3 3.-2 4.-3 5.-3 6.-4 7.-2 8.-1 9.-1 10.-1 11.-4 12.-2
13.-4 14.-2 15.-1 16.-4 17.-3 18.-4 19.-4 20.-2 21.-3 22.-2
23.-3 24.-2

Если ребенок набрал от 20 до 24 баллов – у него высокий уровень знаний о предметах.

От 11 до 19 – средний уровень знаний о предметах.

От 0 до 10 – низкий уровень знаний о предметах, нужно позаниматься с ним дополнительно.



1. Какой из этих предметов не относится к обуви?

1



2



3




4



2. Какой из этих предметов не относится к головным уборам?

1



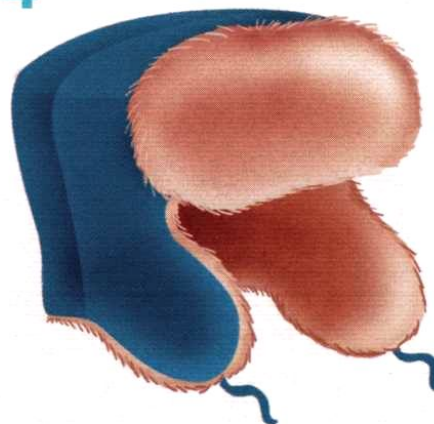
2



3



4



3. Какой предмет не нужен для работы в огороде?

1



2



3



4



4. Какой из этих предметов лишний?

1



2



3



4



5. Какой из этих предметов не относится к мебели?

1



2



3



4



6. Какой из этих предметов относится к посуде?

1



2



3



4




7. Какой из этих предметов не относится к школьным принадлежностям?

1



2



3



4



8. Какой из этих предметов относится к музыкальным инструментам?

1




2



3



4



9. Какой из этих головных уборов нужен пожарному?

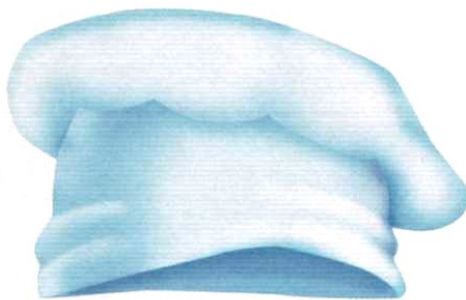
1



2



3



4



10. Выбери среди этих мячей футбольный.

1



2





3



4



11 Подбери подходящую пару к этому предмету




12. Выбери предмет, который изображён неправильно.

1



2



3



4



13. Для работы какого из предметов нужно электричество?

1



2



3



4




14. У какого из этих видов транспорта нет двигателя?

1



2



3



4



15. Какой предмет не подходит ко всем остальным?


1



2



3



4



16. Выбери лишний предмет.

1



2



3



4



17. Какой из этих предметов нужен для уборки дома?


1



2



3



4



18. Какая из этих машин называется "экскаватор"?

1



2



3



4



19. Выбери предмет, который не нужен для того, чтобы приготовить суп?

1



2



3



4



20. Какой из этих предметов необходимо взять с собой в поход?

1



2



3



4



21. Выбери предмет, который нужен человеку этой профессии



1



2



3



4




22. Какой предмет нужен этому спортсмену?



1



2



3



4



23. Какие из этих предметов потребуются, чтобы построить скворечник?



1



2



3



4




24. Какие из этих предметов потребуются, чтобы сшить платье?



1



2



3



4



Желаю тебе успеха!

