

ОУПНЫЕ УЧАСТКИ СУШИ,
ОКРУЖЕННЫЕ ВОДОЙ,
ПРИНЯТО НАЗЫВАТЬ –

- А) остров
- Б) материк
- В) пустыня




КАКОМУ ПРОМЕЖУТКУ
ВРЕМЕНИ МОЖНО ОТНЕСТИ
ЭТОТ ТРАНСПОРТ-

А) настоящее

Б) будущее

В) прошлое



КОЛЬКО ЛЕТ СОСТАВЛЯЕТ
ЕК-

- А) 100 лет
- Б) 1000 лет
- В) десятилетие

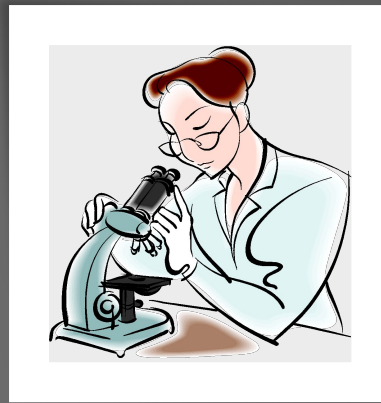
ИСТОРИКИ-ИСТОРИКИ ДЛЯ
ОЗНАЧЕНИЯ ВЕКОВ ОБЫЧНО
ИСПОЛЬЗУЮТ -

- А) римские цифры
- Б) арабские цифры



О ОТНОСИТЬСЯ К НЕЖИВОЙ ИРОДЕ-

- А) бактерии
- Б) звёзды
- В) куст малины





ЧТО ОТНОСИТСЯ К ЖИВОЙ ПРИРОДЕ

- А) каменный уголь
- Б) песок
- В) иглокожие



ДЕЛИ ИСКУССТВЕННОЕ ЛО-

- А) фарфоровая чашка
- Б) куст рябины
- В) нефтяные залежи



КАКАЯ НАУКА ЗАНИМАЕТСЯ
ИЗУЧЕНИЕМ ЗВЁЗДНОГО НЕБА-

- А) биология
- Б) астрономия
- В) зоология



О ЯВЛЯЕТСЯ САМЫМ
БОЛЬШИМ ТЕЛОМ СОЛНЕЧНОЙ
СИСТЕМЫ-

- А) Луна
- Б) Сатурн
- В) Солнце



ГДЕ СОЛНЦЕ ВЕСЬ ГОД
ХОДИТ ВЫСОКО, ТАМ
ЗИМОЙ И ЛЕТОМ
ОДИНАКОВО ТЕПЛО-

- А) экватор
- Б) тропики
- В) юг



ЭТОГО УСЛОВИЯ ЗАВИСИТ
РАЗВИТИЕ
РАЗМНОЖЕНИЕ И ДАЖЕ
РАССЕЛЕНИЕ НА ЗЕМЛЕ-

А) Солнце – источник тепла

Б) Солнце – источник света



КАКОГО ВЕЩЕСТВА ВИСИТ КЛИМАТ НАШЕЙ ПЛАНЕТЫ

- А) пресная вода
- Б) солёная вода
- В) запасы воды



КАКАЯ ОБОЛОЧКА ЗЕМЛИ ЩИЩАЕТ ЗЕМЛЮ ОТ ПАДЕНИЯ МЕТЕОРИТОВ-

- А) атмосфера
- Б) литосфера
- В) гидросфера



ВЫБЕРИ ПРИЧИНУ ГРЯЗНЕНИЯ ВОЗДУХА-

- А) экологически- чистый транспорт
- Б) химические выбросы в атмосферу
- В) химические сливы в воду



СОСТОЯНИЕ АТМОСФЕРЫ В
ОПРЕДЕЛЁННЫЙ
ПРОМЕЖУТОК ВРЕМЕНИ
НАЗЫВАЮТ

- А) осадками
- Б) температурой воздуха
- В) погодой

