



**Окружающий мир
УМК «Перспектива» .**

3 класс

Раздел: «Радость познания»

Тест


Вопрос № 1

К способам исследования относится:

А	В	С	D
моделирование	беседа	увеличительный прибор	природа

Вопрос № 1

МОДЕЛИРОВАНИЕ



Вопрос № 2

Найди увеличительный прибор:

A

линейка

B

термометр

C


микроскоп

D

МОЛОТОК

Вопрос № 2

МИКРОСКОП



Вопрос № 3

Книга, где представлен обзор знаний.

A

словарь

B

энциклопедия

C


мифы

D

путеводитель

Вопрос № 3

ЭНЦИКЛОПЕДИЯ



Вопрос № 4

Где можно получить сведения о космических объектах

A	В планетарии
B	В краеведческом музее
C	В океанариуме
D	В путешествии

Вопрос № 4

В планетарии




Вопрос № 5

Сколько материков существует на Земле?

A	B	C	D
5	6	7	8

Вопрос № 5

6



Вопрос № 6

Какой из океанов самый большой?

A

B

C

D

Атлантический


Тихий

Индийский

Южный

Вопрос № 6

Тихий




Вопрос № 7

Каким цветом на карте обозначены горы?

A	Жёлтым
B	Зелёным
C	Белым
D	Коричневым

Вопрос № 7

Коричневым



Вопрос № 8

Что здесь лишнее. Почему?

A	трамвай
B	теплоход
C	автомобиль
D	троллейбус

Вопрос № 8

Теплоход




Вопрос № 9

Что не относится к средствам информации?

A	телефон
B	телевидение
C	радио
D	журнал

Вопрос № 8

Телефон



Вопрос № 10

Что не относится к средствам связи?

A

телефон

B

телеграф

C

почта

D

газета

Вопрос № 10

Газета



Источники

Плешаков А.А., Новицкая М. Ю. Окружающий мир.
3 класс, часть 1, «Просвещение», М.