

«ПАЛИТРА ТОП СЛАЙДОВ - 2015»

VASHABNP.INFO  
НАЧАЛЬНАЯ ШКОЛА



# ТЕСТ ПО ТЕМЕ ВОДА И ЕЁ СВОЙСТВА


3 КЛАСС

УМК «ПЕРСПЕКТИВНАЯ НАЧАЛЬНАЯ ШКОЛА»



Подготовила  
учитель начальных классов  
МОУ СОШ №1 МО «Барышский район»  
Ульяновской области  
Путова Алла Юрьевна





**ДОРОГИЕ РЕБЯТА!**



**Предлагаю проверить свои знания по  
теме: «Вода и её свойства».**


**Выберите один правильный ответ.**

**При выполнении работы не  
торопитесь, будьте внимательны.**



**Желаю удачи!**



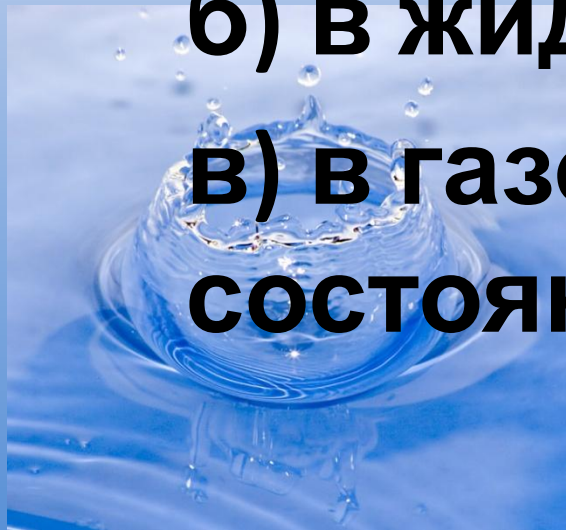


# **1. ЛЁД И СНЕГ – ЭТО ВОДА...**

**а) в твердом состоянии;**

**б) в жидком состоянии;**

**в) в газообразном  
состоянии.**



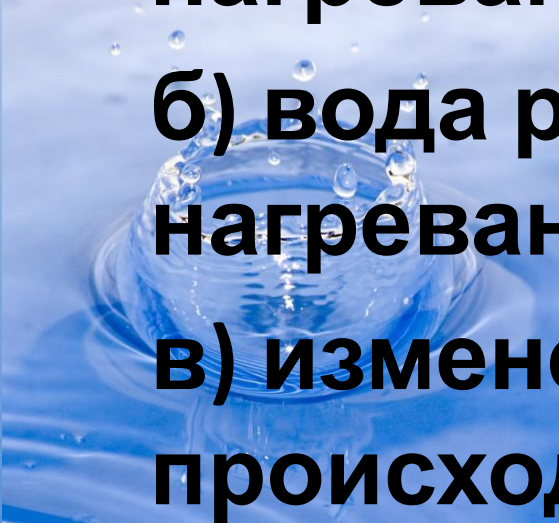


## **2. ЧТО ПРОИСХОДИТ С ВОДОЙ ПРИ НАГРЕВАНИИ?**

**а) вода сжимается при  
нагревании;**

**б) вода расширяется при  
нагревании;**

**в) изменений с водой не  
происходит.**









**3. ПЕРЕХОД ВОДЫ ИЗ  
ЖИДКОГО СОСТОЯНИЯ В ПАР  
НАЗЫВАЕТСЯ...**

- а) замерзание;**
- б) испарение;**
- в) текучесть**



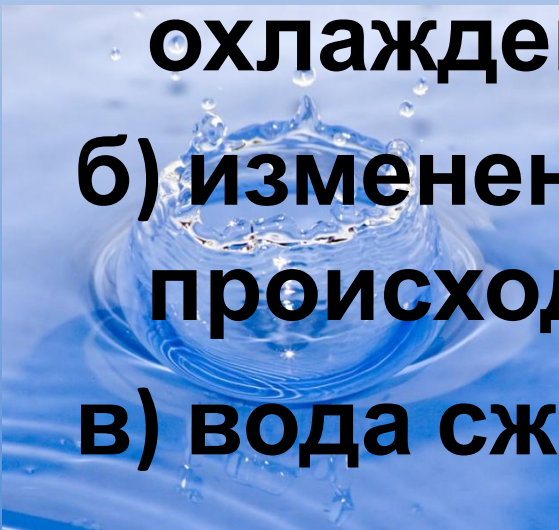




## **4. ЧТО ПРОИСХОДИТ С ВОДОЙ ПРИ ОХЛАЖДЕНИИ?**

**а) вода расширяется при охлаждении;**

**б) изменений с водой не происходит;**

**в) вода сжимается при охлаждении**






**5. ТЫ ВЫМЫЛ ПОЛ В КЛАССЕ.  
ПОЧЕМУ ОН ЧЕРЕЗ НЕКОТОРОЕ  
ВРЕМЯ СТАЛ СУХИМ?**



**а) вода с поверхности пола  
испарилась;**



**б) вода впиталась в поверхность  
пола;**

**в) вода осталась на подошвах  
обуви учеников, которые ходили**

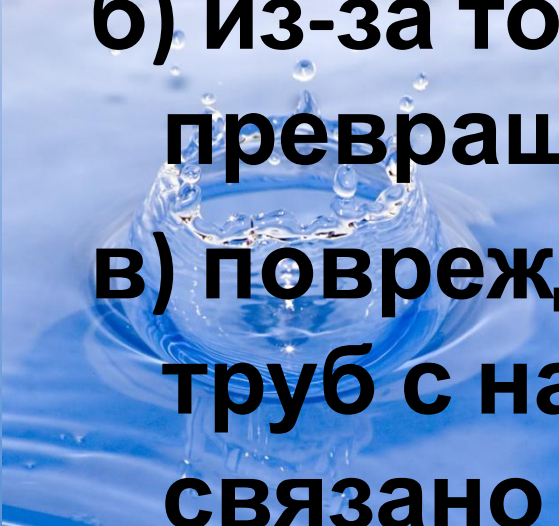




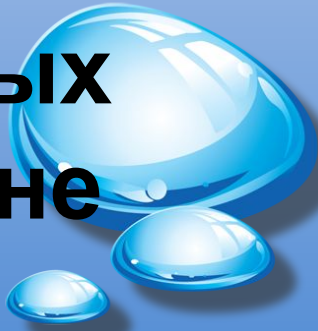
**6. Из-за чего зимой могут лопаться водопроводные трубы?**

**а) из-за того, что вода, превращаясь в лёд, расширяется;**

**б) из-за того, что вода, превращаясь в лёд, сжимается;**



**в) повреждение водопроводных труб с наличием в них воды не связано**









**7. ИЗ КАКОГО СОСУДА  
ОДИНАКОВОЕ КОЛИЧЕСТВО  
ВОДЫ ИСПАРИТСЯ БЫСТРЕЕ?**

**а) из бутылки;**

**б) из стакана;**

**в) из блюдца**







# 8. КТО ИЗОБРЕЛ ШКАЛУ НА ТЕРМОМЕТРЕ?

а) Галилей

б) Цельсий

в) Юлий Цезарь





# ПРОВЕРЬ СЕБЯ:

1 а

2 б,

3 б,

4 в,

5 а,

6 а,

7 в,

8 б






**Материал взят из методического  
пособия «Окружающий мир. 3 класс»**

**О.Н. Федотова, Г.В. Трафимова,  
С.А.Трафимов, Л.А. Царева**

**<http://www.akademkniga.ru/library/#30>**







- [http://lotoskay.ucoz.ru/load/shablony\\_dlja\\_prezentacij/priroda/voda/144-1-0-2867](http://lotoskay.ucoz.ru/load/shablony_dlja_prezentacij/priroda/voda/144-1-0-2867)

