



Тесты по окружающему миру

4 класс



Каюмова Т.Т.

2010 год.

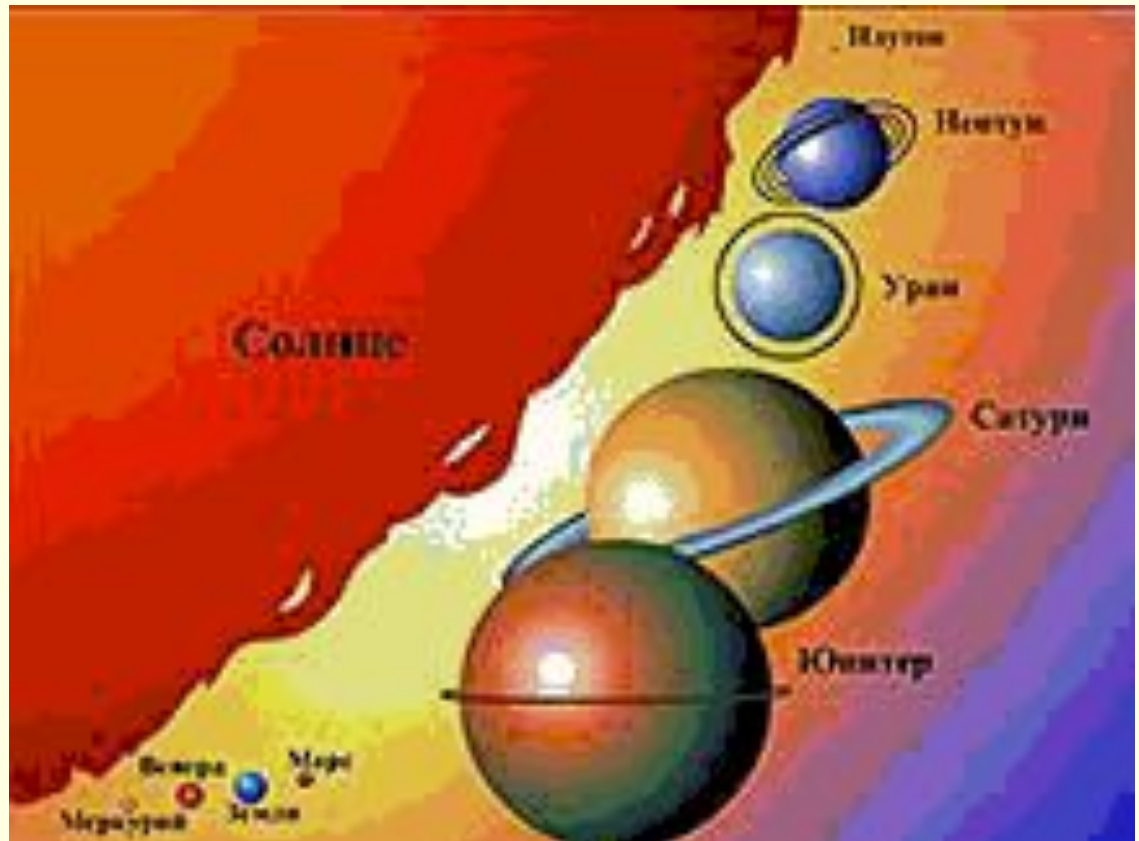
5klass.net

1. Как называется наука о небесных телах? Обведи нужную букву.

- а) история;
- б) география;
- в) экология;
- г) астрономия.

2. Сколько планет вращается вокруг Солнца? Обведи нужную букву.

- а) 7;
- б) 9;
- в) 11.



3. Что такое исторический источник? Обведи нужную букву.

- а) документ, срок действия которого давно истёк;
- б) источник, родник, в котором вода выходит на поверхность с давних времён;
- в) то, что может рассказать нам о прошлом людей.

4. Что может быть историческим источником? Вычеркни лишнее.

- Древняя рукопись, монеты, современные изделия, легенды, пословицы и поговорки, правила поведения в метро, памятники, здания.



5. Где расположена природная зона арктических пустынь?

Обведи нужную букву.

- а) на островах Тихого океана;
- б) на островах Индийского океана;
- в) на островах Северного Ледовитого океана.

6. Подчеркни лишнее слово в каждой строке.

- а) овёс, кукуруза, подсолнечник, лук;
- б) огурец, кабачок, чеснок, вишня;
- в) груша, абрикос, гречиха, смородина;
- г) капуста, лилия, ирис, флоксы.

7. Почему хлеб – всем голова?

Обведи нужную букву.


-
- а) хлеб бывает круглым, похожим на голову;
 - б) хлеб – главный продукт питания человека;
 - в) зёрна – главная часть хлебных растений.

8. Кто открыл Америку? Обведи нужную букву.

■ а) Фернан Магеллан;



■ б) Христофор Колумб;




■ в) Михаил Лазарев.



9. Какие права имеет каждый человек? Обведи буквы правильных ответов.

- а) право на свободу;
- б) право на образование;
- в) право на бесплатный проезд в общественном транспорте;
- г) прав на достойную жизнь;
- д) право на труд.



10. Установи соответствие.

1. Герб



А. Торжественное музыкальное произведение, принятое как символ государственного единства

2. Флаг



Б. Отличительный знак, который может принадлежать человеку, городу, государству единства

3. Гимн



В. Прикрепленное к древку или шнуру полотнище определенного цвета или нескольких цветов

**11. В каком порядке расположены (сверху вниз) цветные полосы на флаге России?
Обведи нужную букву.**

- **а) синяя, белая, красная;**
- **б) красная, синяя, белая;**
- **в) белая, синяя, красная.**

