



Тест по окружающему миру  
по теме: «Солнечная система»

К учебнику О. Т. Поглазовой  
«Окружающий мир. 4 класс»  
Фадеева И. В.

# Вопрос № 1

## Кто изучает звёзды?

---

А

Метеоролог

Б

Лунатик


В

Астроном

# Это правильный ответ

---


Переход к следующему вопросу



# Это неправильный ответ

---

Переход к следующему вопросу



# Вопрос № 2

## Группа звёзд, занимающая определённый участок неба, - это ...

---

А

Поток метеоров

Б

Созвездие


В

Астероиды

# Это правильный ответ

---

Переход к следующему вопросу



## Вопрос № 3

### Солнце – это не ...

---

А

Раскалённый газовый шар

Б

Самая большая звезда во  
вселенной


В

Центр Солнечной системы

# Это правильный ответ

---

Переход к следующему вопросу





## Вопрос № 4

### Самые горячие звёзды ...

---

А

Жёлтого и красного цвета

Б

Белого и голубого цветов


В

Зелёного и оранжевого цветов.

# Это правильный ответ

---

Переход к следующему вопросу



## Вопрос № 5

**Космическое тело, обращающееся вокруг планеты, называется ...**

**А**

**Метеором**

**Б**

**Спутником**


**В**

**Метеоритом**

# Это правильный ответ

---

Переход к следующему вопросу



# Вопрос № 6

## Путь планеты в Солнечной системе называется ...

---

А

Орбитой

Б

Млечным путём


В

Небесной дорогой

# Это правильный ответ

---

Переход к следующему вопросу



# Вопрос № 7

## Самым близким к Земле космическим телом является ...

---

А

- Орбитой

Б

- Млечным путём


В

- Небесной дорогой

# Это правильный ответ

---

Переход к следующему вопросу





# Вопрос № 8

## Самой яркой планетой на небосводе является...

---

А

Марс

Б

Венера


В

Сатурн

# Это правильный ответ

---

Переход к следующему вопросу



# Вопрос № 9

## Самой близкой к Солнцу планетой является ...

---

А

Луна

Б

Уран


В

Меркурий

# Это правильный ответ

---

Переход к следующему вопросу



## Вопрос № 10

**Много ярких колец окружает планету...**

---

А

Поток метеоров

Б

Созвездие


В

Астероиды

# Это правильный ответ

---

Переход к следующему вопросу



## Вопрос № 11

**Почему меняется вид Луны в течение месяца?**

А

Поток метеоров

Б

Созвездие


В

Астероиды

# Это неправильный ответ

---

Переход к следующему вопросу





## Вопрос № 12

**Почему Солнце и Луну земляне видят  
одинаковых размеров?**

---

А

Поток метеоров

Б

Созвездие


В

Астероиды

# Это правильный ответ

---

Переход к следующему вопросу



# Вопрос № 13

## Метеорные тела – это ...

---

А

Поток метеоров

Б

Созвездие

В

Астероиды

Это правильный ответ

---

Тест закончен

