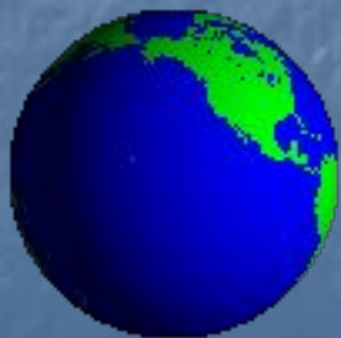




Тепловые пояса



Восстановите рассказ:

Модель Земли называют *глобус*.

Условное изображение поверхности Земли на плоскости называют *карта*.

Существует много видов географических карт.

Это *физическая,*
карта полушарий и другие.

На физической карте синим цветом
обозначена ... , коричневым - ... ,

вода жёлтым - ... *возвышенности*

зелёным - ... *равнины*

Угадай материк по контурам



Северная Америка



Южная Америка



Африка



Евразия

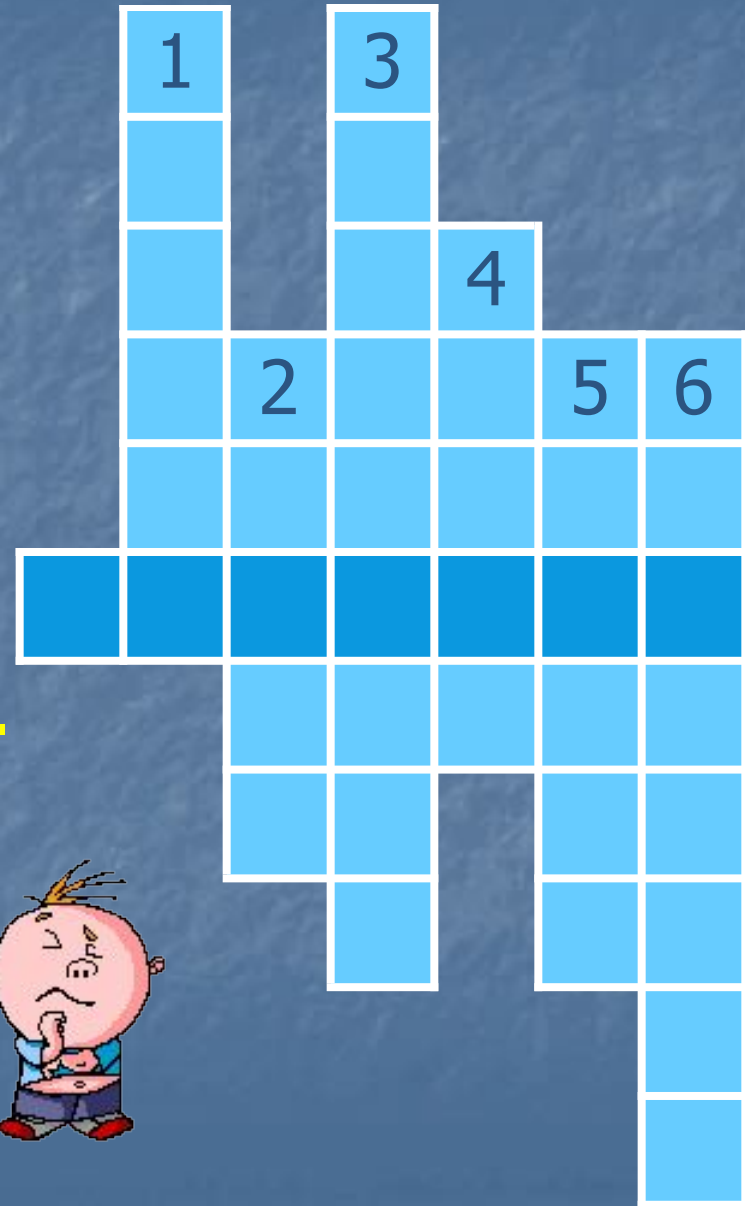


Австралия

Отгадайте кроссворд



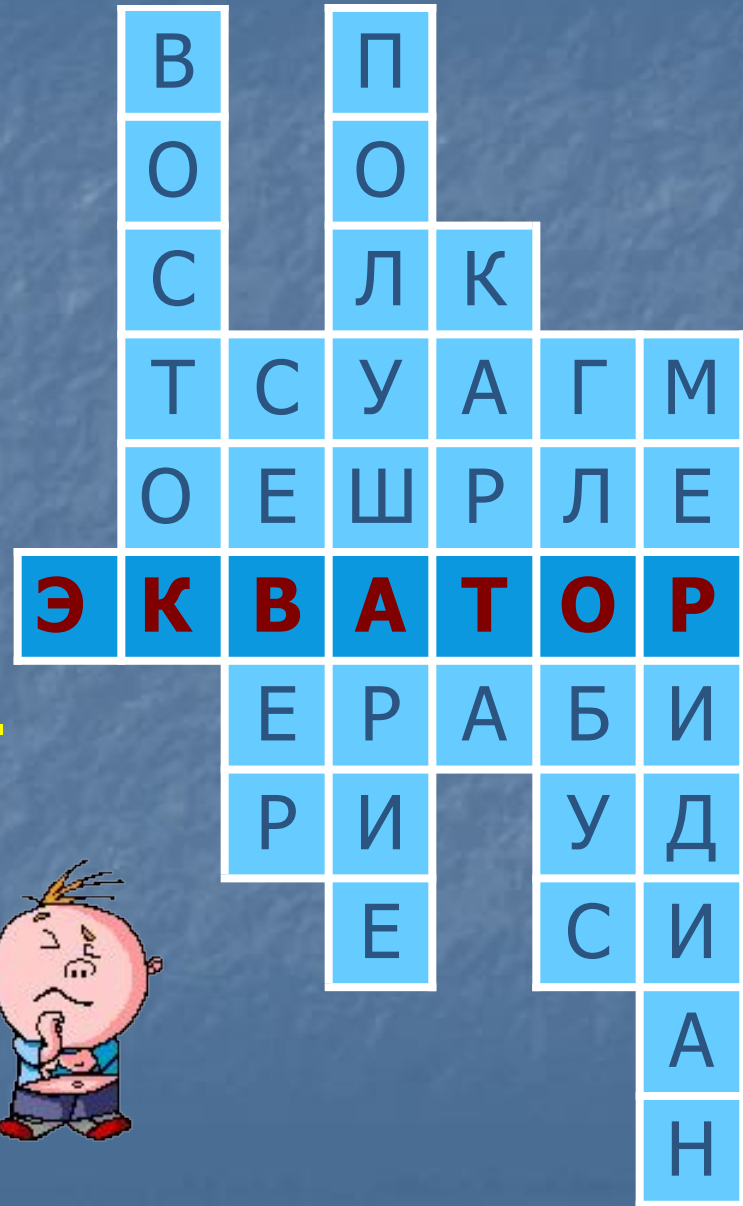
1. **Сторона света, в которой встает Солнце.**
2. **Одна из сторон света, на которую указывает стрелка компаса.**
3. **Половина земного шара.**
4. **Изображение Земли на плоскости.**
5. **Модель Земли.**
6. **Условная линия, идущая по поверхности Земли от одного полюса к другому.**



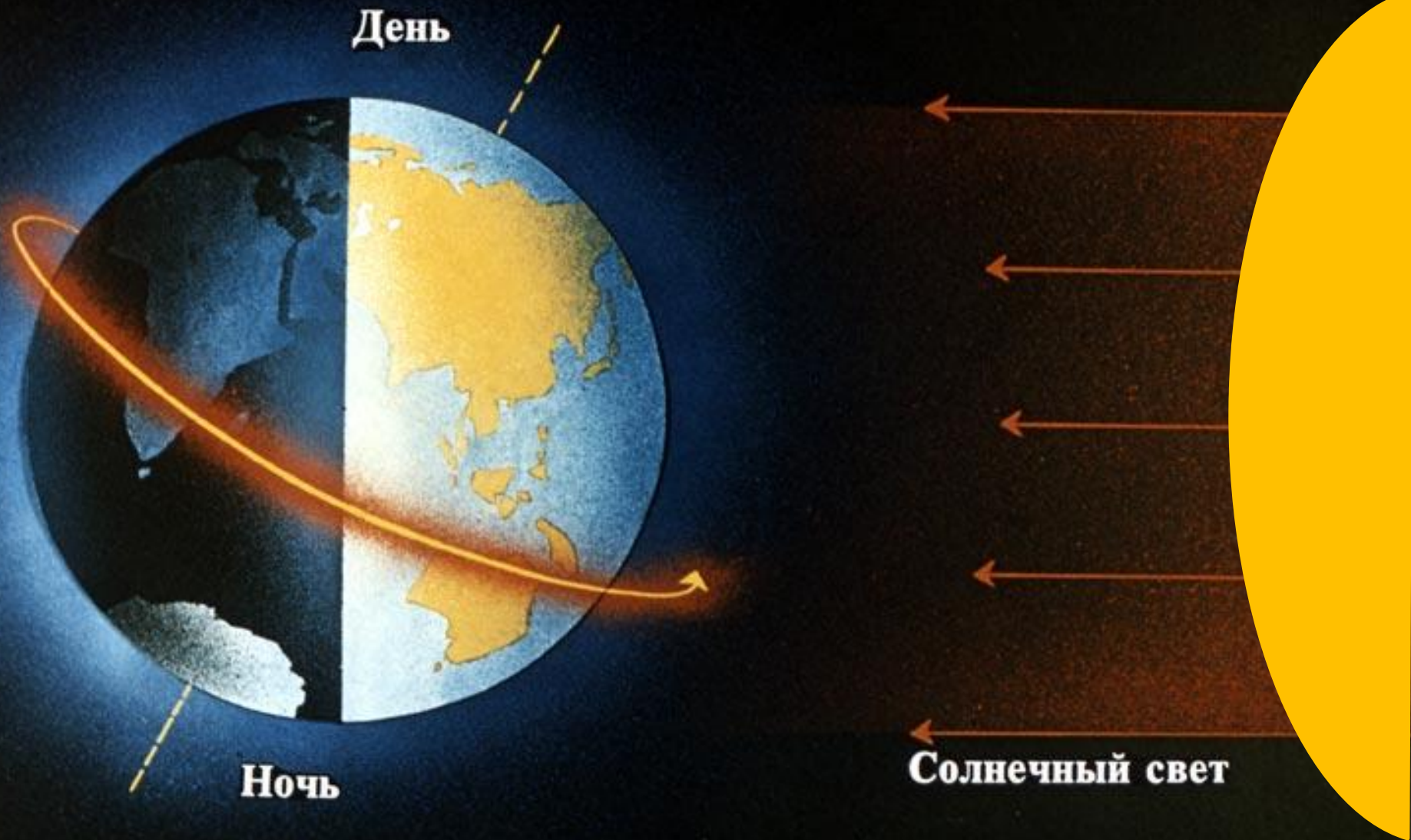
Правильные ответы



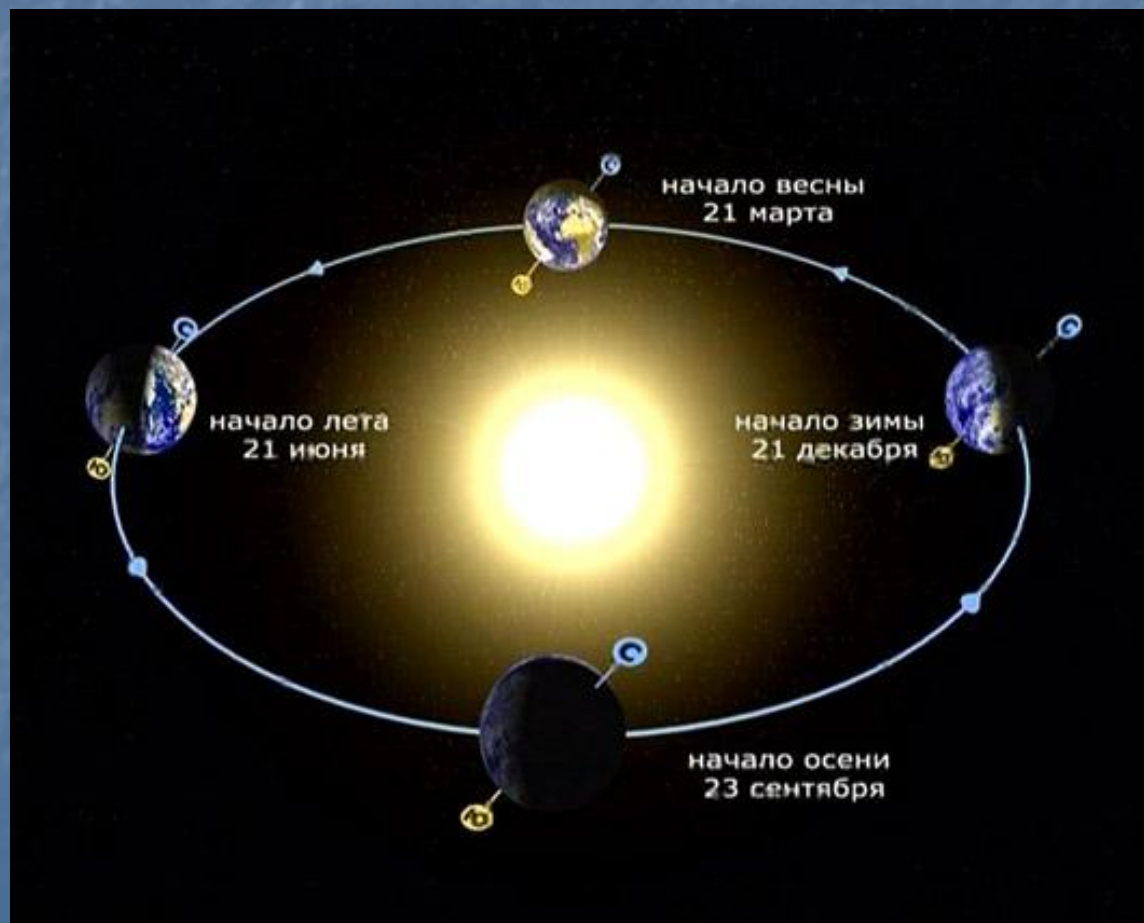
1. **Сторона света, в которой встает Солнце.**
2. **Одна из сторон света, на которые указывает стрелка компаса.**
3. **Половина земного шара.**
4. **Изображение Земли на плоскости.**
5. **Модель Земли.**
6. **Условная линия, идущая по поверхности Земли от одного полюса к другому.**



Почему Солнце неодинаково «любит» Землю?



Почему Солнце неодинаково «любит» Землю?



Пояса освещённости



северный полярный круг



полярный пояс

умеренный пояс

тропический пояс

умеренный пояс

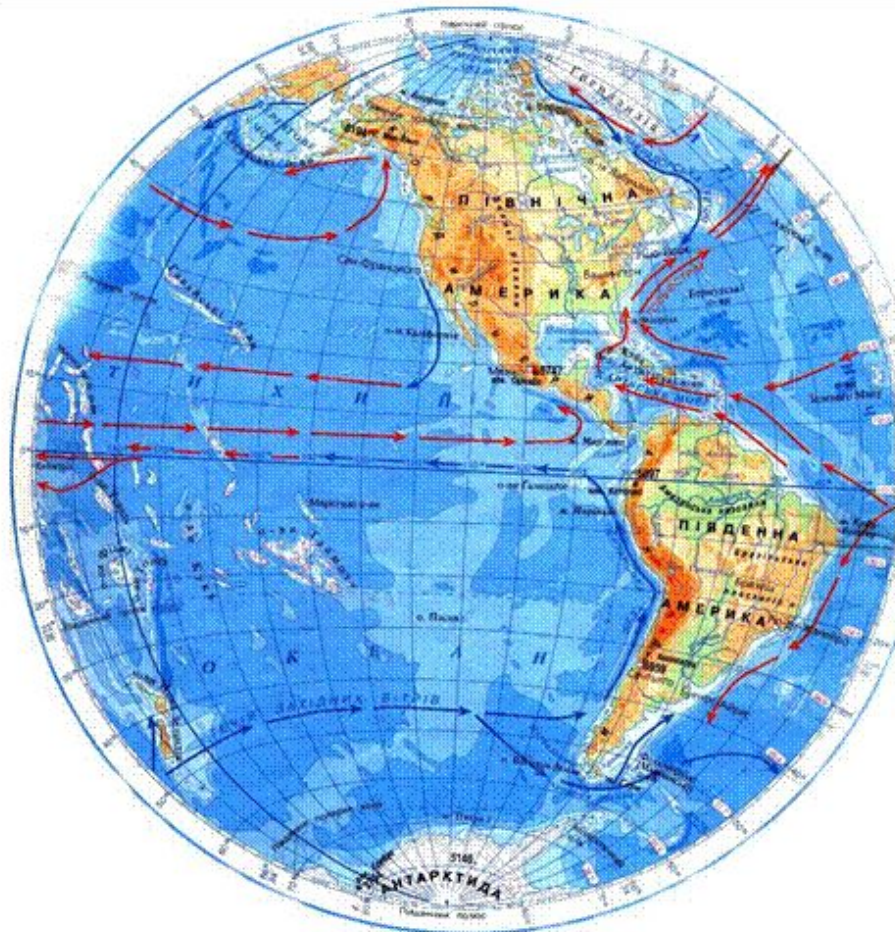
полярный пояс

северный тропик

экватор

южный тропик

южный полярный круг



ТРОПИЧЕСКИЙ



ПОЯС



умеренный



северный



ПОЯС



УМЕРЕННЫЙ



ЮЖНЫЙ



ПОЯС

ПОЛЯРНЫЙ



СЕВЕРНЫЙ



ПОЯС



ПОЛЯРНЫЙ

ЮЖНЫЙ



ПОЯС



Итог урока



- От чего зависит разделение поверхности Земли на 5 поясов освещённости?
- Каково направление солнечных лучей в тропическом поясе, умеренных и полярных поясах?
- Какова продолжительность дня и ночи на экваторе?