



ГБОУ Школа №1245 г.Москва 2017г

## Окружающий мир



### Тема: "Путешествия"

**Учитель начальных классов  
Чижмакова Марина Валерьевна**



Найдите правильные ответы.

1. Кто был основателем  
Москвы?

А. Юрий Долгорукий

Б. Пётр Первый

В. Дмитрий Донской

Г. Георгий Победоносец




2. Где находится Канада?

А. В Африке

Б. В Северной Америке

В. В Южной Америке

Г. В Австралии




3. Что летом делают животные?

А. Впадают в спячку

Б. Выводят потомство

В. Заботятся о потомстве

Г. Улетают в тёплые края




4. Какие  
достопримечательности  
находятся в Санкт-  
Петербурге?

А. Кремль

Б. Дворцовая площадь

В. Исаакиевский собор

Г. Храм Василия Блаженного



5. Каких насекомых следует остерегаться на лугу?

А. Бабочек

Б. Стрекоз

В. Пчёл


Г. Ос



6. Закончите предложение.

Столица нашей Родины –  
город

---



7. Запишите парами  
географические объекты и  
соответствующие им материки.

Нил

Евразия


Гималаи

Африка

Амазонка


Южная Америка





8. Напишите известные вам  
стороны горизонта.


---



9. Определите, о какой достопримечательности нашей страны идёт речь?

Он - один из символов нашей Родины. В нём находятся уникальные памятники истории и культуры.

Это - \_\_\_\_\_



10. На какой реке расположен Санкт-Петербург?

А. На Яузе

Б. На Неве

В. На Волге

Г. На Лене




11. Какой из материков самый маленький?

А. Антарктида

Б. Африка

В. Австралия

Г. Евразия




12. Если в полдень встать спиной к солнцу, какая сторона будет впереди?

А. Юг

Б. Восток

В. Запад

Г. Север



13. Какие из перечисленных достопримечательностей находятся в Москве?

А. Большой театр

Б. Третьяковская галерея

В. Зимний дворец

Г. Аничков мост



## 14. Отметьте летние месяцы

А. Июль

Б. Апрель

В. Август

Г. Май




15. Завершите предложение.

Карта, на которой изображены  
разные страны, называется —

---





16. Воссоедините пары каждой достопримечательности и её местонахождение.

Статуя Свободы


Париж

Эйфелева башня

Нью – Йорк


Великая Китайская стена

Китай



17. Прочитайте описание.  
Определите, о каком времени  
года идёт речь?

В это время года дни длинные, а  
ночи холодные. На лугах  
множество трав и цветов.  
Созревают ягоды и фрукты,  
начинается сенокос. Это - \_\_\_\_\_



18. Определите  
последовательность уровней  
холма. Запишите верную  
последовательность.

СКЛОН

ПОДОШВА

ХОЛМ



СПАСИБО!