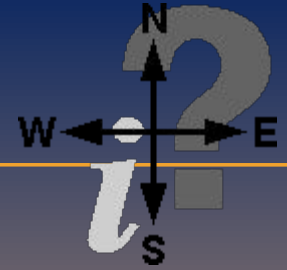


повторения



Темы для повторения:

- 1. Природные часы, календарь и компас**
 - 2. Земля имеет форму шара**
 - 3. Глобус – модель Земли**
-

ВОПРОС:



По Солнцу. В полдень Солнце
Когда не было часов,
оказывается в самой
как люди днём узнавали
высокой точке. В полдень
тени от **предметов?** в самые
короткие.

ЗАДАНИЕ:

- Рассмотрите рисунки. В какое время года так бывает?



В начале наблюдения



Через неделю



Через две недели

Каждый день в полдень тень слегка увеличивается, следовательно эти наблюдения были проведены осенью (к зиме солнце становится ниже, тень от предметов увеличивается).

ВОПРОС:




ЧТО МОЖНО НАЗВАТЬ

ПРИРОДНЫМ

В новолуние Луна находится между Землей и Солнцем, обращена к Земле своей темной стороной и потому невидима.

Что такое новолуние?

ЗАДАНИЕ:



Как изменяется вид лунный
сколько дней длится лунный
между двумя полуниями?
28 дней.
месяц?

ВОПРОС:

Что является природным
компасом?



ВОПРОС:



В

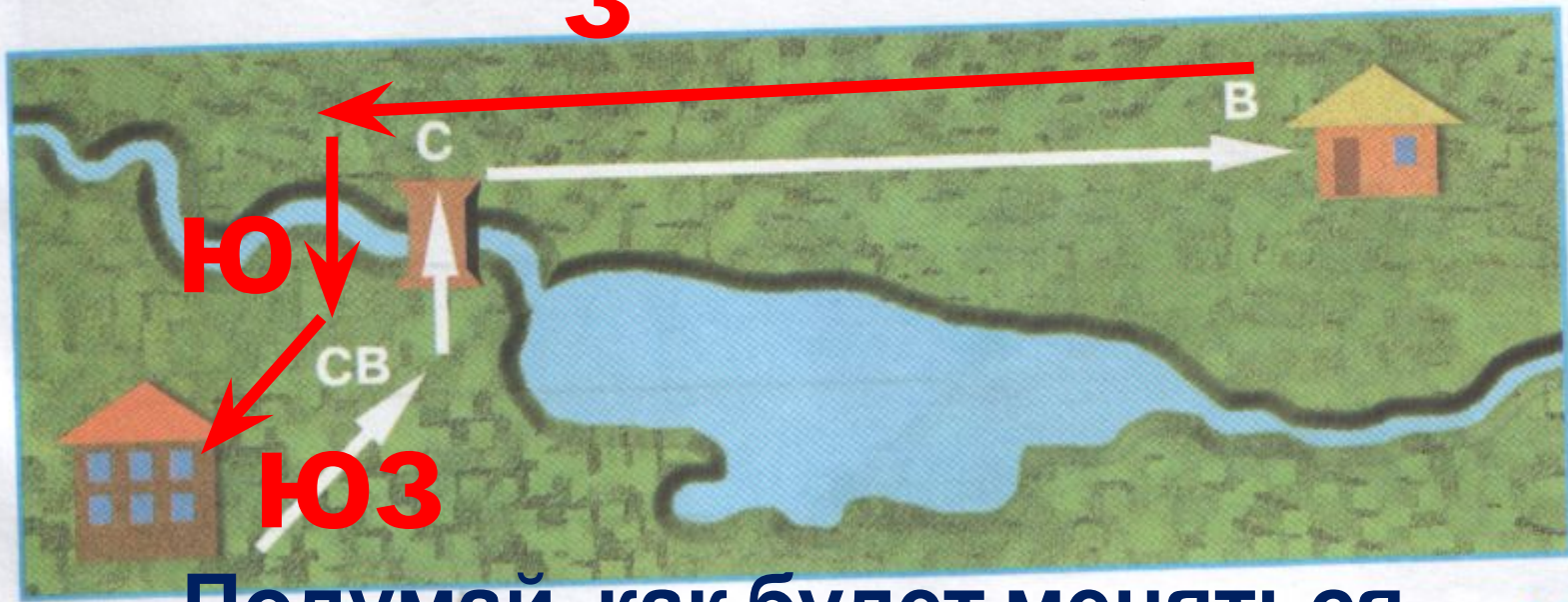
З

ВОСТОК?

ЗАДАНИЕ:

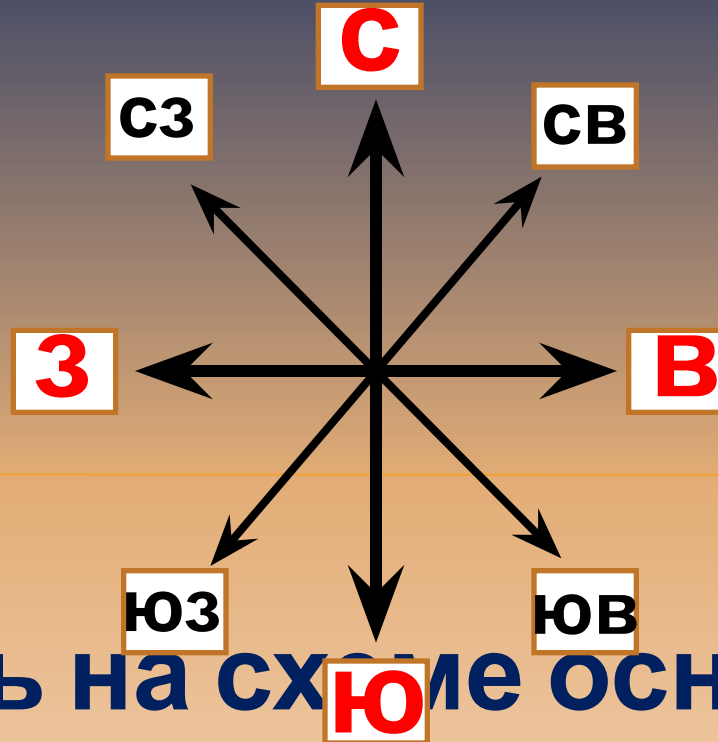


6. Во время похода ребята пошли из школы сначала на северо-восток, затем на север, затем на восток и дошли до домика лесника. Вот схема их пути.



Подумай, как будет меняться направление движения ребят на обратном пути?

ЗАДАНИЕ:



Обозначь на схеме основные и промежуточные стороны горизонта.

ВОПРОС:




Что находится к западу от здания школы, а что к востоку?

ВОПРОС:




Чше заметна
шарообразная форма
На море
Земли?

ЗАДАНИЕ:



Покажите линию горизонта на картинах
Можно ли достичь линии горизонта?
Ивана Ивановича Шишкина.

ВОПРОС:



Пов... клая,
она и закрывает корабль от
Почему корабли, уходящие в
взгляда.
море, исчезают из вида?

ВОПРОС:

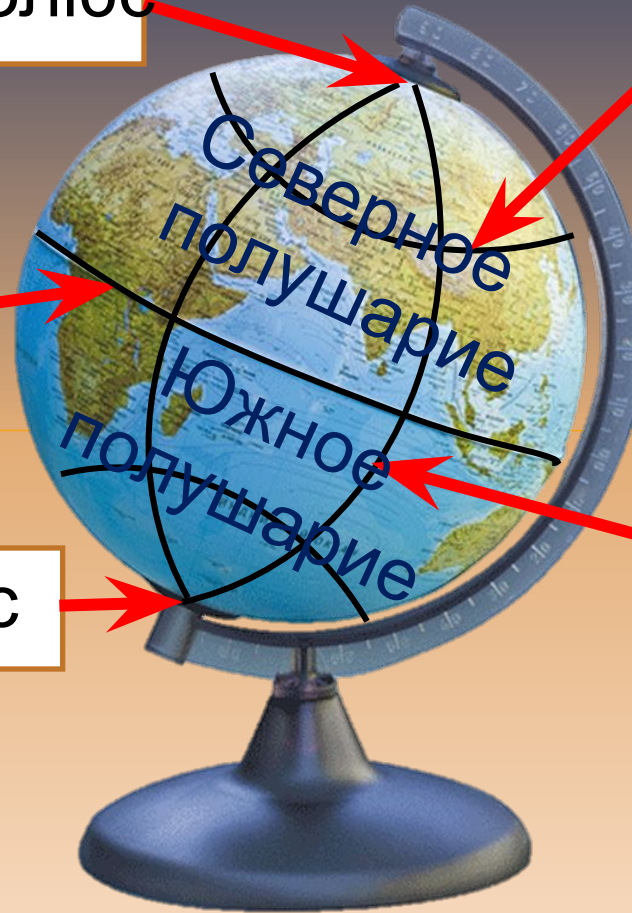
Северный полюс

Параллель

Экватор

Меридиан

Южный полюс



Рассмотрите рисунок. Что обозначено стрелками?

МОЛОДЦЫ!