


Реши задачу

В питомнике было две собаки .Затем приобрели еще одну собаку. Сколько в питомнике стало собак?



2

+



1

=

3

Реши задачу

На лужайке играли 3 котенка .Один котенок залез на дерево . Сколько котят осталось на лужайке?



$$3 - 1 = 2$$

