

# Викторина

## «Весёлая математика»

*(Для детей  
подготовительной группы  
детского сада)*

Решетникова Галина

Начать викторину!

В

243

**Прочитай вопрос и найди  
правильный ответ, если не  
получилось, то можно  
попробовать ещё раз..**


A blue arrow pointing to the left, with the word "Назад" (Back) written inside in white text.

Назад

A blue arrow pointing to the right, with the word "Далее" (Next) written inside in white text.

Далее

# Вопрос 1: Каким по счету стоит лев?



Неверно! Подумай ещё...



Назад

# Молодец !!!



К  
следующем  
у вопросу

Вопрос 2: У Маши было 3 конфеты, а у Даши- 2. Сколько всего конфет было у девочек?





# Ошибочка вышла!



**Правильно!!!**




К  
следующем  
у вопросу



# Вопрос 3: Какая цифра потерялась в этом ряду?



Ошибка...



# Хорошо!!!



К  
следующем  
у вопросу


# Музыкальная пауза!

## Потанцуем!



Продолжить

**внимание задача!** У Славы, Коли и Серёжи папы работали на разных машинах: Кто на грузовой, кто на легковой, кто на трамвае. Машина, на которой работал Колин папа, расположена выше легковой, машина Серёжиного папы находится через один рисунок от грузовой, а транспорт Славиного папы рядом с грузовой. На каком транспорте работает папа Славы?





**Неправильно!  
Подумай получше!**



Хорошо, продолжай!



дале  
е

**Задание 5: Какие часы показывают такое время, когда можно сказать «Добрый день?»**





Попробуй ещё...





**Поздравляем!**

**Вы правильно  
ответили на все  
вопросы!**

