

# ***Правила Дорожного Движения***

**Классный руководитель 10 класса  
Хасбулаев Шамиль М.**



- ***Пешеходная дорожка по обочине отделена специальным ограждением.***



**Проект «Правила дорожного движения»**





- ***На пути движения пешехода по тротуару, пешеходной или велосипедной дорожкам, обочине, краю проезжей части могут находиться выезды из дворов и других территорий, прилегающих к улице или дороге. В таких случаях у пешехода имеется преимущественное право на движение перед выезжающим транспортом, и водитель обязан пропустить пешеходов.***



- **Группы детей должны идти только по тротуарам и пешеходным дорожкам в сопровождении взрослых. При отсутствии тротуаров и пешеходных дорожек группы детей могут двигаться в светлое время суток по обочине.**



- **Переходить улицу или дорогу группам детей разрешается только на перекрёстках и в местах перехода пешеходов.**



- **Каждый учащийся должен обладать умениями быть пешеходом и не только знать, но и точно выполнять все требования правил движения, быть образцом дисциплинированного поведения на улице.**





- **Посадка в кузов разрешается со стороны тротуара или обочины, а также через задний борт. Войдя в кузов, каждый должен занять место для сидения. Во время движения категорически запрещается: стоять в кузове, сидеть на бортах, перемещаться с места на место.**






- **На нерегулируемом пересечении велосипедной дорожки с дорогой велосипедисты должны уступить дорогу транспортным средствам, движущимся по этой дороге.**




- **Когда главная дорога на перекрёстке меняет направление, водители, движущиеся по ней, должны руководствоваться между собой правилами проезда перекрёстков равнозначных дорог. Этим же правилом должны руководствоваться водители, движущиеся по второстепенным дорогам. При повороте направо водитель безрельсового транспортного средства должен уступить дорогу трамваю, движущемуся справа.**



**Контрольные**  
**вопросы и**  
**задания**






**Кто обязан уступить дорогу?**

**а) водитель автомобиля;**


**б) велосипедист;**



**Кому и в какой последовательности разрешено движение?**

- а) водителю легкового автомобиля и после его проезда - водителю велосипеда;**
- б) водителю легкового автомобиля и после его проезда - водителю легкового автомобиля;**
- в) водителю трамвая и велосипедисту и после их проезда - водителю легкового автомобиля;**





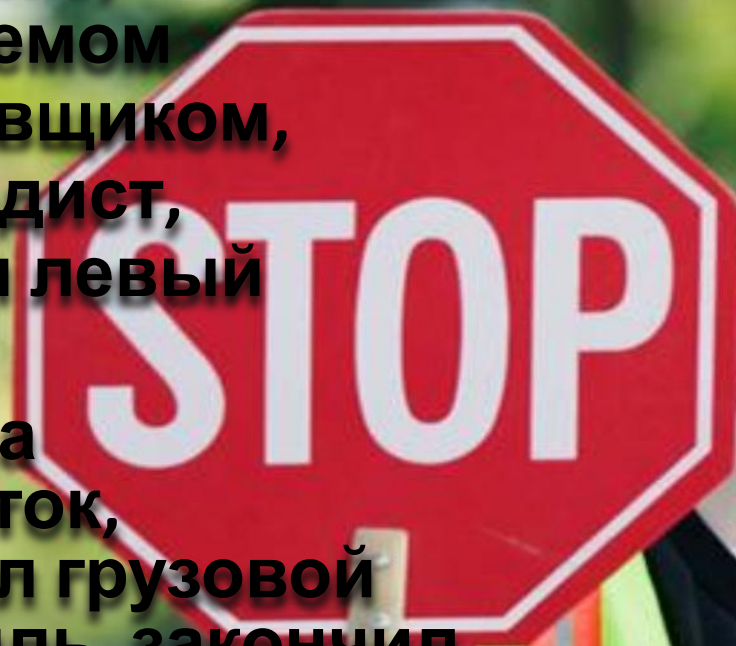
**На регулируемом светофоре  
перекрёстке двух дорог,  
разграниченных дорожными  
знаками на главную и  
второстепенную...**


- **а) действует преимущественное право на движение по главной дороге;**
- **б) все водители обязаны руководствоваться сигналами светофора;**
- **в) сигналы светофора предназначены только для пешеходов.**



**На четырёхстороннем  
перекрёстке,  
регулируемом  
регулировщиком,  
велосипедист,  
совершая левый  
поворот:**

- а) выехал на  
перекрёсток,  
пропустил грузовой  
автомобиль, закончил  
поворот;**
- б) выехал на перекрёсток  
и, дождавшись  
разрешающего жеста  
регулировщика,  
закончил поворот;**
- в) остановился у стоп-  
линии .При**





*Посередине перекрёстка стоит регулировщик, правая рука у него поднята вверх. Это для велосипедиста означает:*

*а) перекрёсток можно проехать с повышенной осторожностью;*

*б) если он уже находится на перекрёстке, то должен подготовиться к движению, на перекресток ещё выезжать не должен;*

*в) перекрёсток можно побыстрее проехать.*



# Дорогие ребята!

Будьте  
всегда  
внимательны,  
осторожны  
и  
бдительны  
на дорогах.



Соблюдайте правила  
дорожного  
движения!  
Помогайте  
другим их  
соблюдать  
!