



**Тут затеи и
задачи,**

**Игры, шутки, всё
для вас!**

**Пожелаем всем
удачи**


**За работу, в
добрый час!**

**Синцова С.А. учитель математики
ГБОУ АО «Онежская СКОШИ»
2018г.**



**«Математику
уже затем учить
нужно, что она
ум в порядок
приводит»
М.В. Ломоносов**

Конкурс «Представление команд»
«Умники», «Учёные»,
«Академики»



РАЗМИНКА

У Змея Турина – **одна** голова, а у Змея Горыныча целых **3**.
На сколько голов Змей Горыныч умнее Змея Турина?



2

3

Сколько дырок окажется в клеёнке, если во время обеда **12** раз проткнуть её вилкой с **4** зубчиками?



16

48

У нас очень дружная семья:
у **семи** братьев
по **одной** сестрице. Сколько всего
детей?



8

15

На дереве сидели
2 сороки, **3** воробья и **2** белки. Вдруг
два воробья вспорхнули и улетели.
Сколько птиц осталось на дереве?



3

5

Бабушка купила
на базаре **2** пары туфель, **3** яблока и **5**
груш. Одну пару туфель бабушка
подарила своей внучке. Сколько всего
фруктов купила бабушка?



8

10

На верёвке висели и спокойно сохли
18 выстиранных наволочек.
7 наволочек стащила
с верёвки и сжевала коза Люська.
Сколько наволочек спокойно
высохли на верёвке?



11

7

У бабы Яги на носу
14 бородавок, а у Кощея Бессмертного –
на **7** бородавок больше. Сколько
бородавок теснится
на носу у кощея Бессмертного?



14

21

**Вася с Сашей играли
в шашки**

**4 часа подряд. Сколько часов играл
каждый из них?**



4

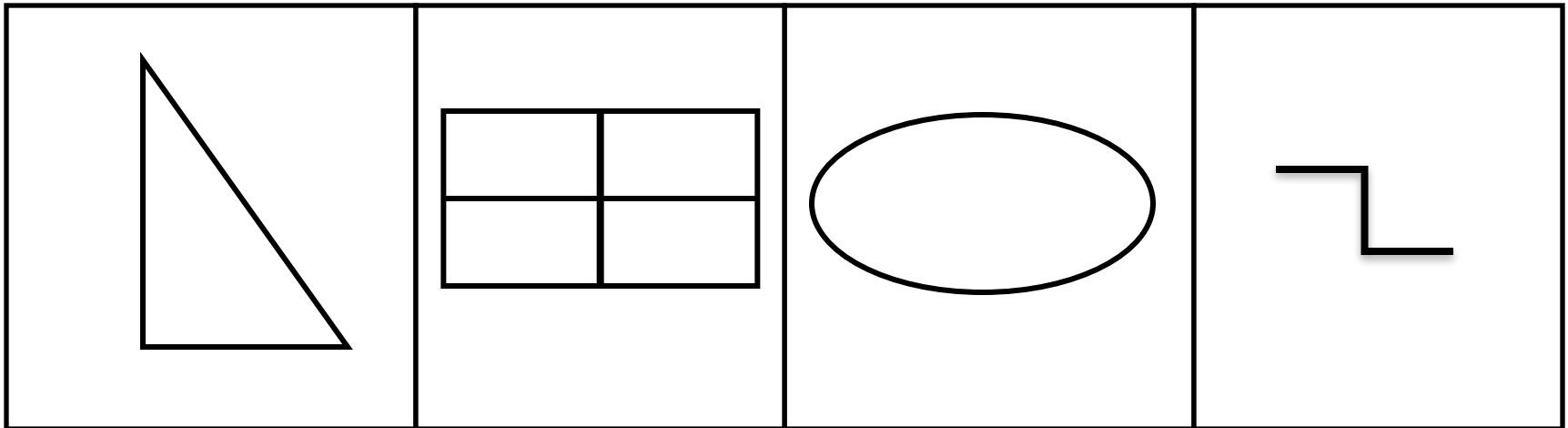
8

- **Сколько ранним утром
глаз открывається у вас?**



Конкурс «Смотри и запоминай»


ВОССТАНОВИТЬ И ИЗОБРАЗИТЬ ПО ПАМЯТИ
РАСПОЛОЖЕНИЕ ГЕОМЕТРИЧЕСКИХ ФИГУР



Конкурс «ПОРТРЕТ ИЗ ЦИФР»


Портрет из цифр

Найдите
сумму
цифр, из
которых
состоит
рисунок.



ОТВЕТ: 45

**Конкурс «РЕШИ
РЕБУСЫ»**



1 2 3 ~~4~~





””

He



**1. Автобус с пассажирами ехал в город.
По дороге он встретил 5 грузовиков и 3
легковые машины. Сколько всего
машин ехало в город?**



Один
автобус,
остальные
ехали из
города.




2. Петух, стоя на одной ноге, весит 3 кг. Сколько он будет весить, если встанет на две ноги?




3 кг

3. Что легче килограмм лука или килограмм железа?



1 кг лука = 1 кг железа



Математический калейдоскоп

Вопрос 14.

Карлсон приготовил на зиму **7** банок малинового варенья по **3** литра в каждой и **4** банки по **2** ЛИТРА. Сколько литров варенья заготовил Карлсон на зиму?



Ответ

29 литров

Далее

На конкурсе «Смекалка» за решение каждой задачи давалось **6** очков, за решение примера- **2** очка. Лера решила **3** задачи и **5** примеров. Сколько очков она набрала?



Кликни кнопку, чтобы выпал шар с номером.

Ответ

28 очков

Далее

Вопрос 6.

В соревнованиях по футболу участвовало **9** команд. Сколько футболистов участвовало в соревнованиях, если в каждой команде по **11** человек?



Кликни кнопку, чтобы выпал шар с номером.

Ответ

99 футболистов

Далее

Аквариум вмещает **300** литров воды. Сколько ведер воды влили в этот аквариум, если ведро вмещает **6** литров?



Ответ

50 ведер



Кликни кнопку, чтобы выпал шар с номером.

Далее

Сколько часов и минут длилась экскурсия в парк, если она заняла два урока по **40** минут и еще **10** минут перемены?



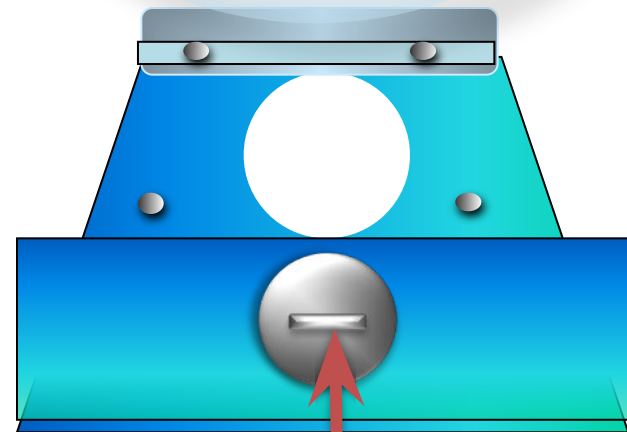
Клики кнопку, чтобы выпал шар с номером.

Ответ

1 час 30 минут

Далее

В корзине с грибами лежат
опята и рыжики. Всего **80**
грибов. Рыжики составляют **$\frac{1}{4}$**
часть всех грибов.
Сколько было опят?



Кликни кнопку, чтобы
выпал шар с номером.

Ответ

60 опят


Далее

Вопрос 3.

Квадрат имеет сторону 8 см. Какова его площадь и периметр?

Ответ

64 см² и 32 см



Кликни кнопку, чтобы выпал шар с номером.

Далее

Малыш нашел на 15 орехов больше, чем Карлсон. Малыш отдал Карлсону 8 орехов. У кого из них стало больше орехов и на сколько?



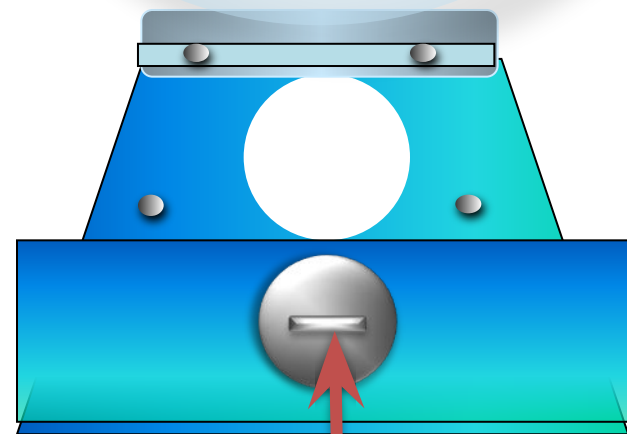
Кликни кнопку, чтобы выпал шар с номером.

Ответ

У Карлсона больше на 1 орех.

Далее

Поезд из Ромашково прибыл на конечную станцию в **19** часов вечера. В какое время он отправился, если в пути он был **2** часа и сделал **3** остановки по **20** минут?



Клигни кнопку, чтобы выпал шар с номером.

Ответ

В 16 часов

Далее

Вопрос 101

Найдите площадь
прямоугольника , у которого
длина **70** дм, а ширина **3** дм.



Клигни кнопку, чтобы
выпал шар с номером.

Ответ

64 см² и 32 см

Далее

Волк погнался за зайцем, находящимся от него на расстоянии 120 метров. Заяц пробегает в минуту 320 метров, а волк 350 метров. На каком расстоянии друг от друга будут волк и заяц через 2 минуты после начала погони? Сколько времени понадобится волку, чтобы догнать зайца?



Ответ

60 метров, 4 минуты

Далее

11.

Саша выше Коли, но ниже Пети, а Петя ниже Толи. Кто выше всех?



ОТВЕТ

Выше всех Толя

Скорость пингвина по воде 20 км/ч, скорость кита 45 км/ч. Кто быстрее и на сколько доплывет до айсберга, если расстояние от берега до айсберга 180 км?



Ответ


Кит доплывет быстрее на 5 часов

Далее



Клики кнопку, чтобы выпал шар с номером.

Подведение итогов



Молодцы! Славно поработали!



Интернет - ресурсы

<http://images.yandex.ru> пень

<http://images.yandex.ru/yandsearch> шина

<http://pesochnizza.ru/igroteka> (ребусы)

<http://vremyazabav.ru/zanimatelno> (Ребус)

<http://allforchildren.ru/rebus> (ребусы)

<http://aphorisms.su/zagadki> (логические задачи)

<http://images.yandex.ru> (сова)