

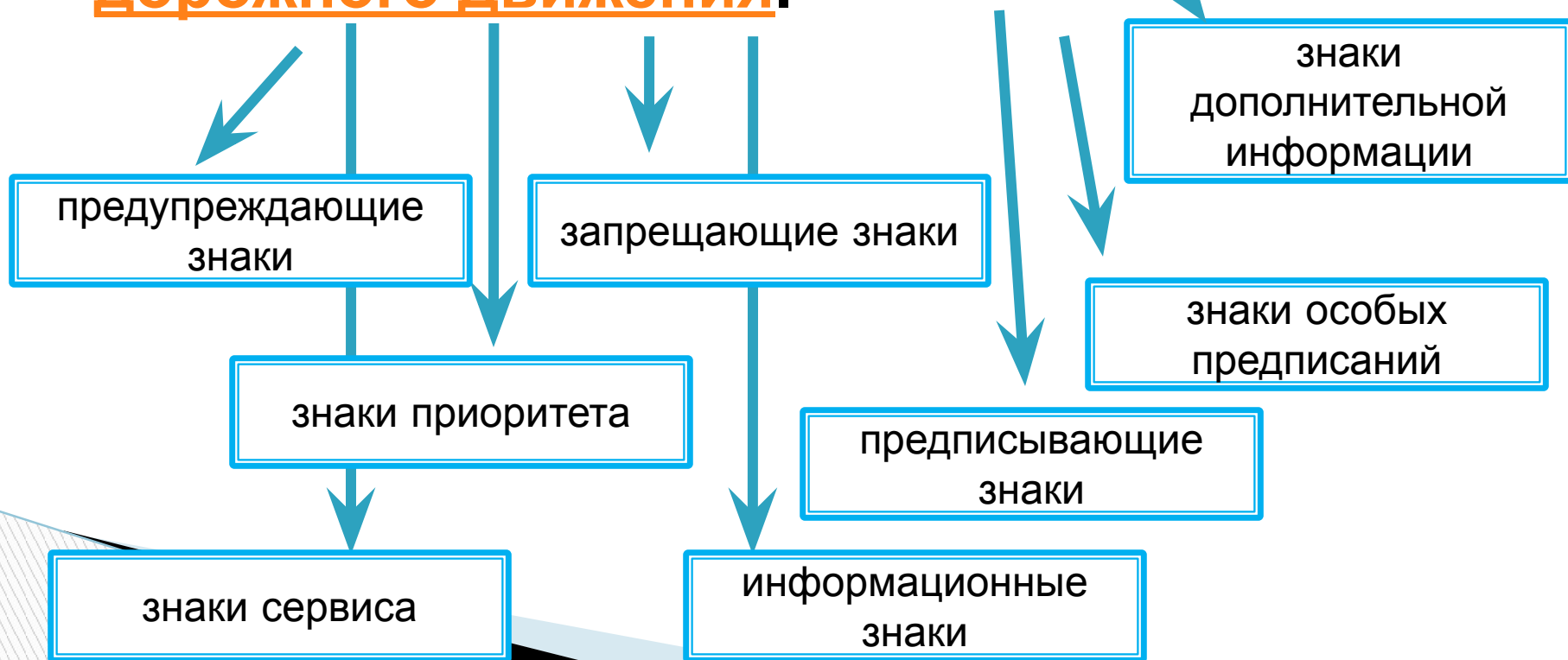


ДОРОЖНЫЕ ЗНАКИ: знаки приоритета

- 7.1.1 300M
- 7.1.2 STOP 250M
- 7.1.3 100M →
- 7.1.4 ← 300M
- 7.2.1 ↑ 100M ↑
- 7.2.2 ↑ 10 M
- 7.2.3 ↓
- 7.2.4 ↑ ↓
- 7.2.5 10 M →
- 7.2.6 ← 30 M
- 7.3.1 →
- 7.3.2 ←
- 7.3.3 ↔
- 7.4.1 →
- 7.4.2 →
- 7.4.3 →
- 7.4.4 →
- 7.4.5 →
- 7.4.6 →
- 7.4.7 →
- 7.4.8 →
- 7.5.1 *
- 7.5.2 →
- 7.5.3 ПОНЕДЕЛЬНИК-СРЕДА
- 7.5.4 8.00-17.30
- 7.5.5 8.00-17.30 *

ДОРОЖНЫЕ ЗНАКИ –

техническое средство безопасности
дорожного движения, графический рисунок,
устанавливаемый у дороги для сообщения
определённой информации участникам
дорожного движения.



Знаки приоритета

- Знаки приоритета устанавливают очередность проезда перекрестков, пересечений проезжих частей или узких участков дороги.



2.1
Главная
дорога



2.2
Конец
главной
дороги



2.3.1
Пересечение с
второстепенной
дорогой



2.3.2
Примыкание
второстепенной дороги



2.3.4



2.3.5



2.3.6



2.3.7

Примыкание второстепенной дороги



2.4
Уступите дорогу



2.5
Движение
без остановки
запрещено



2.6
Преимущество
встречного
движения



2.7
Преимущество
перед встречным
движением



2.1

"Главная дорога"

Знак дает право преимущественного проезда на нерегулируемых перекрестках. Знак должен стоять у каждого пересечения главной дороге.

Распространяет свое действие на весь перекресток, не зависимо от количества пересечений на нем, либо действует до знака 2.2 "Конец главной дороги".

Устанавливается:

- Непосредственно перед перекрестком;
- После перекрестка, при этом его зона действия распространяется на участок дороги вместе с ближайшим перекрестком.



8.13

Данный знак устанавливается совместно со знаками:
Указывает направление движения по главной дороге.

Главная дорога на табличке обозначена жирной черной полосой.



2.2

"Конец главной
дороги"

Знак 2.2 Сигнализирует водителю о том, что на следующем по ходу движения перекрестке он должен будет уступить дорогу.

Устанавливается:

- Незадолго до перекрестка, после чего должен быть установлен знак 2.4 "Уступите дорогу";
- У перекрестка без знака 2.4 "Уступите дорогу", в этом случае вы подъезжаете к перекрестку равнозначных дорог, где вы должны уступить дорогу транспортному средству которое, приближается к вам справа.

Данный знак устанавливается совместно со знаками:



Вы не должны начинать, возобновлять или продолжать движение, либо осуществлять либо другой маневр, если это может заставить других участников движения, имеющих по отношению к Вам преимущество, изменить свою скорость или направление движения.



2.3.1

"Пересечение со
второстепенной
дорогой"

Знак 2.3.1 предупреждает водителя о том, что он приближается к перекрестку по главной дороге, а дороги слева и справа являются второстепенными.

Устанавливается:

- В населенном пункте - 50 -100 метров до перекрестка;
- Вне населенного пункта - 150 - 300 метров до перекрестка.



2.3.2



2.3.3



2.3.4



2.3.5



2.3.6



2.3.7

2.3.2-2.3.7 "Примыкание
второстепенной
дороги"

Знаки информируют Вас о том, что впереди не регулируемый перекресток, где Вы находитесь на главной дороге.

Устанавливается:

- В населенном пункте - 50 -100 метров до перекрестка;
- Вне населенного пункта - 150 - 300 метров до перекрестка.



2.4

"Уступите дорогу"

Знак требует уступить дорогу транспортным средствам которые имеют преимущество по отношению к Вам.

"Уступить дорогу (не создавать помех)" - требование, означающее, что участник дорожного движения не должен начинать, возобновлять или продолжать движение, осуществлять какой-либо маневр, если это может вынудить других участников движения, имеющих по отношению к нему преимущество, изменить направление движения или скорость. Пункт 1.1 П. Д.Д.

Устанавливается: Непосредственно перед перекрестком или незадолго от него в качестве дублирующего знака.



2.5

"Движение без остановки запрещено"

Знак 2.5 обязывает водителя снизить скорость до полной остановки у "стоп линии", а при ее отсутствии - у края пересечения проезжей части.

Устанавливается:

- Непосредственно перед перекрестком;
- У железнодорожного переезда (при наличии знака 2.5 у переезда водителю необходимо остановиться перед "стоп линией", а при ее отсутствии перед знаком).



2.6

"Преимущество встречного движения"

Знак 2.6 обязывает водителя предоставить право проехать первым узкий участок дороги встречным транспортным средствам, за исключением случаев, в которых вы не создаете помехи при проезде этого участка (например, если вы разъезжаетесь с мотоциклом без бокового прицепа).

Устанавливается:

В узких местах проезжей части дороги, где затруднен разъезд транспортных средств. Например, на мостах.



2.7

"Преимущество перед встречным движением"

Знак 2.7 предоставляет право водителю проехать первым узкий участок дороги, а встречные транспортные средства обязаны уступить вам дорогу.

Устанавливается:

В узких местах проезжей части дороги, где затруднен разъезд транспортных средств. Например, на мостах.

Вы намерены повернуть налево. Кому следует уступить дорогу?



1. Только автобусу.
2. Никому.
3. Только легковому автомобилю.

□ *Комментарий:* Проезжая данный перекресток неравнозначных дорог по направлению главной дороги (знаки 2.1 «Главная дорога» и 8.13 «Направление главной дороги»), Вы никому не должны уступать дорогу, так как пользуетесь преимуществом над автобусом хотя он тоже находится на главной дороге, но вы для него являетесь «помехой справа», а легковой автомобиль движется со второстепенной дороге.

Вы намерены продолжить движение по главной дороге. Обязаны ли Вы при этом включить правые указатели поворота?



1. Да, только при наличии движущегося сзади транспортного средства.

2. Да.

3. Нет.

Комментарий: На любом перекрестке Вы обязаны подавать сигнал поворота, даже при отсутствии других транспортных средств.

Может ли водитель легкового автомобиля в населенном пункте выполнить опережение грузовых автомобилей по такой траектории?



- 1. Да.
- 2. Нет.

Комментарий: Поскольку водитель легкового автомобиля приближается к перекрестку неравнозначных дорог, двигаясь по главной дороге обозначенной знаком приоритета 2.3.1 "Пересечение с второстепенной дорогой", имеющей 2 полосы для движения в данном направлении, то он может совершить опережение обоих грузовых автомобилей по любой траектории.

На каких рисунках показана главная дорога?



1. А и В.

2. На всех.

3. Только А.

Вы намерены повернуть налево. Кому следует уступить дорогу?



1. Только легковому автомобилю.
2. Всем транспортным средствам.
3. Только легковому автомобилю и автобусу.

▣ **Комментарий:** Вы подъезжаете к перекрестку по второстепенной дороге, установлены знаки 2.4 «Уступите дорогу» и 8.13 «Направление главной дороги». Вы обязаны уступить дорогу только автобусу и легковому автомобилю, так как она следуют по главной дороге. А вот по отношению к мотоциклу Вы пользуетесь преимуществом по правилам проезда перекрестков равнозначных дорог, поскольку вы являетесь для него помехой справа.

Вы намерены повернуть налево. Кому следует уступить дорогу?



1. Только автобусу.
2. Только легковому автомобилю.
3. Обоим транспортным средствам.

Комментарий: Поскольку вы подъезжаете к перекрестку неравнозначных дорог по второстепенной дороге знаки 2.4 "Уступите дорогу" и 8.13 "Направление главной дороги", Вы должны уступить дорогу обоим транспортным средствам, которые движутся по главной дороге.

Как Вы должны действовать в данной ситуации?



1. Проехать железнодорожный переезд без остановки перед знаком.
2. Остановиться перед знаком и продолжить движение сразу же после проезда поезда.
3. Остановиться перед знаком и продолжить движение, только убедившись в отсутствии приближающегося поезда.

Комментарий: Вам необходимо остановиться у знака 2.5 «Движение без остановки запрещено», так как стоп-линия отсутствует (пункт 15.4 правил). После проезда состава продолжить движение вы можете, только убедившись в отсутствии приближающегося поезда.

На какой картинке вам разрешено продолжить движение по мосту?



1. На обеих картинках.

2. На картинке 1.

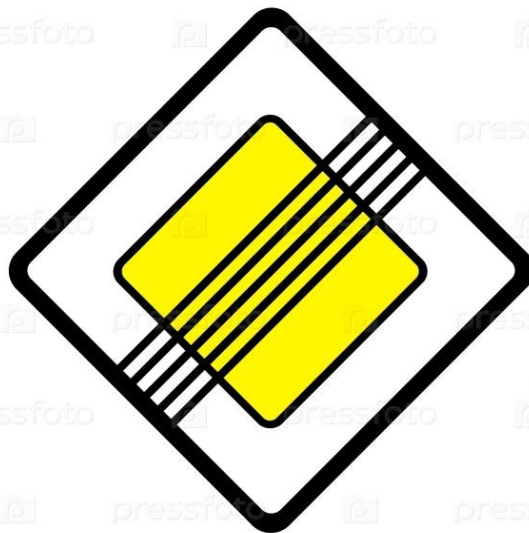
3. На картинке 2.

Комментарий: Знак 2.6 "Преимущество встречного движения" запрещает въезд на узкий участок дороги, если это затруднит встречное движение. В данном случае, с учетом ширины моста, мотоцикла и вашего автомобиля, вы можете въехать на мост одновременно с мотоциклистом.


Назовите дорожные знаки




**"Примыкание
второстепенной
дороги"**



**"Конец главной
дороги"**




**"Уступите
дорогу"**



**"Преимущество
встречного
движения"**

Какой знак лишний?



Дорожный знак:
предупреждающий
«Опасный поворот»