


**Олимпиада по  
безопасности  
дорожного  
движения  
«Знатоки ПДД»**

**2-4 классы**

# 1. Какой из знаков должен стоять на месте знака вопроса на картинке?



1.



2.



3.



4.



## 2. Какой из знаков является предупреждающим?



1



2



3



4

**3. Какой из знаков разрешает пешеходный переход проезжей части именно в том месте, где он установлен?**



**1**



**2**



**3**



**4**

## 4. Поставить под номером знака правильный ответ.



1



2



3



4



5


1. Велосипедная дорожка.
2. Осторожно пешеходный переход.
3. Железнодорожный переезд без шлагбаума.

4. Движение пешеходов запрещено.
5. Езда на велосипеде запрещена;
6. Движение только для пешеходов;



# 5. Как правильно обходить

## автобус?



- 1. Автобусы или троллейбусы нужно обходить сзади.
- 2. Автобусы или троллейбусы нужно обходить спереди.
- 3. Автобусы или троллейбусы нельзя обходить ни спереди, ни сзади. Нужно дойти до ближайшего пешеходного перехода и перейти по правилам проезжую часть.
- 4. В случае, если в зоне видимости нет пешеходного перехода, то подождать, когда транспорт отъедет от остановки и дорога будет хорошо видна в обе стороны, можно переходить дорогу.

**6. Какими знаками обозначают участки, на которых водитель обязан уступать дорогу пешеходам, находящимся на проезжей части?**



1. Только А и Б    2. Только Б и В.    3. Всеми.

## 7. Какие из перечисленных лиц относятся к пешеходам?

- 1. лица, передвигающиеся в инвалидных колясках без двигателя
- 2. лица, ведущие велосипед, мопед, мотоцикл
- 3. лица, ведущие санки, тележку, детскую, или инвалидную коляску
- 4. все перечисленные




**8. Как должен вести себя пешеход, переходящий дорогу на зеленый сигнал светофора, который одновременно разрешает поворот транспорта направо на перекрестке?**



- 1. Пропустить транспорт.
- 2. Посмотреть налево и направо.
- 3. Посмотреть не только налево, но и налево-назад, чтоб заметить автомобиль, который делает правый поворот.

# 9. Если в автобусе все места заняты, нужно ли держаться за ручки?



- 1. Не обязательно, надо просто крепко стоять на ногах.
- 2. Можно держаться за ранец товарища.
- 3. Обязательно держаться, чтобы не упасть при резком торможении.

# 10. Что рекомендовано иметь пешеходу при движении в темное время суток в городе и обязательно носить за городом?


- 1. Флажок
- 2. Фонарик или светоотражатель.
- 3. Карту местности.



# **11. действия пешехода, который подошел к пешеходному переходу?**

- 1. Переходить через дорогу, так как на пешеходном переходе водители должны пропускать пешеходов.
- 2. Посмотреть налево и начать переход, наблюдая за дорогой.
- 3. Остановиться перед проезжей частью, посмотреть в обе стороны, для того чтобы убедиться, что переход безопасен и тогда переходить быстрым спокойным шагом.


12. Стоя на тротуаре, мальчик увидел друзей на противоположной стороне дороги, он внезапно бежит через проезжую часть. В чем опасность его действий?



- 1. Он может попасть под машину и в больницу.
- 2. Водитель во избежание наезда на ребёнка может резко притормозить и произойдет столкновение с автомобилем, который едет позади. Пострадают водители и пассажиры автомобилей.
- 3. Он поступает правильно, опасности нет.



# 13. Опасны ли кусты, деревья, заборы и припаркованный автомобиль на обочине дороги?



- 1. Не опасны.
- 2. Опасны тем, что они закрывают обзор дороги, и пешеход не видит транспортные средства и водители не видят пешехода.
- 3. Опасны, т.к. может выскочить собака и испугать.

## 14. Как должен вести себя пешеход, переходящий дорогу по нерегулируемому пешеходному переходу?



- 1. Прежде чем перейти дорогу, пешеход должен убедиться в полной безопасности. Остановиться у края проезжей части, прислушаться, посмотреть налево, посмотри направо, затем снова на лево, т.к. ситуация на дороге меняется каждую секунду. Только убедившись, что со всех сторон «чисто» можно начинать переход. Дойдя до середины проезжей части обязательно нужно посмотреть направо, и при отсутствии транспорта закончи переход.
- 2. Можно переходить, не обращая внимание на транспорт.



# 15. На каком рисунке изображен правильный переход проезжей части?



1



2



3



4



5



6

1. на 3 и 4

2. на 6

3. на 2 и 3

4. все верно

5. все неверно