

# Тест



## «Чему ты научился в 4 классе»

Автор презентации

Коровина Ирина Николаевна  
учитель начальных классов

МБОУ «СОШ №9»

г.Сафоново Смоленской области



№1

На сколько увеличили число  
55 555, если получили 888 888?

на 33 333

на 833 333



на 333 333



№2

На сколько 6 десятков тысяч  
больше 6 десятков?

на 59 400

на 59 940

на 59 040



№3

**Бабушка связала внукам по 3 пары носков. Сколько носков связала бабушка, если у неё 6 внуков?**

**18 носков**

**30 носков**

**36 носков**



№4

Найди периметр квадратного участка, если его сторона 3 м 25 см.

12 м 25 см

13 м

12 м 50 см



**№5**

**Вите 2 года. Он в 6 раз младше  
своего брата. На сколько лет  
брат старше Вити?**

**на 3 года**

**на 10 лет**




**на 12 лет**



№6

Выбери знак, пропущенный в  
записи:

4 ч 15 мин ... 3 ч 65 мин



№7

Число 384 506 увеличили на 18 211. Какую цифру нужно записать в разряде сотен тысяч?



2

3


4





№8

Сколько на рисунке прямых углов?



4 угла

6 углов

8 углов



№9

Число 500 007 уменьшили на 75 000. Какую цифру нужно записать в разряде десятков тысяч?



2

3

4



**№10**

**В коробке 28 карандашей. Простых карандашей в 7 раз меньше, чем всех карандашей. Остальные карандаши цветные. Сколько цветных карандашей в коробке?**

**4 карандаша**

**24 карандаша**

**35 карандашей**






№1

1

Выбери знак, пропущенный в  
записи:

$$84\ 075 \cdot 9 \dots 84\ 075 \cdot (7 + 3)$$



№12

Выбери значение  
произведения 70 035 · 3



21 105

210 005

210 105



№13

Доску длиной 2 м распилили на части по 5 дм. Сколько частей получилось?



2 части

4 части

10 частей



№14

**Выбери выражение с  
наименьшим значением.**

$$98\ 758 : 11$$

$$3\ 618 : 27$$

$$98\ 752 : 8$$



№15

Выбери цифру, пропущенную  
в записи:

$$82\ 014 \cdot 9 = 738\dots26.$$



0

1

2





# Использованные ресурсы:

Одобрение <https://66.img.avito.st/640x480/1823067066.jpg>

**Задания** – Н.Б.Истомина, О.П.Горина Математика /Тестовые задания/ 4 класс Изд. Смоленск: «Ассоциация XXI век» 2015г. Тест№38