

# Игра по станциям

1 класс



**□ РАНЬШЕ КУРАНТЫ  
ПЕТРОПАВЛОВСКОГО СОБОРА  
ИСПОЛНЯЛИ МЕЛОДИЮ  
ГОСУДАРСТВЕННОГО ГИМНА В 6 ,  
12, 18, 24 ЧАСА. ЧЕРЕЗ КАКОЙ  
ИНТЕРВАЛ ВРЕМЕНИ  
ПОВТОРЯЛАСЬ МЕЛОДИЯ?**

**▣ ВЫЧИСЛИ ЗНАЧЕНИЯ ВЫРАЖЕНИЙ,  
РАСШИФРУЙ КОД И УЗНАЙ  
ФАМИЛИЮ АРХИТЕКТОРА – АВТОРА  
ЗДАНИЯ НЫНЕШНЕГО  
АДМИРАЛТЕЙСТВА.**

$$32-30=A$$

$$50+9=P$$

$$26-6=0$$

$$5+3=3$$

$$8-4=B$$

$$9-3=X$$

**□ ПОСЛЕДНЕЕ ВРЕМЯ ЛЕТНИЙ САД  
УКРАШАЛИ 89 СТАТУЙ. 9 ИЗ НИХ  
ОТВЕЗЛИ НА РЕСТАВРАЦИЮ.  
СКОЛЬКО СТАТУЙ ОСТАЛОСЬ?**

# Игра по станциям




**2 класс**

**□ ПОСЛЕДНЕЕ ВРЕМЯ ЛЕТНИЙ САД  
УКРАШАЛИ 89 СТАТУЙ. 9 ИЗ НИХ  
ОТВЕЗЛИ НА РЕСТАВРАЦИЮ.  
СКОЛЬКО СТАТУЙ ОСТАЛОСЬ?**

**□ ПОЧТИ ПОЛТОРА ВЕКА НАЗАД НАШ ГОРОД РАСПОЛАГАЛСЯ НА 101 ОСТРОВЕ. СО ВРЕМЕНЕМ ПРИ ПРОКЛАДКЕ УЛИЦ МНОГИЕ РЕКИ, ПРОТОКИ, РУЧЬИ ЗАСЫПАЛИ. СЕЙЧАС В ПЕТЕРБУРГЕ 42 ОСТРОВА. СКОЛЬКО ОСТРОВОВ ИСЧЕЗЛО ПРИ СТРОИТЕЛЬСТВЕ УЛИЦ?**

**□ ДЛИНА РЕКИ НЕВЫ ПОЧТИ 75  
КИЛОМЕТРОВ, А РЕКА КАРПОВКА  
ИМЕЕТ ПРОТЯЖЕННОСТЬ ВСЕГО 5  
КИЛОМЕТРОВ. НА СКОЛЬКО  
КИЛОМЕТРОВ ДЛИНА КАРПОВКИ  
МЕНЬШЕ НЕВЫ?**





**▣ ВЫЧИСЛИ ЗНАЧЕНИЯ ВЫРАЖЕНИЙ,  
РАСШИФРУЙ КОД И УЗНАЙ  
ФАМИЛИЮ АРХИТЕКТОРА – АВТОРА  
ЗДАНИЯ НЫНЕШНЕГО  
АДМИРАЛТЕЙСТВА.**

$$87-30=X$$

$$58+4=O$$

$$46+51=B$$

$$91-6=P$$

$$19-6=A$$


$$37-13=3$$

# Игра по станциям



**3 класс**


**▣ ОБЗОРНАЯ ЭКСКУРСИЯ ПО  
ЭРМИТАЖУ ДЛИТСЯ 3 ЧАСА, А  
ЭКСКУРСИЯ ПО РУССКОМУ МУЗЕЮ –  
120 МИНУТ. КАКАЯ ЭКСКУРСИЯ  
ЗАЙМЕТ БОЛЬШЕ ВРЕМЕНИ И НА  
СКОЛЬКО?**



**▣ ПЕТР 1 НЕ ЖАЛЕЛ СРЕДСТВ ДЛЯ УСТРОЙСТВА ЛЕТНЕГО САДА. СО ВСЕХ КОНЦОВ ГОСУДАРСТВА ПРИСЫЛАЛИ САЖЕНЦЫ ЛИПЫ, ПИХТЫ, ЕЛИ, ДУБА, КАШТАНА И ЛИСТВЕННИЦЫ. ЗАМЕНИ СУММУ ПРОИЗВЕДЕНИЕМ И УЗНАЕШЬ, СКОЛЬКО ДЕРЕВЬЕВ БЫЛО ВЫСАЖЕНО В ЛЕТНЕМ САДУ.**

**□ ДЛИНА РЕКИ НЕВЫ ПОЧТИ 75 КМ, А РЕКА КАРПОВКА ИМЕЕТ ПРОТЯЖЕННОСТЬ ВСЕГО 5 КМ. ВО СКОЛЬКО РАЗ ПРОТЯЖЕННОСТЬ НЕВЫ БОЛЬШЕ?**

**□ С 1706 ГОДА В ПЕТЕРБУРГЕ РАБОТАЛ ПРИЕХАВШИЙ ИЗ ШВЕЙЦАРИИ Д.ТРЕЗИНИ. В 1734 ГОДУ ОН УМЕР. СКОЛЬКО ЛЕТ ПРОРАБОТАЛ Д.ТРЕЗИНИ В РОССИИ?**



# Игра по станциям




4 класс

**▣ АЛЛЕИ ЛЕТНЕГО САДА УКРАШАЛИ В ТЕ ВРЕМЕНА НЕ ТОЛЬКО ЦВЕТНИКИ И СКУЛЬПТУРЫ, НО И БЕСЕДКИ, ГРОТЫ, ПРУДЫ С ЗОЛОТЫМИ РЫБКАМИ И, КОНЕЧНО ЖЕ, ФОНТАНЫ. ЗАПИШИ ВЫРАЖЕНИЕ, ВЫЧИСЛИ ЕГО ЗНАЧЕНИЕ И УЗНАЕШЬ, СКОЛЬКО ФОНТАНОВ БЫЛО В ЛЕТНЕМ САДУ:  
ЧАСТНОЕ ЧИСЕЛ 75 И 15 УВЕЛИЧИТЬ В 2 РАЗА.**



**□ В ЗИМНЕМ ДВОРЦЕ  
НАСЧИТЫВАЕТСЯ 1086 ДВЕРЕЙ,  
ЭТО НА 36 БОЛЬШЕ, ЧЕМ КОМНАТ И  
НА 859 МЕНЬШЕ, ЧЕМ ОКОН.  
СКОЛЬКО В ЗИМНЕМ ДВОРЦЕ  
КОМНАТ? ОКОН?**



▣ САМЫЙ ДЛИННЫЙ КАНАЛ В ПЕТЕРБУРГЕ – ОБВОДНОЙ. ЕГО ПРОТЯЖЕННОСТЬ ОКОЛО 8 КМ, А ОДИН ИЗ САМЫХ КОРОТКИХ – ЗИМНЯЯ КАНАВКА – 508 М.

ВЫРАЗИ В ОДИНАКОВЫХ МЕРАХ И СРАВНИ ДЛИНЫ:

ЗИМНЯЯ КАНАВКА - ...ДМ = ...М

ОБВОДНОЙ КАНАЛ - ...КМ = ...М

**□ ДЛИНА РЕКИ НЕВЫ ПОЧТИ 75 КМ, А РЕКА КАРПОВКА ИМЕЕТ ПРОТЯЖЕННОСТЬ ВСЕГО 5 КМ. ВО СКОЛЬКО РАЗ ПРОТЯЖЕННОСТЬ НЕВЫ БОЛЬШЕ, НА СКОЛЬКО ДЛИНА КАРПОВКИ МЕНЬШЕ НЕВЫ?**

