

СВОЯ

игра

УРАВНЕН
ИЯ

ПОСЧИТА
Й

РЕБУСЫ

АНАГРАММ
Ы

ЗАМОРОЧК
И
ИЗ БОЧКИ

100

100

100

100

100

200

200

200

200

200

300

300

300

300

300

400

400

400

400

400

500

500

500

500

500

Среди предложенных записей
найдите уравнение и решите его

а) $35 + x$

б) $68 - 33 = 35$

в) $x + 4 > 3$

г) $17 + x = 29$

д) $x = 18$

Г) $x = 12$



Назовите искомый компонент

$$X - 3 = 30$$

Уменьшаемое



**Результат какого уравнения
больше?**

$$1) x - 34 = 46$$

$$2) x + 25 = 50$$

Результат 1 уравнения



Решением какого из
уравнений является
данный ответ: $x = 20$

$$1) 22 + x = 28$$

$$2) x - 12 = 13$$

$$3) x - 15 = 15$$

Ни какого



**Чему равно
неизвестное?**

$$99 - 18 = x + 59$$


$$x = 12$$



В семье у каждого из
шести братьев есть
по сестре. Сколько
детей в этой семье?



7 детей



Зайцы пилят бревно.
Они уже сделали 12
распилов. Сколько
получилось чурбаков?




13




**Сколько получится
десятков, если 2 десятка
умножить на 3?**




6 десятков



У Марины одно целое
яблоко, две половинки
и четыре четвертинки.
Сколько яблок у




Три яблока



Три курицы за 3 дня
снесли 3 яйца.

Сколько яиц снесут
12 кур за 12 дней?



48 яиц




T



И=A

Точка






Минус






$$K=M$$

Сумма





ЗАДАЧА



СчастливыЙ случай



500 баллов



БОРМ




РОМБ



ДАРАКВТ




КВАДРАТ



ИЛОСЧ



ЧИСЛО



енилайк



линейка



ЛЕТЛИВЕД



ДЕЛИТЕЛЬ



**У Вани есть двое котят
одинакового веса.**

**Какова масса одного котенка,
если сам Ваня весит 30 кг,
а с двумя котятами – 36 кг?**

3 кг.



Во дворе гуляло 16 голубей.
Сначала к ним прилетела еще
половина от того, что было,
а потом улетела половина того,
что стало. Сколько голубей
гуляет теперь во дворе?

12 голубей



В трамвае было 5 свободных мест. На остановке никто не вышел, но вошли 7 человек. Свободных мест осталось только 2. Сколько человек из вошедших осталось стоять?

4 человека



**В семье пятеро детей.
Катя на 2 года старше Богдана,
но на 2 года моложе Дениса.
Тарас на 3 года старше Андрея.
Богдан и Андрей - близнецы.
Кто из детей старше?**

Денис





=



=



= ?

Три помидора



СПАСИБО ВАМ ИГРУ! МОЛОДЦЫ!

