



**Знаешь ли ты правила дорожного движения?**

Кочкина Е.Г.  
МАОУ «МСОШ №20» Миасс

	<b>10</b>	<b>20</b>	<b>30</b>	<b>40</b>	<b>50</b>
<b>Катаемся на велосипеде</b>	<b><u>?</u></b>	<b><u>?</u></b>	<b><u>?</u></b>	<b><u>?</u></b>	<b><u>?</u></b>
<b>«Зебра»</b>	<b><u>?</u></b>	<b><u>?</u></b>	<b><u>?</u></b>	<b><u>?</u></b>	<b><u>?</u></b>
<b>Элементы дороги</b>	<b><u>?</u></b>	<b><u>?</u></b>	<b><u>?</u></b>	<b><u>?</u></b>	<b><u>?</u></b>
<b>На остановке общественного транспорта</b>	<b><u>?</u></b>	<b><u>?</u></b>	<b><u>?</u></b>	<b><u>?</u></b>	<b><u>?</u></b>
<b>За рулем скутера</b>	<b><u>?</u></b>	<b><u>?</u></b>	<b><u>?</u></b>	<b><u>?</u></b>	<b><u>?</u></b>
<b>Дорожные знаки</b>	<b><u>?</u></b>	<b><u>?</u></b>	<b><u>?</u></b>	<b><u>?</u></b>	<b><u>?</u></b>

# Катаемся на велосипеде 10



Где и как должен двигаться велосипедист?



Следующий вопрос

# *Катаемся на велосипеде 20*



**Как показать, что вы хотите повернуть направо?**



Следующий вопрос

# Катаемся на велосипеде 30



Как показать, что вы планируете остановиться?



Следующий вопрос

# *Катаемся на велосипеде 40*



**Как должны двигаться  
велосипедисты в колонне?**



Следующий вопрос

# *Катаемся на велосипеде 50*



**Перечислите действия  
велосипедиста,  
недопустимые на дороге**



Следующий вопрос

# «Зебра» 10

А зачем светофору  
желтый сигнал?




Следующий вопрос



# «Зебра» 20



Когда запрещается  
выходить на  
проезжую часть при  
зелёном сигнале  
светофора?




Следующий вопрос

# «Зебра» 30



Если пешеходный переход является регулируемым, как мы узнаем, что можем начинать движение?



Следующий вопрос

# «Зебра» 40



Как вы поступите, если на светофоре уже желтый сигнал, а вы не успели закончить переход?




[Следующий вопрос](#)

# «Зебра» 50



Предположим, что нужно перейти дорогу, организованной колонной, всему классу.



Следующий вопрос

# Элементы дороги 10



## Что такое тротуар?



[Следующий вопрос](#)

# Элементы дороги 20



Что называют проезжей частью?




[Следующий вопрос](#)

# Элементы дороги 30



Что называют пешеходным переходом?



Следующий вопрос

# Элементы дороги 40



Что называют обочиной?




Следующий вопрос



# Элементы дороги 50

Что такое перекресток?




Следующий вопрос

# На остановке 10



Как правильно  
обходить трамвай,  
стоящий на  
остановке?




Следующий вопрос

# На остановке 20




Как правильно обходить, стоящий на остановке, автобус?



Следующий вопрос

# На остановке 30



Как правильно обходить, стоящий на остановке, троллейбус?




Следующий вопрос

# На остановке 40



Как ты думаешь, где опасности для пешеходов больше: при переходе улицы или на остановке?




Следующий вопрос

# На остановке 50



Как узнать где расположена остановка того или иного общественного транспорта?



[Следующий вопрос](#)

# За рулем скутера 10



Должен ли быть при движении на скутере включен в светлое время суток ближний свет фар?

[Следующий вопрос](#)

# За рулем скутера 20



С какого возраста  
можно управлять  
скутером?




[Следующий вопрос](#)



# За рулем скутера 30



Где на проезжей части  
разрешено движение  
скутеров и мопедов?



Следующий вопрос

# За рулем скутера 40



Что вы можете  
сказать о  
приоритете скутера  
или мопеда на  
дороге?



[Следующий вопрос](#)

# За рулем скутера 50



Что запрещается  
делать водителям  
скутеров и мопедов?

[Следующий вопрос](#)

# Дорожные знаки 10



Что это за знак?



[Следующий вопрос](#)

# Дорожные знаки 20



Что это за знак?



[Следующий вопрос](#)

# Дорожные знаки 30



Что это за знак?



[Следующий вопрос](#)

# Дорожные знаки 40



Что это за знаки?



1



2


[Следующий вопрос](#)

# Дорожные знаки 50



Что это за знак?


Где он устанавливается?



[Следующий вопрос](#)



## Используемые ресурсы



**Правила дорожного движения-<http://pddmaster.ru/pdd/pravila-dorozhnogo-dvizheniya-dlya-skuterov.html>**