


Весёлая математика с героями сказки



Подготовил
учитель начальных классов
ГООУ ЛНР «Антрацитовская СШ №19»
Чумаченко Г.Г.



Дорогие ребята!
Вот и подходит к концу 1 класс.
Все вы хорошо потрудились -
научились читать, считать, решать
задачи. Сегодня я приглашаю вас в
сказочное путешествие. Проверьте
свои знания вместе с героями
сказки. В конце вас ждёт сюрприз!
удачи!

П Ъ Е Р О

1

А

2

Р

3

Е

4

У

5

О

6

П

7

Н

8

Г

9

Ь

0

Т

ПРОВЕРКА



МАЛ Ъ В И Н А

1 Ъ

2 Л

3 И

4 А

5 М

6 В

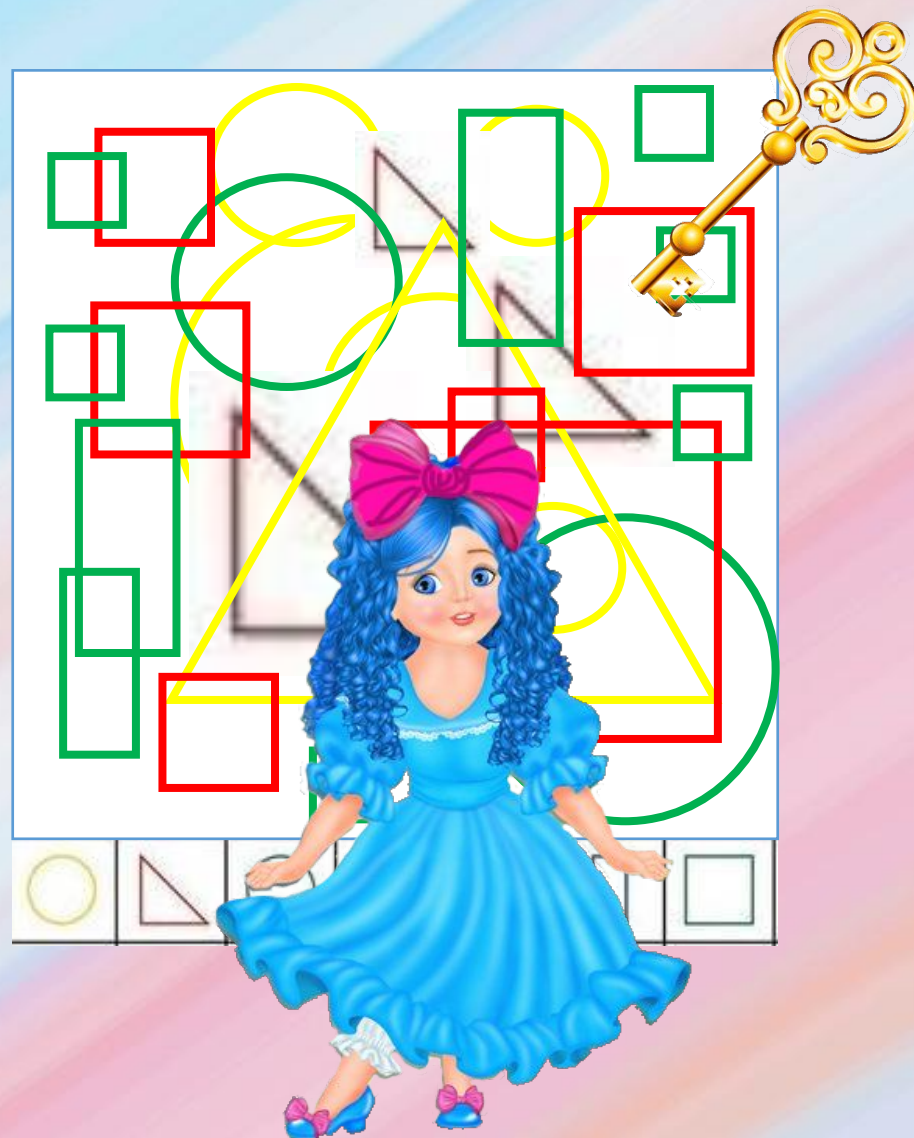
7 Н

8 Г

9 О

0 Т

ПРОВЕРКА



А Л И С А

1

Р

2

А

3

И

4

Д

5

Ж

6

С

7

А

8

Л

9

К

0

О

ПРОВЕРКА

Сколько зайцев
Сколько цыплят
Сколько детей
смогут полететь рукавички?
за забором?



Алиса

Б А З И Л И О

1

Р

2

М

3

Л

4

О

5

И

6

З

7

Э

8

А

9

Б

0

Н

ПРОВЕРКА

Пройди
математические дорожки

2 $\xrightarrow{+2}$ $\xrightarrow{+1}$ $\xrightarrow{+1}$ $\xrightarrow{+3}$

1 $\xrightarrow{+1}$ $\xrightarrow{-2}$ $\xrightarrow{+1}$

7 $\xrightarrow{-2}$ $\xrightarrow{-1}$ $\xrightarrow{+1}$

3 $\xrightarrow{+2}$ $\xrightarrow{+1}$

3 $\xrightarrow{+3}$ $\xrightarrow{-1}$

3 $\xrightarrow{+1}$ $\xrightarrow{+2}$ $\xrightarrow{+1}$ $\xrightarrow{-3}$



А Р Т Е М О Н

1

Т

2

Е

3

А

4

Н

5

Б

6

М

7

О

8

Р

9

В

0

Ч

ПРОВЕРКА

Который час?



КАРАБАС

1

Ф

2

У

3

А

4

Р

5

К

6

Б

7

Н

8

Г

9

С

0

Т

ПРОВЕРКА

Ты с орешков маму
на склад привезли
укваши
мешка для детей
морковкорзинке
Но
Свинок
мешка
Има
Сдай
Сколько
деткам

5
8
10
а
7
4
1
6
кол,
свал
траков
И
айди:
а
в



А Р Л Е К И Н О

1 И

2 А

3 К

4 Л

5 Б

6 Е

7 Н

8 Р

9 С

0 О

ПРОВЕРКА

11	9		7	
		3		5
12	9		5	
		11		12



ТОРТИЛЛА

1

Ж

2

А

3

И

4

У

5

Б

6

Ш

7

Р

8

Л

9

О

0

Т

ПРОВЕРКА

Какое число нужно до
Какого числа стоит
15? Какое число стоит
между числами 10 и 4?....
Получилось 11?



К А Р Л О

1 Л

2 Б

3 И

4 О

5 Б

6 К

7 А

8 Р

9 С

0 Т

ПРОВЕРКА

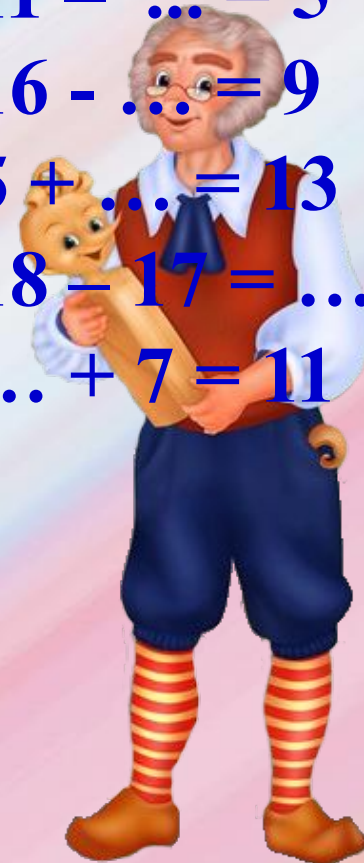
$$11 - \dots = 5$$

$$16 - \dots = 9$$

$$5 + \dots = 13$$

$$18 - 17 = \dots$$

$$\dots + 7 = 11$$



Б У Р А Т И Н О

1 Р

2 А

3 И

4 У

5 Б

6 Ш

7 Н

8 Г

9 О

0 Т

ПРОВЕРКА

$$11 - 6 = \dots$$

$$6 + 8 = 1\dots$$

$$9 + 2 = 1\dots$$

$$12 - 10 = \dots$$

$$18 - 18 = \dots$$

$$5 + 8 = 1\dots$$

$$9 + 8 = \dots$$

$$18 - \dots$$



Реши задачи

ДУРЕМАР

1

Р

2

М

3

А

4

Д

5

У

6

Р

7

М

8

Е

9

А

0

О

ПРОВЕРКА

Чтобы посадить 9 детей, не хватает 2 вестульев. Сколько вестульев в комнате дома?



Д Ж У З Е П П Е

1

Д

2

Е

3

А

4

П

5

Ж

6

З

7

О

8

Р

9


В

0

У

ПРОВЕРКА

Вось число
сто
вопросительного





Молодцы!
Вы прекрасно
справились с
заданиями!
Вот обещанный
сюрприз!





Источники:

Шаблон презентации авторский. Автор – Чумаченко Галина Григорьевна.

[Ролик](#)

[Табличка](#)

[Фон](#)

[Фон](#)

[Видео](#)

[Буратино](#)

[Карло](#)

[Тортилла](#)

[Мальвина](#)

[Джузеппе](#)

[Артемон](#)

[Дуремар](#)

[Алиса](#)

[Базилио](#)

[Пьеро](#)

[Арлекин](#)

[Театр](#)

[Ключик](#)

[Карабас](#)

[Домовой](#)