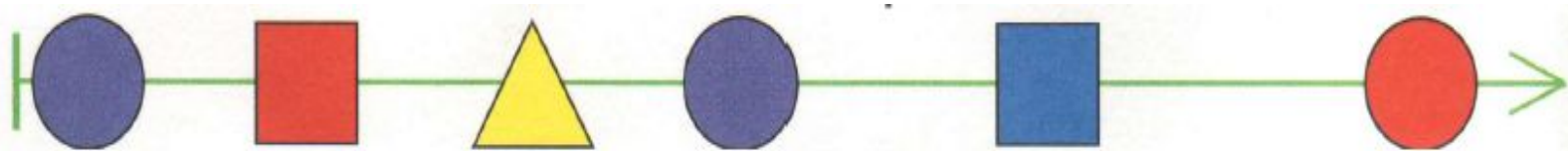


**Проверочный тест**  
**Длина цепочки**  
**Информатика. 3 класс**  
**Тест 1**



## Вопрос № 1

Чему равна длина цепочки?



**A**

**B**

**C**

**6**

**5**

**7**

## Вопрос № 2

Определите длину цепочки **К-О-Р-О-В-А**

<b>A</b>	<b>B</b>	<b>C</b>	<b>D</b>
<b>4</b>	<b>5</b>	<b>6</b>	<b>7</b>

### Вопрос № 3

Определите длину цепочки Ф



**A**

**B**

**C**

**0**

**1**

**2**

## Вопрос № 4

Длина какого слова больше 8

<b>A</b>	<b>БОТВИНЯ</b>
<b>B</b>	<b>РЕВУНЯ</b>
<b>C</b>	<b>БЕГУНЯ</b>
<b>D</b>	<b>ПОПРЫГУНЯ</b>

## Вопрос № 5

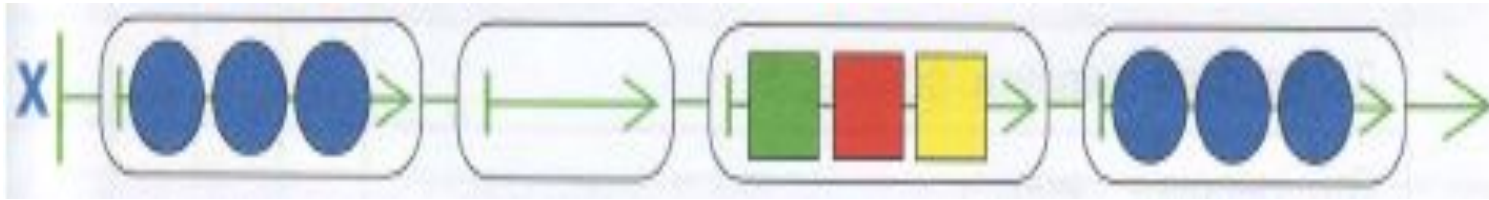
Найди длину цепочки



<b>A</b>	<b>B</b>	<b>C</b>
<b>5</b>	<b>6</b>	<b>7</b>

## Вопрос № 6

Чему равна длина цепочки X



**A**

**9**

**B**

**4**

**C**

**5**

## Вопрос № 7

Чему равна длина третьей бусины цепочки X?

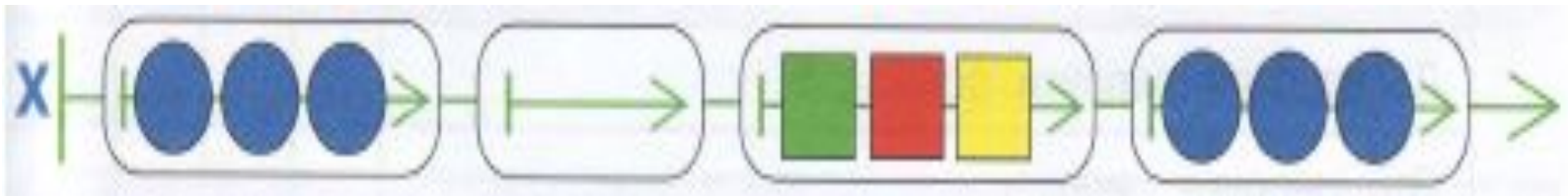


<b>A</b>	<b>B</b>	<b>C</b>	<b>D</b>
<b>3</b>	<b>4</b>	<b>5</b>	<b>0</b>



## Вопрос № 8

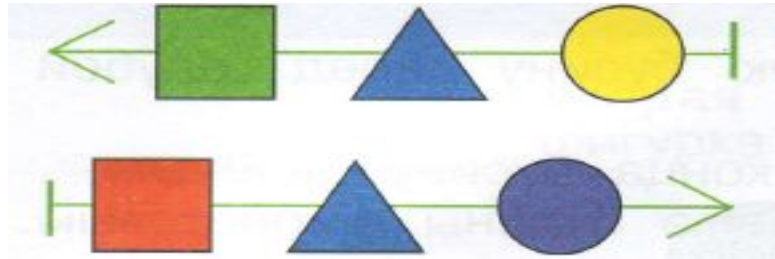
Чему равна длина второй бусины цепочки X?



<b>A</b>	<b>B</b>	<b>C</b>
<b>0</b>	<b>1</b>	<b>3</b>

## Вопрос № 9

Каждая бусина этой цепочки – это слово



**А**

**В**

**С**

**И**

**Л**

**Н**



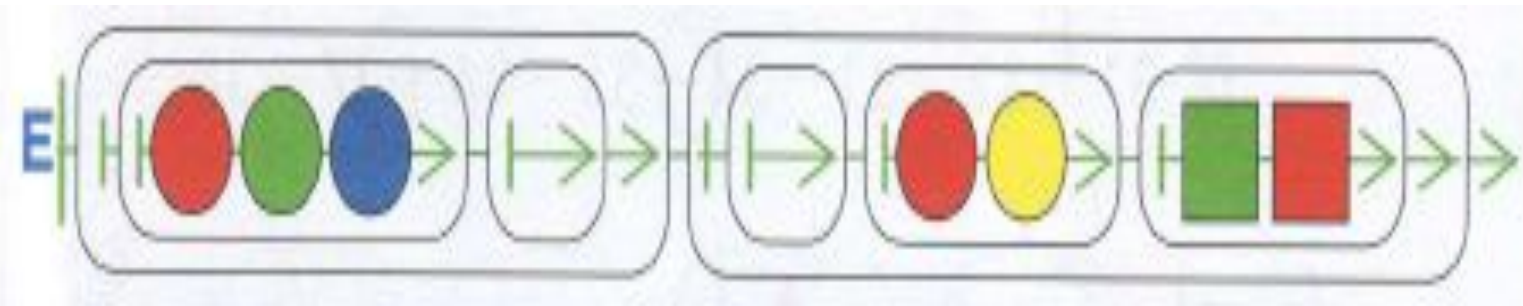
## Вопрос № 10

Мешок Z это мешок букв  
слова.....

<b>A</b>	<b>B</b>	<b>C</b>	<b>D</b>
<b>ПОТОК</b>	<b>ТОПОТ</b>	<b>ТОПОР</b>	<b>ПОРТ</b>

## Вопрос № 11

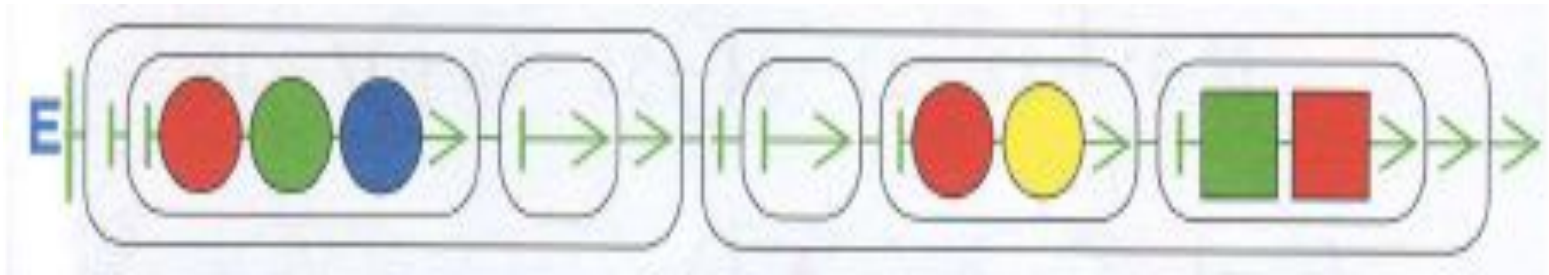
Чему равна длина второй бусины цепочки E?



<b>A</b>	<b>B</b>	<b>C</b>
<b>3</b>	<b>4</b>	<b>5</b>

## Вопрос № 12

Чему равна длина первой бусины цепочки E?



<b>A</b>	<b>B</b>	<b>C</b>
<b>2</b>	<b>3</b>	<b>5</b>

## Вопрос № 13

Чему равна длина цепочки E?



<b>A</b>	<b>B</b>	<b>C</b>
<b>2</b>	<b>3</b>	<b>5</b>

## **Вопрос № 14**

**Завтра будет пятница, значит, сегодня.....**

**А**

**Среда**

**В**

**Четверг**

**С**

**Вторник**

## **Вопрос № 15**

**Сегодня понедельник , значит , позавчера  
было .....**

**А**

**Воскресенье**

**В**

**Суббота**

**С**

**Пятница**



**КОНЕЦ**