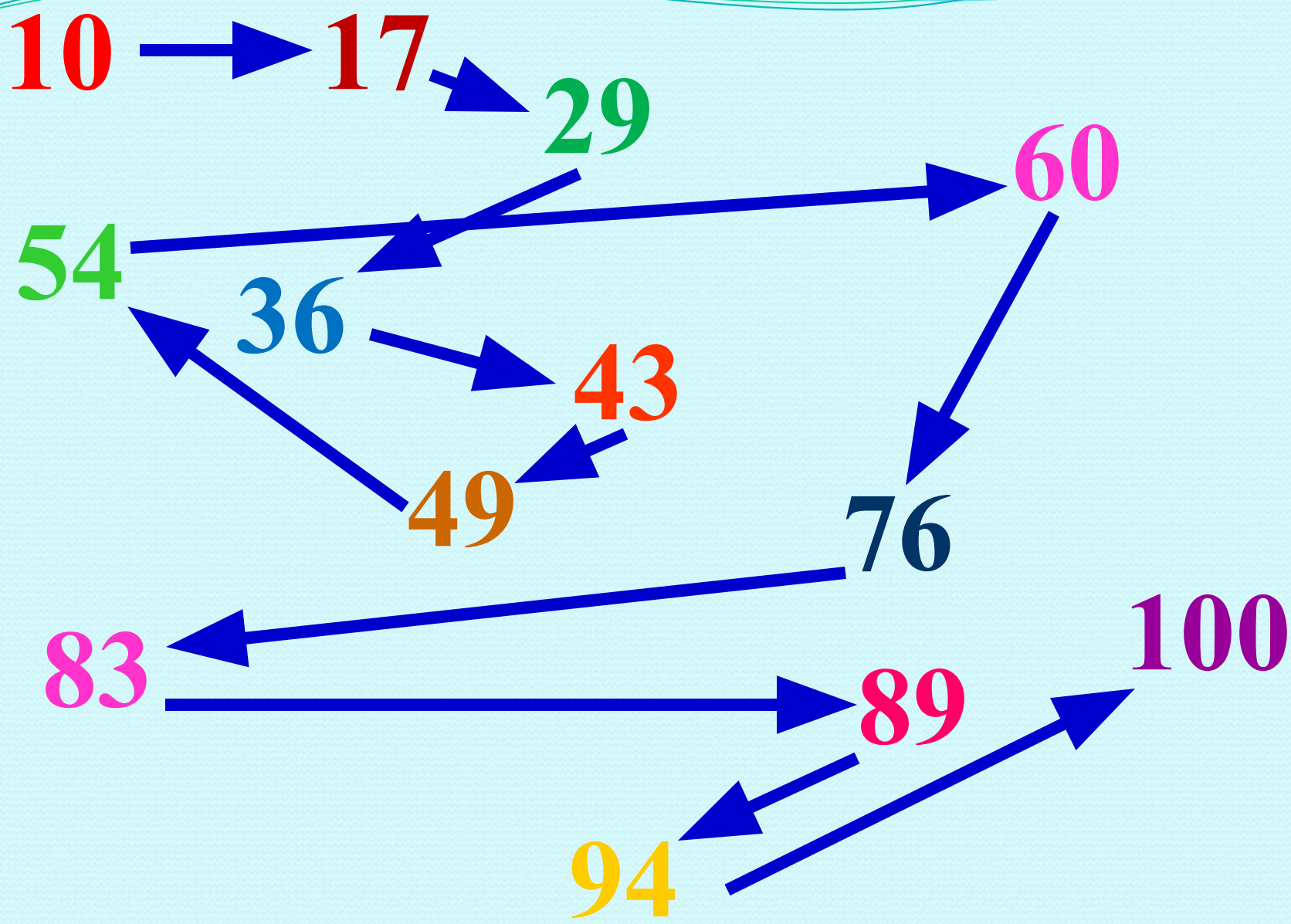



№1. Назовите числа в порядке возрастания



№2. Петух, стоя на одной ноге весит 5 кг.
Сколько он будет весить, стоя на двух ногах?




5 кг



? кг

Задача на смекалку

Во дворе гуляли куры и собаки.
Мальчик посчитал их лапы.
Получилось десять. Сколько могло
быть кур и сколько собак?



2 собаки и 1 курица или 1 собака и 3 курицы

Проблема!



$$8 - 3 + 4 = 9$$

1)

2)

$$8 - 3 + 4 = 1$$

1)

2)

Принято в математике обозначать
очерёдность действий с помощью
скобок.

() Действие которое написано в
скобках

выполняется **первым**.

$$8 - (3 + 4) = 1$$



$$8 - 3 + 4 = 9$$

$$1) 8 - 3 = 5$$

$$2) 5 + 4 = 9$$

$$8 - (3 + 4) = 1$$

$$1) 3 + 4 = 7$$

$$2) 8 - 7 = 1$$

**«Порядок действий
в выражениях
со скобками»**

Алгоритм выполнения действий



1. В скобках
2. По порядку слева направо

Найди значение выражений

● $11 - (5 + 4) = \textcircled{2} \quad \underline{4} \quad \underline{6}$

● $(9 + 6) - 7 = \underline{6} \quad \underline{7} \quad \textcircled{8}$

● $(14 - 8) - 5 = \textcircled{1} \quad \underline{2} \quad \underline{3}$



Молодцы!