

# ИГРЫ ЮНЫХ ЭРУДИТОВ

по теме:  
«О Спорт, ты- Мир»



# 1 Задание

Разминка  
«Веселый огород»

1.



2,5



1,2,5



1,4




4,4,5

2.



1,5,7



1,4



2,5

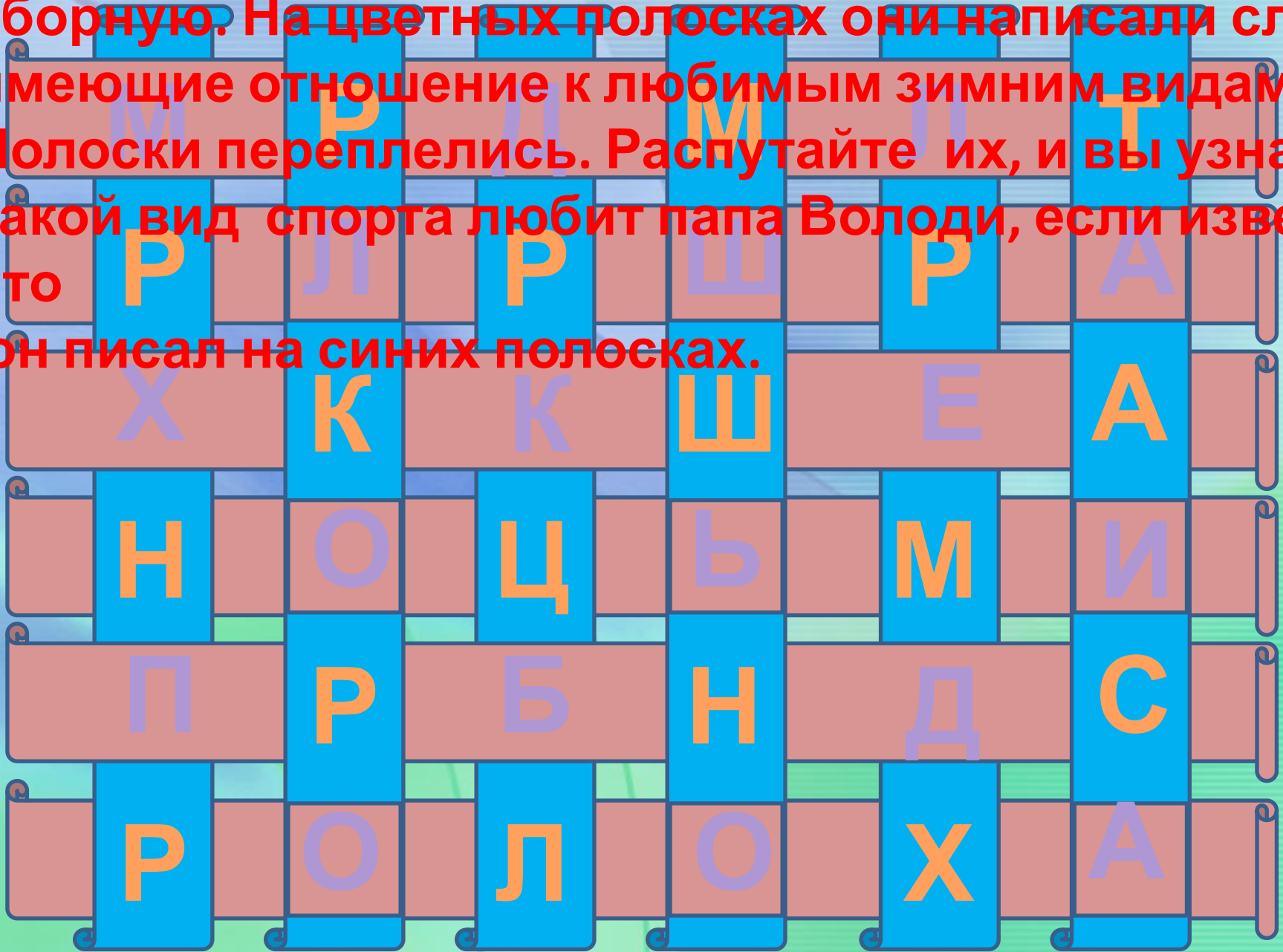


3,4

# 2 Задание

## «Прямая трансляция»

Володя вместе с папой болели за нашу олимпийскую сборную. На цветных полосках они написали слова имеющие отношение к любимым зимним видам спорта. Полоски переплелись. Распутайте их, и вы узнаете какой вид спорта любит папа Володи, если известно что он писал на синих полосках.



М Е Д Д А Л Ь

К Л Ю Ш К А

Х О К К Е Й

К О Н Ь К И

П О Б Е Д А

В О Р О Т А

# З Задание

**Математическая  
разминка  
«Меткий стрелок»**



**Определите,  
в какие  
сектора  
нужно  
попасть  
четырьмя  
выстрелами,  
чтобы  
выбить 50**

**+ + 50**

**редне 50**

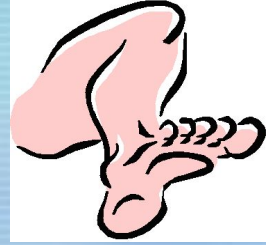



# 4 Задание

## Ребусы « Виды спорта »

1.

**K**



13


2.

„



„


3.



„

**Ь**

„



1. КЕРЛИ



2. АЙКИДО



3. СТРЕЛКОВА  
БА



# 5 Задание

**Анаграммы  
«Такая вот  
Арифметика»**

ГИР + ТАЛОН = Т Р И А Т Л О Н

РАТЬ + ВАР = В Р А Т А Р Ь

ГРЕЛЬ + БАС = С Т Р Е Л Ь Б А

ЛОБ + ТИНА = Б И А Т Л О Н

ПЕРС + КИНО = С О П Е Р Н И К

МИРТ + ПЛАН = Т Р А М П Л И Н

СИТО + ДАН = С Т А Д И О Н

МЕЧ + ПИОН = Ч Е М П И О Н



# 6 Задание

**Математическое  
Задание  
«Загадочный пример»**

# Восстановите пример, заменив картинки цифрами.

$$\begin{array}{r} \begin{array}{ccc} \begin{array}{c} \text{5} \\ \text{+} \\ \text{3} \\ \text{+} \\ \text{6} \\ \hline \text{15} \end{array} & \begin{array}{c} \text{2} \\ \text{+} \\ \text{2} \\ \text{+} \\ \text{5} \\ \hline \text{0} \end{array} & \begin{array}{c} \text{7} \\ \text{+} \\ \text{4} \\ \text{+} \\ \text{2} \\ \hline \text{13} \end{array} \end{array}$$

The image shows a math problem where pictures of people performing activities are used as digits in a vertical addition. The first column shows a skier (5) plus a soccer player (3) plus another skier (6), resulting in 15. The second column shows a weightlifter (2) plus another weightlifter (2) plus a skier (5), resulting in 0. The third column shows the number 7 plus 4 plus 2, resulting in 13. A horizontal line is drawn under the numbers 6, 5, and 2.

# 7 Задание

Филворд

"НАСТОЯЩИЙ СПОРТСМЕН"



Найди слова из списка в сетке. Способ расположения и одно слово указаны.

Бумеранги могут пересекаться, но буквы исторически называются. Из оставшихся букв сложится поговорка.

П	К	К	К	Л	О	С	С	С	Т
Н	Р	А	И	У	А	К	Т	П	Б
О	Е	З	Т	М	Б	А	Т	О	О
П	С	О	О	О	Б	Р	Р	Р	А
Ч	К	С	К	Т	О	О	Т	Т	И
Р	З	Д	Д	Ф	Ш	Г	Г	Б	Л
А	А	З	А	А	И	О	О	И	Б
Е	Ю	Л	Ш	Р	Л	Н	Д	Н	З
У	Л	Д	Т	К	И	Ь	К	Е	Г
И	Л	С	О	Ш	И	А	Ф	А	Р

- КАИ
- ОК
- ГАЛЛ
- ДАРТС
- ФИНИ
- СПОР
- Ш
- ГОЛЬ
- КРОС
- ШАШКИ
- С
- ЛИДЕ
- СТАРТ
- ГОНК
- ДЗЮД
- САМБ
- КУБО
- О
- К



# 8 Задание

Логическая задачка  
«На соревнованиях»

На зимние соревнования приехали

Джессика, Ник и Линда из городов Лондона,

Вены и Прага. Ребята занимаются разными

и занимается фигурным  
видами спорта: фигурным катанием,

катанием,  
хоккеем и фигурным катанием.

Ник приехал из Вены  
И определите кто каким видом спорта

занимается и в каком городе живет, если

занимается хоккеем

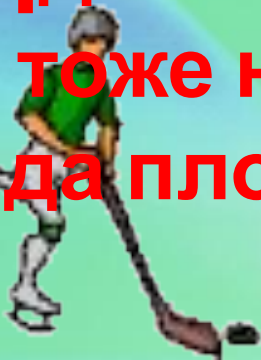
известно, что  
Линда живет в Праге она

Джессика не любит хоккей, но хотела бы

сбегать в Вену и Прагу.

Ник тоже не прочь побывать в Праге

Линда плохо катается на коньках



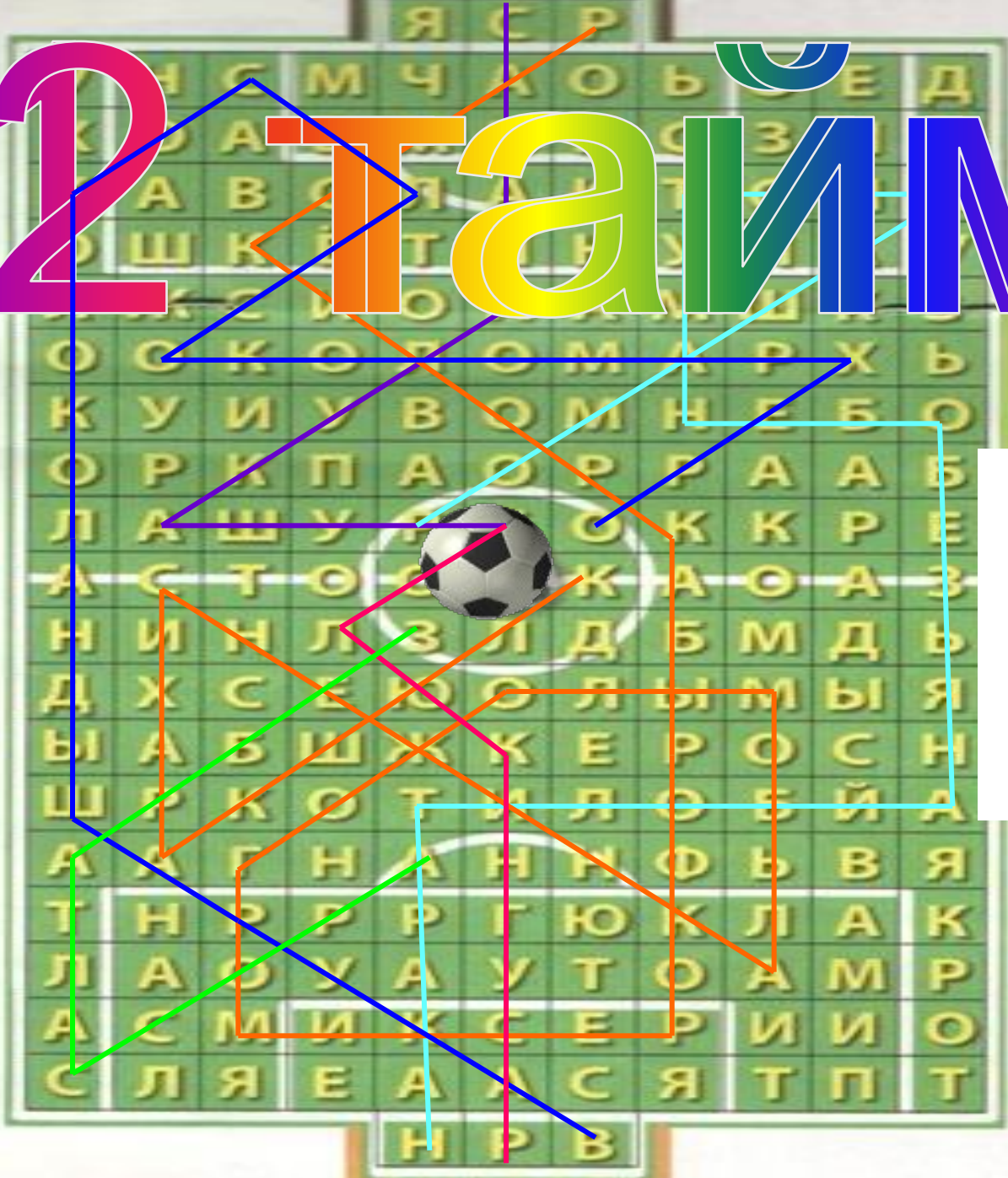
# 9 Задание

К р о с с в о р д

« П А С В В О Р О Т А »

Время выполнения 5  
мин

# 2 Тайм Гол



Влад

Гол



# 10 Задание

## «Загадки»