



# *Наказові знаки*

# ПЛАН УРОКУ

Тема уроку - «НАКАЗОВІ ЗНАКИ».

Мета уроку – сформувати в учнів знання про призначення і застосування наказових знаків, розвивати логічне мислення і увагу, розв'язувати практичні завдання, вміння робити самостійні висновки і узагальнення, сприяти вихованню в учнів інтересу до предмету та професії.

Тип уроку – засвоєння нових знань.

Метод – пояснювально-ілюстративний, з елементами частково-пошукового.

Міжпредметні зв'язки – безпека дорожнього руху, практичне водіння автомобіля.

Матеріально-технічне забезпечення – Комп'ютерний клас, програмне забезпечення.

## Запитання для контролю знань:

Назвіть групи дорожніх знаків.

Яку форму мають попереджувальні знаки?

Назвіть знаки пріорітету.



# Попереджувальні знаки



# Знаки пріоритету





# Наказові знаки






Яку форму мають  
попереджувальні знаки?



# Назвіть знаки пріорітету.


-  2.1-Дати дорогу
- 2.2-Прізд без зупинки заборонено



# Назвіть знаки пріоритету.



- 2.3-Головна дорога



- 2.4 – Кінець головної дороги

# Назвіть знаки пріоритету.



- 2.5 – Перевага зустрічного руху



- 2.6 – Перевага перед зустрічним рухом

Погане знання дорожніх знаків,  
неуважність водія, поганий технічний стан  
автомобіля, вживання алкоголю  
призводить до таких наслідків

- Результати ДТП



# Наказові знаки



# Знак 4.1 “Рух прямо”



- Дія знака не поширюється на ТЗ, що рухаються за встановленими маршрутами.
- Дія знака поширюється на перехрещення проїзних частин, перед яким вони встановлені.
- Дія знака, встановленого на початку дороги або за перехрестям, поширюється на ділянку дороги до найближчого перехрестя.
- Знак не забороняє поворот праворуч у двори та інші прилеглі до дороги території

5

У яких напрямках дозволено рух?  
(напрямки А і В в'їзди у двори)



1. Тільки А.
2. Тільки Б.
3. А і Б.
4. А, Б,  
В і Г.
5. А, Б і В.

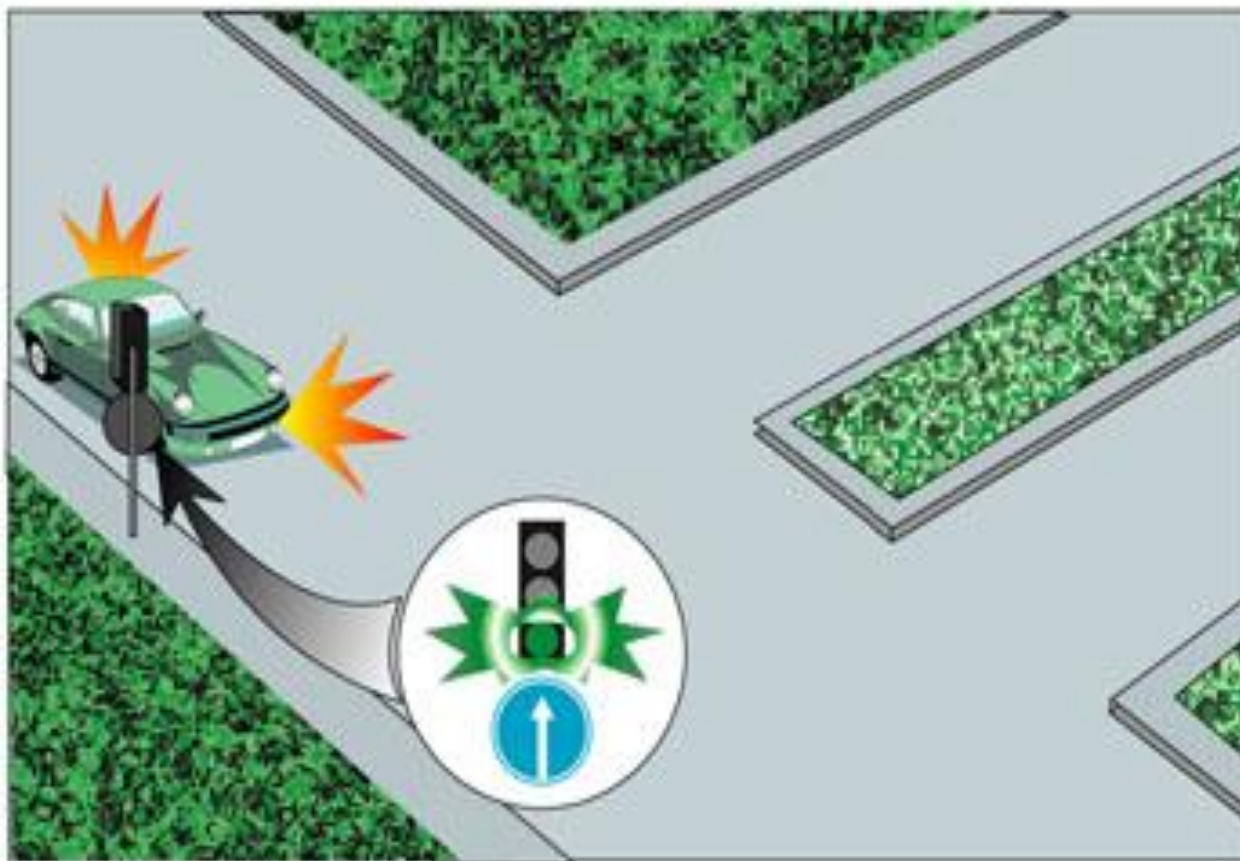
4.1  
Дод. № 1

- Правильна відповідь – 3 (у напрямках А і Б)



5

Чи дозволяється на цьому перехресті повернути ліворуч?



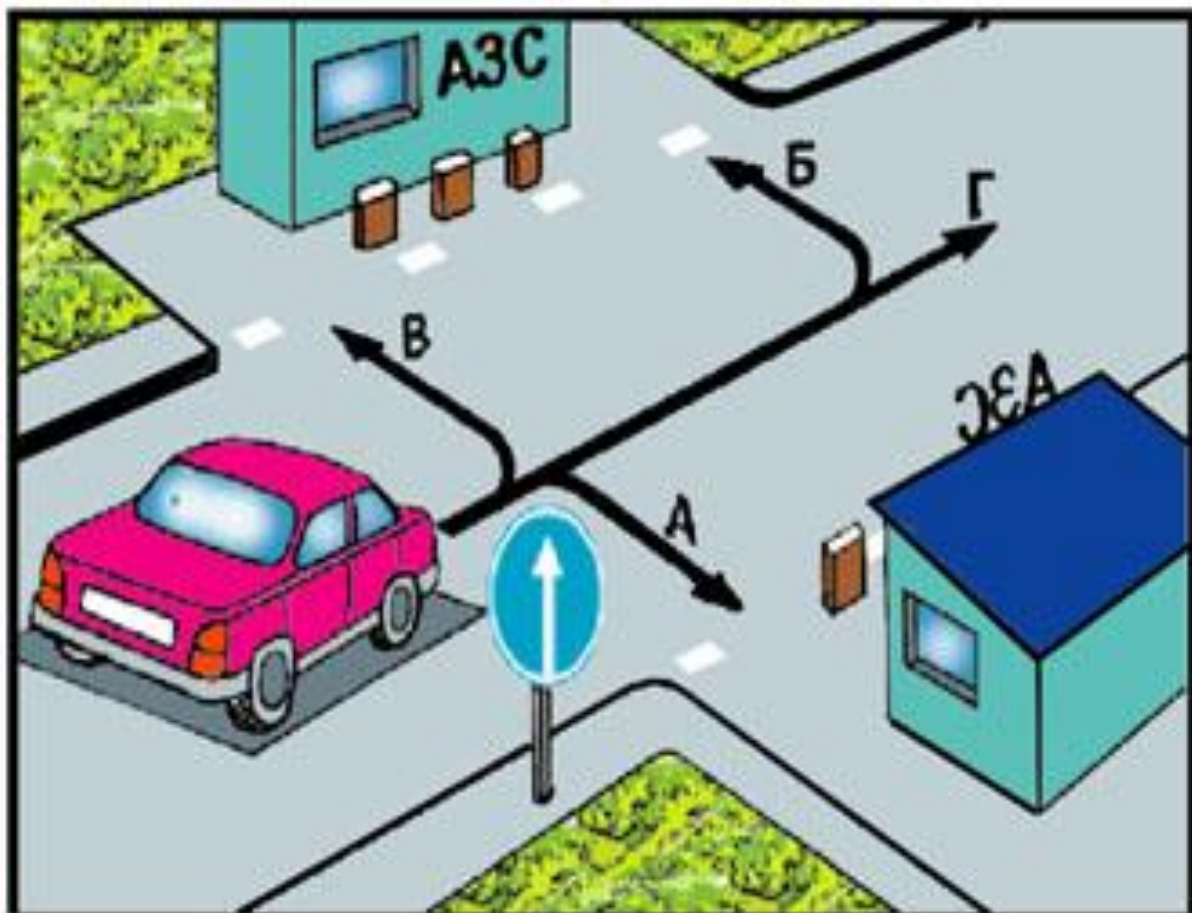
1. Дозволяється у другий проїзд.
2. Забороняється.

4.1  
Дод. №1

- Правильна відповідь – 1 (дозволяється у другий проїзд)

5

У яких напрямках із числа позначених стрілками дозволяється рух?



1. Тільки в напрямку А.
2. Тільки в напрямку Б.
3. Тільки в напрямку В.
4. Тільки в напрямках А і Г.
5. Тільки в напрямку Г.

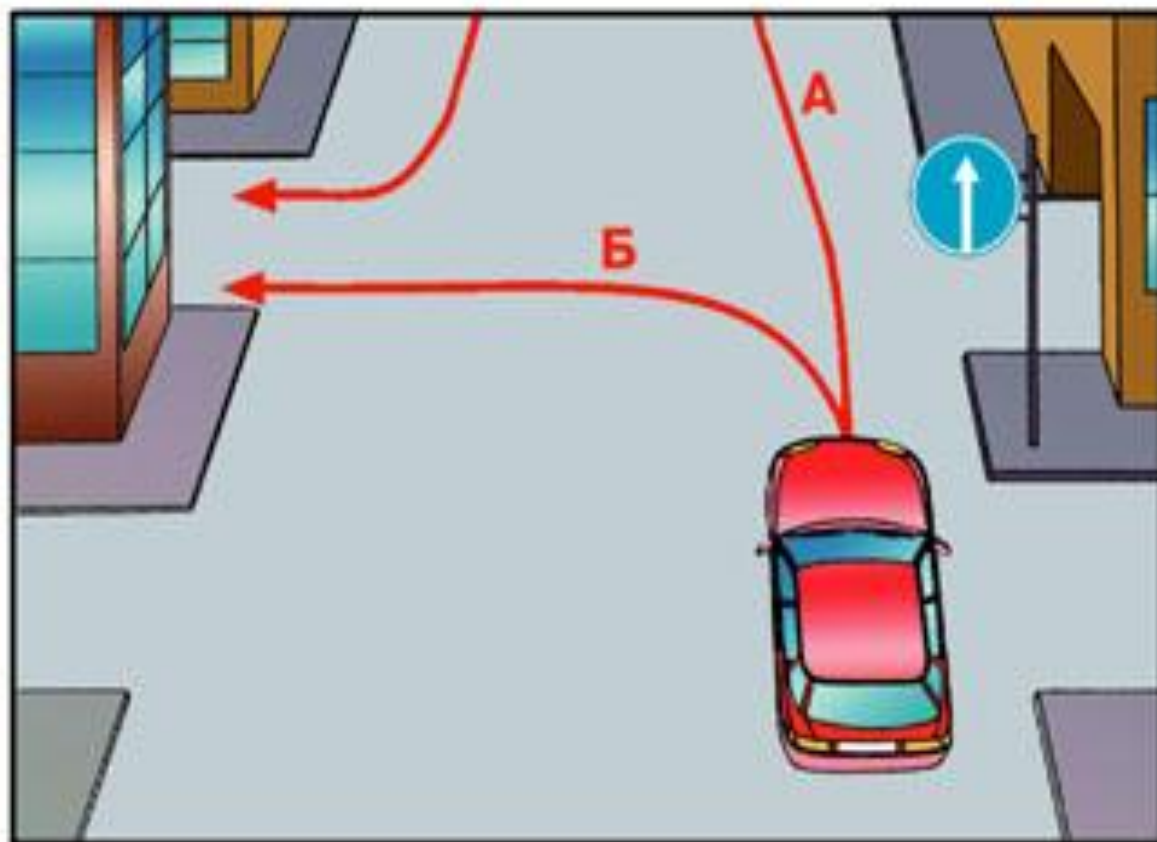
4.1

Дод. № 1

Правильна відповідь – 4 (тільки в напрямках А і Г)

5

У дворі зліва мешкає власник даного автомобіля. Яким із зазначених маршрутів дозволяється водієві проїхати до себе у двір?



1. Маршрутом Б.
2. Маршрутом А.
3. Маршрутами А і Б.

4.1 Дод. 1

Правильна відповідь – 2 (тільки маршрутом А)

# Знак 4.2 “Рух праворуч”



- Дія знака не поширюється на ТЗ, що рухаються за встановленими маршрутами.
- Дія знака поширюється на перехрещення проїзних частин, перед яким вони встановлені.

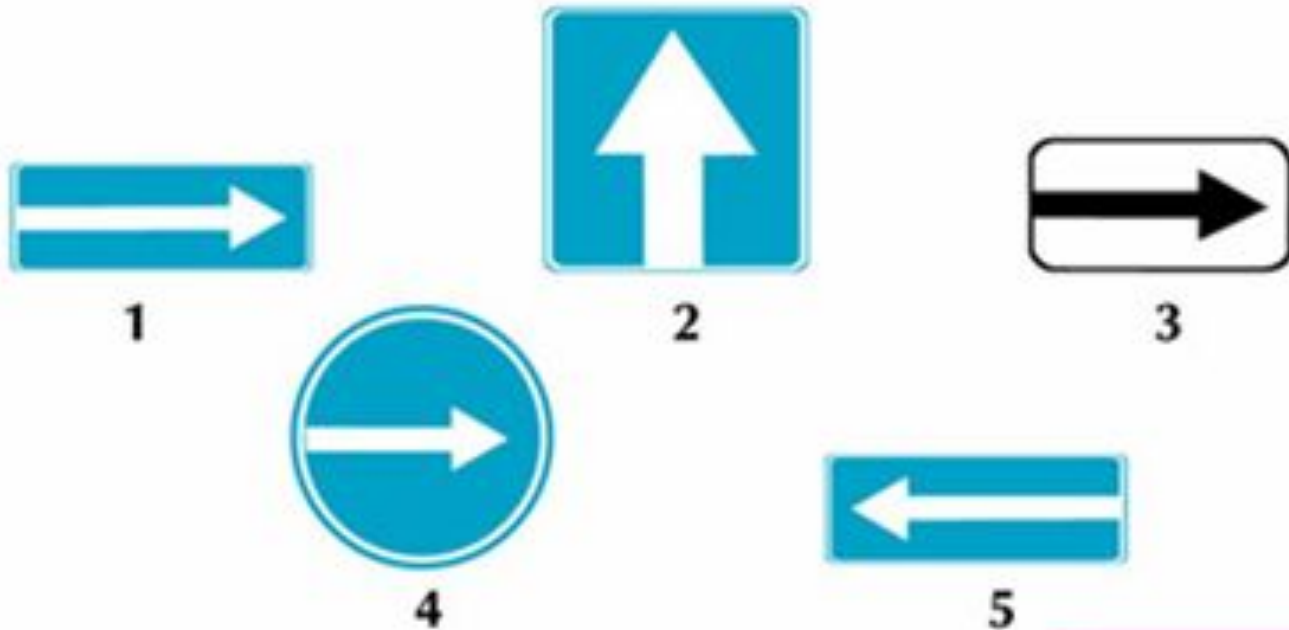
## Чи дозволяється водію продовжувати рух прямо?



1. Забороняється. Дозволяється тільки водіям маршрутних транспортних засобів.
2. Забороняється. Дозволяється тільки водіям легкових автомобілів, що виконують невідкладне завдання.
3. Забороняється в будь-якому випадку.

**■ Забороняється. Дозволяється тільки водіям маршрутних транспортних засобів.**

**Який з цих знаків називається «Рух праворуч»?**



**1. Перший. 2. Другий. 3. Третій. 4. Четвертий. 5. П'ятий**

- **Четвертий знак**

## Цей дорожній знак



1. Дозволяє рух тільки в напрямку стрілки.
2. Дозволяє об'їзд перешкоди в напрямку стрілки.
3. Вказує на дорогу з одностороннім рухом.

- Дозволяє рух тільки в напрямку стрілки

# Знак 4.3 “Рух ліворуч”



- Дія знака не поширюється на ТЗ, що рухаються за встановленими маршрутами.
- Дія знака поширюється на перехрещення проїзних частин, перед яким вони встановлені.
- Даний знак дозволяє і розворот.



4

Який знак вказує обов'язковий напрямок руху на перехресті?



1



2



3



4



5

4.3  
Дод. № 1

- Правильна відповідь - четвертий

3

Цей дорожній знак:



1. Дозволяє рух тільки в напрямку, вказаному стрілкою, а також розворот.
2. Дозволяє об'їзд перешкоди зі сторони, вказаної стрілкою.
3. Позначає в'їзд на дорогу з одностороннім рухом.

4.3 Дод. 1

- Правильна відповідь – перша.

# Знак 4.4 “Рух прямо або праворуч”



- Дія знака не поширюється на ТЗ, що рухаються за встановленими маршрутами.
- Дія знака поширюється на перехрещення проїзних частин, перед яким вони встановлені.

Який знак забороняє розворот?



1



2



3

- Правильна відповідь – 1 і 3 знаки

**Дія яких знаків не поширюється на маршрутний транспорт?**



1



2



3

- **Правильна відповідь – всіх знаків**

# Знак 4.5 “Рух прямо або ліворуч”



- Дія знака не поширюється на ТЗ, що рухаються за встановленими маршрутами.
- Дія знака поширюється на перехрещення проїзних частин, перед яким вони встановлені.
- Даний знак дозволяє і розворот.

**Який із цих знаків забороняє розворот?**



1



2



3



4

- **Правильна відповідь – третій знак**

# Знак 4.6 “Рух праворуч або ліворуч”



- Дія знака не поширюється на ТЗ, що рухаються за встановленими маршрутами.
- Дія знака поширюється на перехрещення проїзних частин, перед яким вони встановлені.
- Даний знак дозволяє і розворот.



**Який знак зобов'язує водія рухатись направо або  
наліво**



1



2



3



4



5

1.4.3  
Дод.№ 1

- **Правильна відповідь – перший знак**



**4.7 – Об'їзд перешкоди з правого боку.**



**4.8 – Об'їзд перешкоди з лівого боку.**



**4.9 – Об'їзд перешкоди з лівого або правого боку.**

**Вказані знаки вказують обов'язковий напрямок об'їзду перешкод.**

Який знак називається «Об'їзд перешкоди з лівого боку»




1



2



3



4

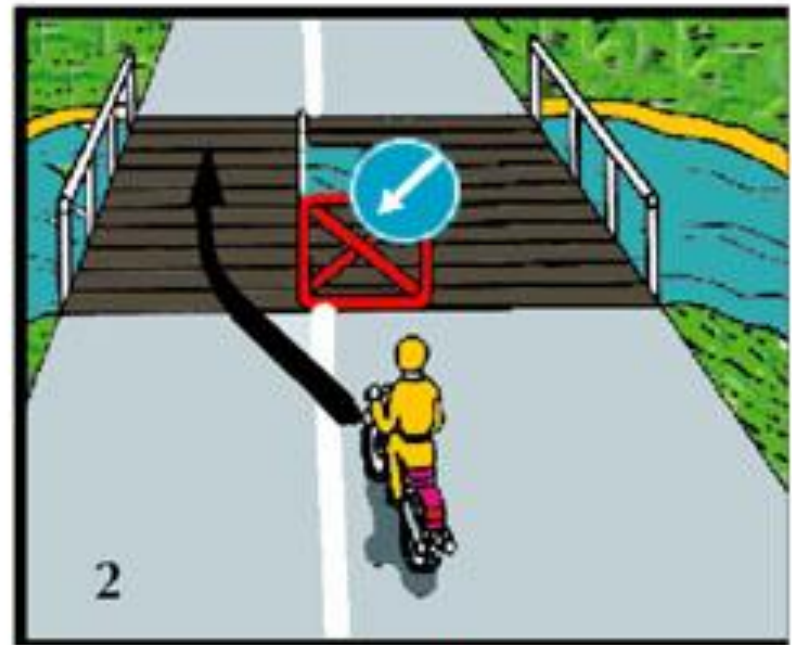
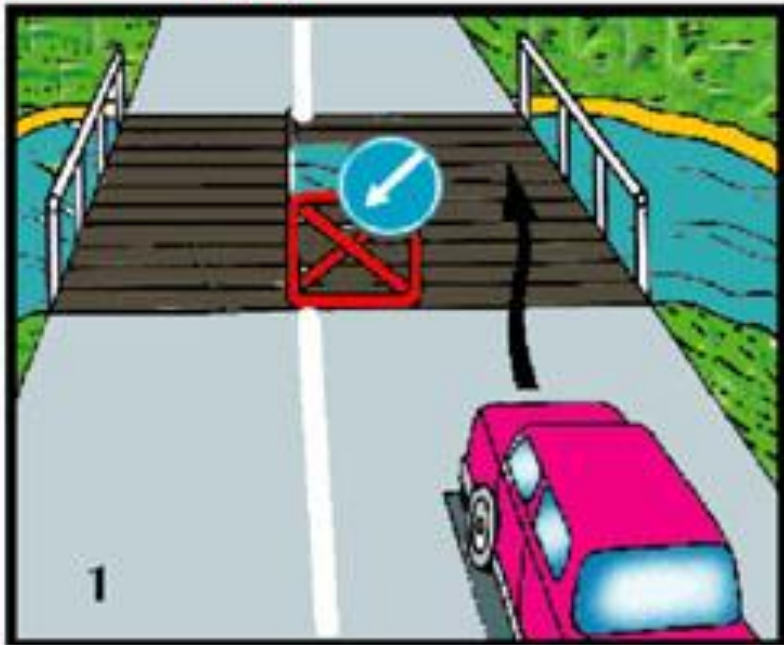


5

- Правильна відповідь – перший знак

7

На якому малюнку показано правильний напрямок руху?



1. На першому. 2. На другому. 3. На обох.

8.2

- Правильна відповідь – на другому

# Знак 4.10 “Круговий рух”



- Вимагає об'їзду клумби (центрального острівця), площі в напрямку, показаному стрілками на перехресті з круговим рухом

3

Цей дорожній знак:



1. Якщо він установлений перед в'їздом на майдан, дає право на першочерговий рух транспортним засобам, що рухаються по ньому.
2. Дозволяє рух тільки в напрямку, вказаному стрілками.
3. Відповідає умовам, указаним в обох відповідях.

4.10

Дод. №1

- Правильна відповідь – друга.

5

У якому напрямку заборонено рух?



1. Праворуч у перший проїзд.
2. Праворуч у другий проїзд.
3. Праворуч у перший і другий проїзди.


3.22  
Дод. № 1

- Правильна відповідь – праворуч у другий проїзд

Який із зображених знаків вказує на круговий рух?



1



2



3



4

- Правильна відповідь – третій знак.



# Знак 4.11. “Рух легкових автомобілів”



- Дозволяє рух лише легкових автомобілів, автобусів, мотоциклів, маршрутних ТЗ і вантажних автомобілів, дозволена маса яких не перевищує 3,5 тон.
- Дія знака не поширюється на ТЗ, що обслуговують громадян чи належать громадянам, які проживають або працюють у позначеній зоні, а також на ТЗ, що обслуговують підприємства, які розташовані у цій зоні. У таких випадках ТЗ повинні в'їжджати до позначеної зони і виїжджати з неї на найближчому перехресті до місця призначення.

Який із знаків називається «Рух легкових автомобілів»?



1



2



3



4



5

- Правильна відповідь – п'ятий знак.

4

Який із зображених знаків дозволяє транзитний рух мотоциклів?



1



2



3



4



5

4.11  
Дод. № 1

- Правильна відповідь – четвертий знак.

# Знак 4.12. “Доріжка для велосипедистів”



- Дозволяє рух лише на велосипедах. Якщо немає тротуару або пішохідної доріжки, то дозволяється також рух пішоходів.

На дорогах, позначених цим знаком, дозволяється рух:



1. Тільки на мопедах.
2. На мотоциклах, мопедах і велосипедах.
3. Тільки на мопедах і велосипедах.
4. Тільки на велосипедах.

- Правильна відповідь – тільки на велосипедах.

**Чи дозволяє цей знак рух пішоходів?**



- 1. Дозволяє.**
- 2. Забороняє.**
- 3. Дозволяє, якщо немає тротуару або пішохідної доріжки.**

**■ Правильна відповідь – третя.**

# Знак 4.13. “Доріжка для пішоходів”



- Дозволяє рух лише пішоходів

Який дорожній знак називається «Доріжка для пішоходів»?



1



2



3



4



5

- Правильна відповідь – четвертий знак.



**На дорогах позначених таким знаком дозволено рух:**



- 1. Тільки пішоходів і велосипедистів.**
- 2. Тільки пішоходів.**
- 3. Тільки пішоходів, велосипедистам дозволено рух у світлу пору доби.**

**■ Правильна відповідь – друга.**

# Знак 4.14. “Доріжка для пішоходів і велосипедистів”



- Дозволяє рух лише пішоходів і велосипедистів

**Який з вказаних знаків дозволяє рух пішоходів і велосипедистів?**



1



2



3



4



5



6



7



8



9



10

**Правильна відповідь – восьмий знак.**

# Знак 4.15. “Доріжка для вершників”



- Дозволяє рух лише вершників

# Знак 4.16. “Обмеження мінімальної швидкості”



- Наказує рухатись із швидкістю не меншою, ніж вказано на знаку, але й не більшою, ніж це передбачено пунктами 12.4 -12.7 Правил дорожнього руху.

**З якою швидкістю дозволено рух в населеному пункті позначеному знаком «Початок населеного пункту» на білому фоні в зоні дії цього знаку?**



- 1. Не більше 50 км/год.**
- 2. Не менше 50 км/год, але не більше 90 км/год.**
- 3. В межах 50 – 60 км/год.**

**■ Правильна відповідь – третя.**

# Знак 4.17. “Кінець обмеження мінімальної швидкості”



- Закінчує дію знака 4.16 “Обмеження мінімальної швидкості”.

Який із зображених знаків дозволяє рух зі швидкістю  
60 км/год?



1



2

1. Тільки перший.
2. Тільки другий.
3. Обидва.

■ Правильна відповідь – обидва знаки.





- Домашнє завдання – “Правила дорожнього руху”, кольорова вклейка “Наказові знаки” та коментарі на стор. 47.